

تم تحميل وعرض المادة من



موقع مادتي هو موقع تعليمي يعمل على مساعدة المعلمين والطلاب وأولياء الأمور في تقديم حلول الكتب المدرسية والاختبارات وشرح الدروس والملاحظات والتحاير وتوزيع المنهج لكل المراحل الدراسية بشكل واضح وسهل مجاناً بتصفح وعرض مباشر أونلاين وتحميل على موقع مادتي

حمل تطبيق مادتي ليصلك كل جديد



بطاقة متابعة

الفصل الدراسي / الثاني

الصف / خامس

الاسم /

المدرسة /

م	الشهر	الواجبات	المهام الادائية	المشاركة	الاختبارات القصيرة	ملاحظات المعلم/ة	توقيع ولي الامر
١							
٢							
٣							
٤							

مدير-ة المدرسة /

التوقيع /

التاريخ /

معلم/ة المادة /

التوقيع /

التاريخ /

الملاحظات /

*الإجابة بيد الطالب-ة فقط بدون تدخل

* الدفتر لا يغني عن الكتاب المدرسي

* يحتوي الدفتر على نماذج من اختبارات نافس السابقة .

*الدفتر مساحة حرة لك للإجابة على أهم المهارات بخطك الجميل .

أقرأ وأتعلم

من خلال قراءتك للصفحات من (١٢-٢٠) الفهم القرآني

أكمل العبارات التالية بكلمات مناسبة :

الرطوبة – الإشعاع الشمسي -الستراتوسفير-الضغط الجوي- الطقس-الرياح العلمية



(١)..... الطاقة الشمسية التي تصل كوكباً ما .

(٢)..... هي كمية بخار الماء في الهواء .

(٣) طبقة في الغلاف الجوي تمتد ٥٠ كم وتتميز بطبقة الأوزون .

(٤)..... وصف لحالة الجو في الطبقة السفلية (التروبوسفير) .

(٥)..... القوة الواقعة على مساحة معينة بفعل وزن الهواء .

(٦)..... رياح تهب باستمرار لمسافات طويلة في اتجاهات معينة معروفة .

اختر من المجموعة [أ] ما يناسب المجموعة [ب] .

المجموعة [أ]	الإجابة	المجموعة [ب]
١. الرياح العالمية .	[]	عوامل تتحكم في تغيير الضغط الجوي
٢. نسيم البحر.	[]	من طبقات الغلاف الجوي وتسمى طبقة الطقس
٣. الحجم ودرجة الحرارة.	[]	اندفاع الهواء البارد باتجاه اليابسة في النهار
٤. التروبوسفير .	[]	تهب باستمرار ولمسافات طويلة مثل (التجارية)

ما السبب // مدينة الرياض أعلى حرارة من مدينة لندن ؟

ضع علامة [√] أو [x] أمام العبارات الآتية .

(١) تقاس سرعة الرياح بجهاز يسمى الأنيمومتر. []

(٢) كلما ارتفعنا عن سطح البحر يزداد الضغط الجوي []



نرتب طبقات الغلاف الجوي ؟



- ١-.....
- ٢-.....
- ٣-.....
- ٤-.....
- ٥-.....

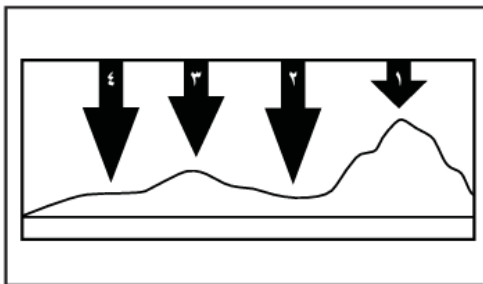
أمامك أجهزة مستخدمة لقياس سرعة الرياح نحدد اسم كل جهاز



اختر الإجابة الصحيحة :

يستعمل البارومتر لقياس.....			
أ-الضغط الجوي	ب-اتجاه الرياح	ج-سرعة الرياح	د-الرطوبة
الرياح العالمية.....			
أ-تهب باستمرار فوق مساحات كبيرة	ب-تتحرك على شكل حلقات	ج-تسخن الأرض بشكل غير متساوٍ	د-تسبب ضغطاً جويّاً
في أي طبقات الغلاف الجوي تحدث معظم تغيرات الطقس؟			
أ-التروبوسفير	ب-الستراتوسفير	ج-الميزوسفير	د-التيرموسفير
ماذا يحدث عند ارتفاع درجة حرارة الهواء؟			
أ-تزداد المسافة بين الجزيئات وتقل كثافته	ب-تقل المسافة بين جزيئات الهواء وتزداد كثافته	ج-يزداد الضغط الجوي	د-تقل حركة جزيئات الهواء

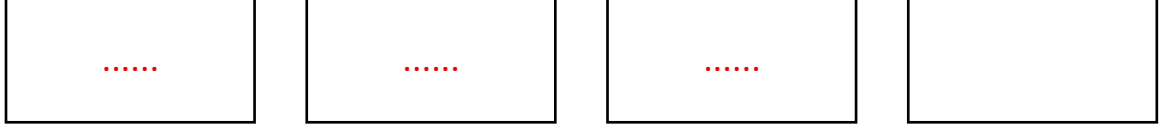
في الشكل أدناه يمثل السهم عمود الهواء فوق كل منطقة .



في أي موقع يكون الضغط الجوي أقل ما يمكن عند درجة الحرارة نفسها ؟

- أ-١
- ب-٢
- ج-٣
- د-٤

ما الذي يغير الضغط الجوي؟



مهارة التلخيص

نصق المطوية صفحة ٢١

أقرأ وأتعلم

من خلال قراءتك للصفحات من (٢٦-٣٢) الفهم القرائي

ضع-ي الكلمة المناسبة في الفراغات التالية .

(الغيوم الريشية -الجبهات الهوائية - خريطة الطقس - المرتفع الجوي -الغيوم الركامية)

- (١) منطقة التقاء الكتل الهوائية المختلفة .
- (٢) تستخدم لتبين الضغط الجوي ومتغيرات أخرى مختلفة .
- (٣) تتشكل على ارتفاعات متوسطة وتتميز بأنها منفردة وسميكة
- (٤) هو كتلة من الهواء يكون الضغط في مركزها مرتفع .
- (٥) تتشكل على اعلى ارتفاع وتتكون من بلورات متجمدة.

نستنتج نوع الهطول في كل مما يلي :



- (١) درجة حرارة الهواء أكبر من درجة تجمد الماء . [.....]
- (٢) درجة حرارة الهواء أقل من درجة تجمد الماء . [.....]

نختار من المجموعة [أ] ما يناسب المجموعة [ب] .

المجموعة [أ]	الإجابة	المجموعة [ب]
١. الغيوم الطبقيّة	[]	يتكون مع هطول المطر حيث درجة الحرارة أقل من درجة تجمد الماء.
٢. الكتلة الهوائية	[]	تتشكل على ارتفاعات منخفضة .
٣. المطر المتجمد	[]	منطقة واسعة من الهواء تمتاز بدرجة حرارة ورطوبة متشابهة .

صح أم خطأ:

()	عندما تكون درجة الحرارة بالقرب من سطح الأرض منخفضة فإن بخار الماء يشكل الضباب
()	يقاس الضغط الجوي باستعمال البارومتر

اختار الإجابة الصحيحة :

أي المتغيرات التالية يقيسها علماء الأرصاد لتوقع حالة الطقس؟


أ- ضغط الهواء	ب- البارومتر	ج- عدد السكان	د- حركة المرور
أي مما يلي ليس شكلاً من أشكال الهطول الصلب؟			
أ- المطر	ب- الثلج	ج- البرد	د- المطر المتجمد
غيوم سميكة تتشكل على ارتفاعات متوسطة			
أ- الريشية	ب- الطباقية	ج- الركامية	د- ضباب
ما نوع الهطول الذي يتشكل عند تراكم قطرات الماء فوق بلورات الجليد في أثناء العواصف الرعدية؟			
أ- قطرات مطر	ب- برد	ج- مطر متجمد	د- ثلج

علام خريطة الطقس:



.....

.....

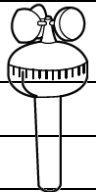


مهارة التلخيص .. نلصق المطوية صفحة ٢٦ هنا




التدريب الأول لمهارات
مادة العلوم الصف خامس



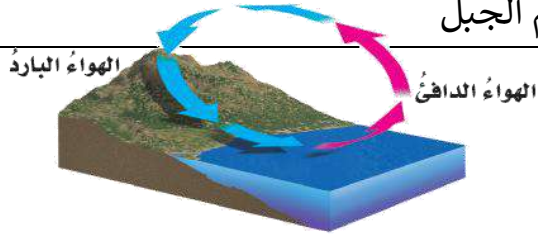
	١- ماذا يمكن ان تقيس هذه الأداة ؟		
	أ	اتجاه الرياح	ب
ج	كمية الهطول	د	الضغط الجوي

٢- أي أنواع الغيوم التالية أكثر ارتفاعاً عن سطح الأرض؟			
أ	ريشية	ب	ركامية
ج	طباقية	د	ضباب



٣- ما نوع الغيوم المبينة في الشكل ؟			
أ	ريشية	ب	طباقية
ج	ركامية	د	ضباب

٤- ما نوع الرياح المحلية التي تظهر في الشكل ؟			
أ	نسيم البر	ب	نسيم البحر
ج	نسيم الوادي	د	نسيم الجبل



أ	ب	ج	د	١
Ⓐ	Ⓑ	Ⓒ	Ⓓ	١
أ	ب	ج	د	٢
Ⓐ	Ⓑ	Ⓒ	Ⓓ	٢
أ	ب	ج	د	٣
Ⓐ	Ⓑ	Ⓒ	Ⓓ	٣
أ	ب	ج	د	٤
Ⓐ	Ⓑ	Ⓒ	Ⓓ	٤
أ	ب	ج	د	٥
Ⓐ	Ⓑ	Ⓒ	Ⓓ	٥
أ	ب	ج	د	٦
Ⓐ	Ⓑ	Ⓒ	Ⓓ	٦



نظّل جيداً بالقلم الرصاص

أقرأ وأتعلم

من خلال قراءتك للصفحات من (٤٤-٥١) الفهم القرأني

ضع-ي الكلمات التالية أمام ما يناسبها :

{ العاصفة الرعدية- الرعد-الإعصار الدوار - الإعصار القمعي-الأمواج العاتية }




- ١- صوت التمدد الفجائي العنيف الذي يحدث للهواء .
- ٢- عاصفة ممطرة فيها برق ورعد.
- ٣- هو دوران سحابة على شكل قمعي يصاحبه رياح شديدة .
- ٤- تسببها الأعاصير الحلزونية وتسبب ارتفاعاً للماء .
- ٥- أي عاصفة ذات ضغط منخفض في مركزها وتسبب نمطاً دورانياً .

اختر الإجابة الصحيحة :

تحول العاصفة عندما تزيد سرعة الرياح فيها على ١١٩ كم في الساعة إلى			
أ-إعصار قمعي	ب-إعصار حلزوني	ج-عاصفة ثلجية	د-إعصار قمعي
تحدث في المناطق الجافة عندما تهب الرياح فوق المناطق التي لا يغطيها غطاء نباتي			
أ-العاصفة الرملية	ب-العاصفة الثلجية	ج-العاصفة الجليدية	د-العاصفة الرعدية
أي مما يأتي عاصفة ذات ضغط منخفض في مركزها ؟			
أ-العاصفة الرعدية	ب-العاصفة الجليدية	ج-الإعصار القمعي	د-العاصفة الثلجية

ما الأدوات التي يستخدمها خبراء الأرصاد لتتبع العواصف .



- ١)
- ٢)
- ٣)



ما سبب تكون البرق ؟

.....

أقرأ وأتعلم

من خلال قراءتك للصفحات من (٥٦-٦٠) الفهم القرائي

أكمل الفراغات بالمصطلحات المناسبة ؟

[المناخ . التيار المائي . الرياح . ظل المطر . التغير المناخي]

- (١) تسمى المنطقة من الجبل التي تقع في الجانب غير المواجه للرياح
- (٢) هو متوسط الحالة الجوية في مكان ما خلال فترة زمنية محددة .
- (٣) يُعرف بأنه حركة مياه المحيط المستمرة .
- (٤) التغير المؤثر والطويل المدى في معدل حالة الطقس لمنطقة ما هو

ماهي العوامل المؤثرة في المناخ :



- (١)
- (٢)
- (٣)
- (٤)
- (٥)

صح أم خطأ/

- ١- كلما زاد ارتفاع أي منطقة عن مستوى سطح البحر زادت برودتها () .
- ٢- تسمى المنطقة من الجبل التي تقع في الجانب الغير مواجه للرياح ظل المطر () .

اختر الإجابة الصحيحة:

ماذا تسمى الحركة المستمرة الماء المحيط ؟			
أ-هطولاً	ب-إعصاراً	ج-أعلى مد	د-تياراً مائياً
أي المتغيرات الآتية ليست من المتغيرات التي تؤثر في مناخ منطقة ما ؟			
أ-المنطقة المعتدلة	ب-الارتفاع	ج-دوائر العرض	د-التيارات المائية
أي العبارات التالية تصف المناخ في منطقة ما ؟			
أ-تعرضت مدينتي لعاصفة رعديّة ليلة أمس	ب-درجة الحرارة العظمى لهذا اليوم ١٨°س	ج-يتوقع سقوط الأمطار ليوم الغد	د-يكون فصل الشتاء في مدينتي بارداً وجافاً

١- بماذا تسمى العاصفة الاستوائية التي تزيد سرعة الرياح فيها عن ١١٩ كلم / ساعة ؟

أ	الاعصار القمعي	ب	التيار المائي
ج	الاعصار الدوار	د	الإعصار الحلزوني

٢- ما الصفة التي تميز عين الإعصار في الأعاصير الحلزونية ؟

أ	الضغط الجوي المنخفض	ب	الضغط الجوي المرتفع
ج	سرعة الرياح العالية جداً	د	هطول شديد الأمطار

٣- ما الذي يسبب هطول الامطار في أثناء وجود طبقة رقيقة من الهواء البارد قريباً من سطح الأرض ؟

أ	العواصف الرملية	ب	العواصف الجليدية
ج	الأعاصير الحلزونية	د	العواصف الرعدية

٤- ما الأمواج العاتية ؟

أ	النمط الدوراني للرياح	ب	ارتفاع الماء في المحيط
ج	عاصفة شتوية مع أمطار متجمدة		منطقة واسعة من الهواء البارد

٥- أي مما يأتي عاصفة ذات ضغط منخفض في مركزها؟

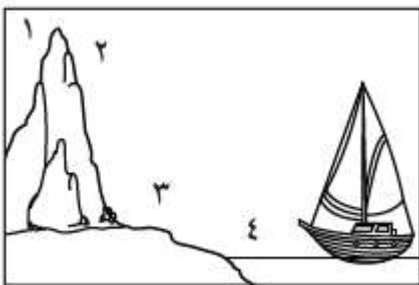
أ	العاصفة الرعدية	ب	العاصفة الجليدية
ج	الإعصار القمعي	د	العاصفة الثلجية

٦- أي العبارات التالية صحيحة ؟

أ	المناخ هو متوسط الحالة الجوية	ب	يتغير المناخ من يوم إلى آخر
ج	الطقس هو أي تغير مؤثر وطويل المدى	د	المناخ هو الحركة المستمرة للأمواج

٧- أي المناطق الأربع منطقة ظل المطر؟

أ	١	ب	٢
ج	٣	د	٤




٨- أي مما يأتي يؤدي إلى حدوث البرق؟

أ	سقوط قطرات الماء من الغيمة بسرعة	ب	انتقال الشحنات الكهربائية بين غيمتين متجاورتين
ج	اختلاف درجات الحرارة بين قمة الغيمة وقاعدتها	د	مرور أشعة الشمس من خلال قطرات الماء في الغيمة

د	ج	ب	أ	١
د	ج	ب	أ	٢
د	ج	ب	أ	٣
د	ج	ب	أ	٤
د	ج	ب	أ	٥
د	ج	ب	أ	٦
د	ج	ب	أ	٧
د	ج	ب	أ	٨
د	ج	ب	أ	٩
د	ج	ب	أ	١٠



نظّل جيّداً بالقلم الرصاص



مهارة التلخيص... نلصق المطوية صفحة ٦٣ هنا

الدرس الأول/العناصر

أقرأ وأتعلم

من خلال قراءتك للصفحات من (٧٢ - ٧٨) ... الفهم القرأئ

ضع-ي المصطلح المناسب أمام العبارة المناسبة :

[العنصر- النيوترونات -مندليف-الذرة]

- ١- مادة نقية لا يمكن تجزئتها إلى مواد أصغر عن طريق التفاعلات الكيميائية.
- ٢- رتب العناصر في جدول سمي الجدول الدوري .
- ٣- جسيمات موجودة داخل النواة متعادلة الشحنة .
- ٤- أصغر جزء في العنصر تحمل صفاته.



الذرات متعادلة كهربائياً، فسر-ي هذه العبارة ؟

لأن عدد البروتونات الموجبة = عدد الإلكترونات السالبة

اختر-ي الإجابة الصحيحة :

أصغر وحدة في العنصر تحمل صفاته		
الذرة	الجزئي	العنصر
تحتوي نواة الذرة على جسيمات موجبة تسمى		
النيوترونات	البروتونات	الإلكترونات
جسيمات تتكون من اتحاد ذرتين أو أكثر معاً		
الذرات	الجزئيات	العناصر
أي مما يلي يدور حول نواة الذرة ؟		
الإلكترون	البروتون	الجزئي
أي العبارات الآتية تصف اللافلزات ؟		
جميعها نشطة كيميائياً	توجد في الحالة الصلبة و السائلة و الغازية	جميعها موصلة للتيار الكهربائي
ماذا نسمي الجسيمات سالبة الشحنة التي تدور حول النواة؟		
النيوترونات	البروتونات	الإلكترونات
أي من العناصر التالية تعد الأكثر في الجدول الدوري؟		
أشباه الفلزات	اللافلزات	الفلزات

أقرأ وأتعلم

من خلال قراءتك للصفحات من (٨٤-٨٩) الفهم القرائي

الدرس الثاني / الفلزات و اللافلزات و أشباه الفلزات

السبب في كلا مما يأتي :

يستعمل الحديد في أعمال البناء وصناعة هيكل السيارات ؟

تصنع مقابض أدوات المطبخ من الخشب أو البلاستيك؟

قارن-ي بين الفلزات و اللافلزات حسب ما هو مطلوب؟

اللافلزات	الفلزات	
		التوصيل للحرارة و الكهرباء
		الموقع في الجدول الدوري
		قابليتها للطرق و السحب
		الحالة
		مثال

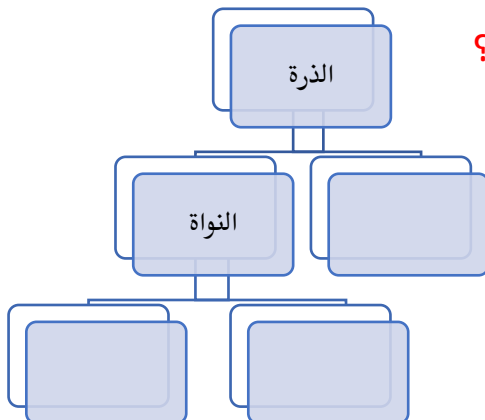
اختر الإجابة الصحيحة :

أي المواد التالية من أشباه الفلزات ؟ [أ-النحاس ، ب-البورون ، ج-الحديد]

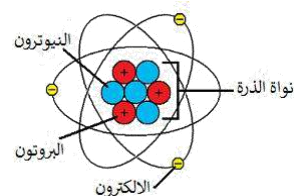
أي المواد التالية تستعمل عادة للقضاء على البكتيريا ؟ [أ-الصوديوم ، ب-الكلور ، ج-النيتروجين]

فيم تستخدم العناصر التالية؟

	الكلور
	السليكون
	التيتانيوم



أكمل-ي خريطة المفاهيم التي تمثل مكونات الذرة ؟



تصطف العناصر في الجدول الدوري في صفوف تسمى مجموعات ().
أكثر العناصر شيوعاً في الفضاء الخارجي الهيدروجين والهيليوم ()

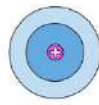


التدريب الثالث لمهارات
مادة العلوم الصف الخامس

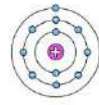


١- يقدم الشكل أدناه رسوماً تخطيطية بسيطة لوصف كيف تطور مفهوم ذرة العنصر على أيدي مجموعة من كبار العلماء ... بماذا يمكننا تشبيه تركيب ذرة العنصر؟

أ	النظام الشمسي	ب	المجرات الإهليجية
ج	دوائر مركزية	د	شحنات موجبة



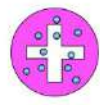
شروتونجر
1904



نيلز بور
1913



إرنست رذرفورد
1911



جون دالتون
1803

٢- أي من صور الكربون التالية تحصل عليها الأشجار للقيام بعملية البناء الضوئي؟

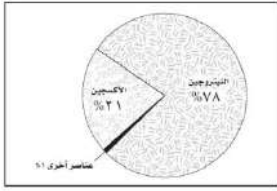
أ	ثاني أكسيد الكربون	ب	الجلوكوز
ج	البروتين	د	الأكسجين

٣- يوضح الجدول التالي بعض الخصائص الفيزيائية لعناصر مختلفة ، أي من العناصر يمكن تصنيفه من الفلزات؟

أ	العنصر ١	ب	العنصر ٢
ج	العنصر ٣	د	العنصر ٤

العناصر				الخاصية
العنصر ٤	العنصر ٣	العنصر ٢	العنصر ١	
سائلة	سائلة	صلبة	صلبة	حالة المادة
موصل	غير موصل	غير موصل	موصل	التوصيل الحراري
غير لامع	غير لامع	لامع	لامع	اللمعان
يتشكل	لا يتشكل	لا يتشكل	يتشكل	التشكل

٤- يمثل الشكل التالي توزيع العناصر في :



أ	القشرة الأرضية	ب	الغلاف الجوي للأرض
ج	أجسام الكائنات	د	مياه المحيط

٥- يمثل الشكل التالي أجزاء الذرة وشحنة كل جزء. أدرس الشكل وأجب: أي مما يلي يدور حول النواة ؟

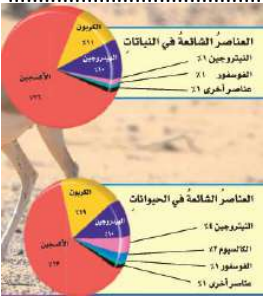


أ	الجزء	ب	البروتون
ج	النيوترون	د	الإلكترون

٦- ما التصنيف الأفضل للمادة أو للمواد التي تكون قطعة النقد المبينة في الشكل ؟



أ	فلز	ب	شبه فلز
ج	جزء	د	لا فلز



٧- ما العناصر الأكثر شيوعاً في النباتات و الحيوانات ؟

أ	الفسفور و الكالسيوم	ب	الكربون و الهيدروجين
ج	البوتاسيوم و الفسفور	د	الهيدروجين و الهيليوم


٨- عملت نوره نموذجاً لمركب ناتج عن ارتباط ذرة كربون مع ذرتي أكسجين، ما الاسم الصحيح لهذا المركب ؟

أ	أول أكسيد الكربون	ب	ثاني كربون الأكسيد
ج	ثاني أكسيد الكربون	د	جزء الكربون

٩- أي العبارات الآتية تصف اللافلزات:

أ	جميعها موصلة للتيار الكهربائي	ب	توجد في الحالة الصلبة أو السائلة أو الغازية
ج	جميعها مواد صلبة	د	جميعها نشطة كيميائياً

١٠- ما الوصف الأفضل للتركيب الذي يمثله الشكل ؟




أ	نواة ذرة الأكسجين	ب	عنصر الأكسجين
ج	ذرة الأكسجين	د	جزء الأكسجين

د	ج	ب	أ	١
⊖	⊖	⊖	⊖	⊖
⊖	⊖	⊖	⊖	٢
⊖	⊖	⊖	⊖	٣
⊖	⊖	⊖	⊖	٤
⊖	⊖	⊖	⊖	٥
⊖	⊖	⊖	⊖	٦
⊖	⊖	⊖	⊖	٧
⊖	⊖	⊖	⊖	٨
⊖	⊖	⊖	⊖	٩
⊖	⊖	⊖	⊖	١٠



نظل جيداً بالقلم الرصاص



مهارة التلخيص ...

نفذ المطوية الكتاب ص ٦٣

ونلصق المطوية هنا

الدرس الأول / تغيرات حالة المادة

اقرأ وأتعلم

من خلال قراءتك للصفحات من (١٠٠-١٠٤) الفهم القرأني

ضع-ي المصطلح المناسب أمام العبارة المناسبة فيما يأتي :

[التغير الفيزيائي-الانكماش الحراري-التغير الكيميائي-درجة الغليان]

- ١-..... تغير في حجم المادة أو شكلها أو حالتها دون التغير في تركيبها .
- ٢-.....نقصان حجم المادة نتيجة تغير درجة حرارتها.
- ٣-..... تغير يحدث في تركيب المادة عندما ترتبط الذرات بعضها مع بعض وتكون مادة جديدة .
- ٤-.....الدرجة التي تبدأ فيها المادة التحول من الحالة السائلة إلى الحالة الغازية.

اختر الإجابة الصحيحة :

١-ما الحالة التي لها طاقة أعلى ؟			
أ-الصلبة	ب-السائلة	ج-الغازية	د-الهلامية
٢-ما الذي يحدث عند ارتفاع درجة حرارة جسم ما ؟			
أ-ينكمش	ب- يتمدد	ج -يتجمد	د-يتسامى
٣-التحول من الحالة الصلبة إلى الحالة السائلة ..			
أ-تجمد	ب-تبخر	ج-انصهار	د-تسامي
٤-التحول من الحالة السائلة إلى الحالة الغازية يسمى			
أ-تجمد	ب-تبخر	ج-انصهار	د-تسامي
٥-تمتص المادة الحرارة عند تغير حالتها :			
أ-من السائل إلى الصلب	ب-من الغاز إلى السائل	ج-من الصلب إلى السائل	د-من الغاز إلى الصلب

صل-ي من المجموعة [أ] ما يناسب المجموعة [ب] بوضع الرقم أمام العبارة التي تناسبه.

المجموعة [أ]	الإجابة	المجموعة [ب]
١.التسامي .	[٢]	هي الدرجة التي تبدأ فيها المادة الصلبة التحول إلى سائل .
٢.درجة الانصهار.	[]	هي حالة الحركة لجزيئات المادة الصلبة .
٣.التمدد الحراري	[١]	تحول المادة من الحالة الصلبة مباشرة للحالة الغازية .
٤-درجة التجمد	[٣]	زيادة حجم المادة نتيجة تغير درجة حرارتها .
	[٤]	درجة الحرارة التي تبدأ عندها المادة في التجمد.



ساخن بارد



()	درجتا التجمد و الانصهار متساويتين للمادة نفسها
()	في الحالة السائلة تتحرك جزيئات المادة حركة اهتزازية
()	تقاس درجة الحرارة بمقياس الحرارة الذي يعتمد على مبدأ التمدد والانكماش
()	تكون حركة الجزيئات في الحالة الغازية أسرع منها في الحالة الصلبة و السائلة
()	تعد الحرارة شكل من أشكال الطاقة التي تنتقل بين الأجسام المتباينة في درجة حرارتها
()	عندما تفقد المادة حرارتها تقل سرعة حركة الجسيمات وتبدأ المادة في التجمع
()	تقل كثافة الماء عادة عند تحوله من الحالة السائلة إلى الحالة الصلبة



التدريب الرابع لمهارات
مادة العلوم الصف خامس



١- في الشكل أدناه ، وضع إبريق فيه سائل على النار ، ومع ازدياد الحرارة يزداد ؟

أ	عدد الجزيئات	ب	تمدد الجزيئات
ب	حركة الجزيئات	د	انكماش الزجاج

٢- أي المصطلحات التالية يمثل مفهوم انتقال الحرارة ، من الشمس ويسبب تبخر البحار والأنهار؟



أ	الحمل الحراري	ب	الإشعاع الحراري
ب	التوصيل الحراري	د	التدفق الحراري




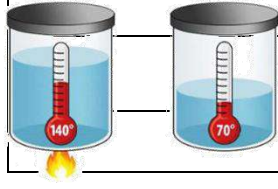
٣- الوصف المناسب لتغير المادة حين تبخرها هو أنها تتغير من :

أ	السائل إلى الغاز	ب	الصلب إلى السائل
ج	السائل إلى الصلب	د	الغاز إلى السائل

٤- حسب الشكل أدناه ، أي الجمل التالية تصف انتقال الطاقة الحرارية بشكل صحيح؟

أ	تنتقل الحرارة بين جزيئات الماء بالتوصيل	ب	تنتقل الحرارة من الوعاء إلى الماء بالتوصيل
ب	تنتقل الحرارة من لفائف التسخين إلى الوعاء بالحمل	د	تنتقل الحرارة من الوعاء إلى لفائف التسخين بالإشعاع

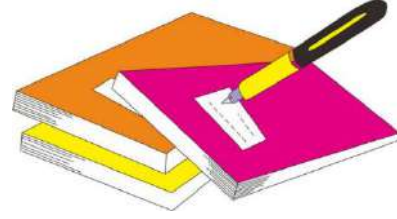





٦- أي مما يلي يفسر الظاهرة الفيزيائية الموضحة في الصورة أدناه؟

أ	الانكماش الحراري	ب	التمدد الحراري
ج	الحمل الحراري	د	التوصيل الحراري

١	أ	ب	ج	د
٢	أ	ب	ج	د
٣	أ	ب	ج	د
٤	أ	ب	ج	د
٥	أ	ب	ج	د
٦	أ	ب	ج	د
٧	أ	ب	ج	د
٨	أ	ب	ج	د
٩	أ	ب	ج	د
١٠	أ	ب	ج	د



نظّل جيداً بالقلم الرصاص



مهارة التلخيص ...

نفذ المطوية الكتاب ص ١٠٥

ونلصق المطوية هنا

الدرس الثاني/ المركبات و التغيرات الكيميائية

أقرأ وأتعلم

من خلال قراءتك للصفحات من (١١٠-١١٦) الفهم القرأني

ضع-ي المصطلح المناسب أمام العبارة المناسبة فيما يأتي :

[المركب- التغير الكيميائي-الرواسب -الصدأ]

- ١- مادة نقية تتألف من اتحاد عنصرين أو أكثر .
- ٢- مركب يتكون نتيجة اتحاد الحديد مع الأكسجين .
- ٣- يحدث عندما ترتبط الذرات لإنتاج مواد جديدة .
- ٤- مادة صلبة تتكون نتيجة التفاعل الكيميائي بين مكونات محلولين مختلفين .



من خلال الصورة أمامك وضح-ي بالرموز معادلة تكون الماء؟

ما الدليل على حدوث تفاعل كيميائي في الصور الآتية ؟



--	--	--	--

مؤشرات حدوث
تفاعل كيميائي

--	--	--	--	--

١- تسمى طريقة التعبير عن التغير الكيميائي باستعمال الحروف و الأرقام للمواد المتفاعلة والنتيجة بـ:

أ	المعادلة الكيميائية	ب	التعادل الكيميائي
ج	الخاصية الكيميائية	د	الرموز

٢- ما المركب الذي يشوه الفلز ؟

أ	ثاني أكسيد الكربون	ب	أكسيد الفلز
ج	الحمض	د	السكر

٣- أي التغيرات التالية تغير كيميائي ؟

أ	انصهار الجليد	ب	ذوبان الملح
ج	حرق الخشب	د	تبخر الماء

٤- يبين التفاعل الكيميائي في الشكل تكون:

أ	مخلوط	ب	مركب
ج	عنصر	د	فلز

٥- تسمى المواد الموجودة قبل حدوث التفاعل الكيميائي:

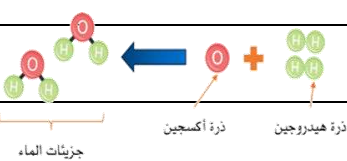
أ	المتفاعلة	ب	النتيجة
ب	المتعادلة	د	المحفزة

٦- أي مما يلي ليس تغيراً كيميائياً ؟

أ	احتراق الخشب	ب	تغير لون شريحة التفاح
ب	فساد البيض	د	اختلاط السكر بالماء

٧- إن التفاعل الذي ترتبط فيه عناصر أو مركبات معاً لتكوين مركبات جديدة أكثر تعقيداً هو تفاعل:

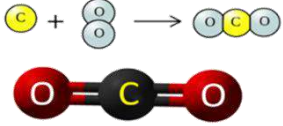
أ	اتحاد	ب	إحلال
ج	طارد للطاقة	د	إبدال



٨- ما نوع التفاعل الكيميائي الذي تمثله المعادلة الكيميائية التالية: $2H_2 + O_2 = 2H_2O$

أ	اتحاد	ب	إحلال
ج	طارد للطاقة	د	إبدال

٩- عمل عبدالله نموذجاً لمركب ناتج عن ارتباط ذرة كربون مع ذرتين أكسجين ، ما الاسم الصحيح لهذا المركب ؟



أ	أول أكسيد الكربون	ب	كربون الأوكسجين
ج	ثاني أكسيد الكربون	د	ثاني كربون الأوكسيد

١٠- أي التغيرات التالية ينتج عنها مواد جديدة ؟

أ	انصهار الجليد	ب	تقطيع الورق
ج	احتراق الخشب	د	تبخرو تكثف الماء

١٢- ما أقل عدد من الذرات يمكن أن يشكل مركباً ؟

أ	١	ب	٢
ج	٣	د	٤

- | | | | | |
|----|---|---|---|---|
| ١ | أ | ب | ج | د |
| ٢ | أ | ب | ج | د |
| ٣ | أ | ب | ج | د |
| ٤ | أ | ب | ج | د |
| ٥ | أ | ب | ج | د |
| ٦ | أ | ب | ج | د |
| ٧ | أ | ب | ج | د |
| ٨ | أ | ب | ج | د |
| ٩ | أ | ب | ج | د |
| ١٠ | أ | ب | ج | د |



نظّل جيداً بالقلم الرصاص

الدرس الأول / الشغل و الطاقة

أقرأ وأتعلم... أجب عم يلي

من خلال قراءتك للصفحات من (١٢٨-١٣٢) الفهم القرأئي

ضع-ي المصطلح المناسب أمام العبارة المناسبة فيما يأتي :


[الشغل- الطاقة- طاقة الحركة-طاقة الوضع]

- ١-.....القوة المبذولة لتحريك جسم ما مسافة معينة .
- ٢-..... الطاقة الناتجة عن حركة الجسم.
- ٣-.....المقدرة على إنجاز شغلٍ ما .
- ٤-..... الطاقة المخزنة في الجسم عند ارتفاع معين.

إذا رفعت صندوقاً وزنه (١٠ نيوتن) فوق رف ارتفاعه (١ متر)، ما هو مقدار الشغل المبذول لرفع الصندوق؟

ينص ثانون حفظ الطاقة على ؟

صح أم خطأ /



()	تسمى حركة النابض بالحركة الاهتزازية وتتغير من طاقة وضع إلى طاقة حركة و العكس
()	الصخور المستقرة أعلى سطح الجبل ليس لديها أي طاقة
()	عند اللعب بالكرة فإن طاقة الوضع المخزنة في الكرة تزداد عند رفعها إلى أعلى
()	الحرارة طاقة حركية ناتجة عن اهتزاز الجزيئات
()	الطاقة المغناطيسية طاقة وضع تشبه في عملها طاقة الجاذبية الأرضية

أي العبارات تصف تحولات الطاقة في كرة بعد ركلها إلى أعلى ؟



- أ-طاقة الحركة تتحول إلى طاقة وضع.
- ب-طاقة الحركة تتحول إلى طاقة كيميائية
- ج-طاقة الوضع تتحول إلى طاقة حركة
- د-طاقة الوضع تتحول إلى طاقة كيميائية

اختار الإجابة الصحيحة :


١- يقاس الشغل و الطاقة بوحدة			
أ- الجول	ب- نيوتن	ج- نيوتن / متر	د- نيوتن.متر/ث
٢- أي أشكال الطاقة موجود في الروابط بين الذرات والجزيئات			
أ- كيميائية	ب- مغناطيسية	ج- نووية	د- جاذبية أرضية
٣- في أثناء سقوط كرة من ارتفاع ما تكتسب طاقة			
أ- كيميائية	ب- ضوئية	ج- حركية	د- وضع
٤- تتحول طاقة وضع لجسم ساقط إلى طاقة			
أ- كهربائية	ب- حرارية	ج- كيميائية	د- حركية
٥- (المقدرة على إنجاز عمل ما....) ما المصطلح المناسب لهذه العبارة			
أ- المادة	ب- القوة الناتجة	ج- الطاقة	د- الفائدة الآلية
٦- ما الذي القوة التي تقلل من سرعة الجسم على سطح الأرض			
أ- الاحتكاك	ب- التسارع	ج- السرعة	د- السرعة المتجهة



انظر إلى الطفلين في الشكلين . أي الطفلين يبذل شغلاً أكبر؟

.....

.....



مهارة التلخيص ...

نفذ المطوية الكتاب ص ١٣٣

ونلصق المطوية هنا

١- أي الصور التالية يمكن أن تعبر عن مفهوم الشغل ؟

أ		ب	
ج		د	

٢- ما السبب الذي يؤدي إلى توقف الجسم المتحرك ؟

أ	قوة الاحتكاك	ب	السرعة
ج	المسافة	د	القصور الذاتي

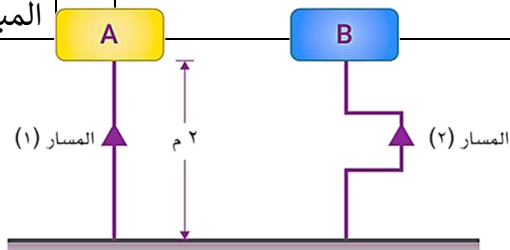
٣- في الشكل أدناه، رفع المكعب (A) والمكعب (B) ، إلى الارتفاع نفسه ، ولهما نفس الوزن ، أي العبارات التالية تصف الشغل المبذول على المكعبين :

أ	الشغل المبذول لرفع المكعب (A) أكبر	ب	الشغل المبذول لرفع المكعب (B) أكبر
ج	الشغل المبذول لرفع المكعبين متساوي	د	الشغل المبذول لرفع المكعب (B) ضعف الشغل المبذول لرفع المكعب (A)




٤- في الشكل أدناه، رفعت الحقيبة (A) عبر المسار (١) والحقيبة (B) عبر المسار (٢)، إلى ارتفاع ٢ متر ، وكان وزن كلاهما ١٢ نيوتن ، أي العبارات التالية تصف الشغل المبذول على الحقيبتين :

أ	الشغل المبذول لرفع الحقيبة (A) أكبر	ب	الشغل المبذول لرفع الحقيبة (B) أكبر
ج	الشغل المبذول لرفع الحقيبتين متساوي	د	الشغل المبذول لرفع الحقيبة (B) ضعف الشغل المبذول لرفع الحقيبة (A)



٥- أي المصطلحات التالية يعبر عن المفهوم الذي يسبب سقوط الكرة على الأرض بعد فترة من ركلها لأعلى :

أ	الجاذبية	ب	الاحتكاك
ج	الرفع	د	الفعل



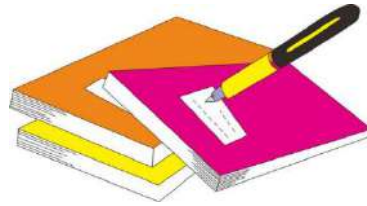
٦- تتحول طاقة وضع لجسم ساقط إلى طاقة

أ	كهربائية	ب	حركية
ج	حرارية	د	ضوئية

٧- أي أشكال الطاقة موجود في الروابط بين الذرات والجزيئات؟

أ	كيميائية	ب	ذرية
ج	مغناطيسية	د	نووية

أ	ب	ج	د
١	٢	٣	٤
٥	٦	٧	٨
٩	١٠		



نظّل جيداً بالقلم الرصاص



الدرس الثاني / الآلات البسيطة

أقرأ وأتعلم... أجب عم يلي


من خلال قراءتك للصفحات من (١٣٨-١٤٥) الفهم القرأئ

ضع-ي المصطلح المناسب أمام العبارة المناسبة فيما يأتي :

[الآلة البسيطة-الرافعة – البكرة - الفائدة الالية-البرغي -الآلة المركبة]



- ١-..... أداة تستخدم لتغيير مقدار القوة أو اتجاهها لإنجاز الشغل .
- ٢-..... النسبة بين طول ذراع المقاومة وطول ذراع القوة.
- ٣-.....قضيب يتحرك حول محور يسمى نقطة الارتكاز.
- ٤-..... عجلة محيطها غائر يُلف حوله حبل أو سلك.
- ٥-..... سطح مائل حول أسطوانة .
- ٦-..... تجمع آلتين أو أكثر من الآلات البسيطة .



ما طول ذراع المقاومة في الرافعة ؟

- أ-١٧٠ سم ب-١٢٠ سم
ج-٧٠ سم د-٥٠ سم

حدد نوع الروافع في كلاً من :

- نقطة الارتكاز تقع بين القوة المبذولة والقوة الناتجة
- طول ذراع القوة المبذولة أطول من طول ذراع القوة الناتجة
- ذراعا الجهد والمقاومة باتجاه واحد وذراع المقاومة أطول من ذراع القوة.....

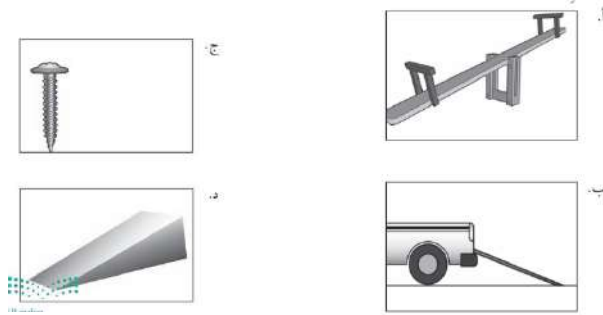
صح أم خطأ:

()	القوة التي تنتجها الآلة البسيطة تسمى الجهد
()	في النوع الأول من الروافع تقع نقطة الارتكاز بين القوة المبذولة و القوة الناتجة
()	العجلة والمحور آلة بسيطة متينة يمكنها أن تضاعف القوة و السرعة والمسافة المقطوعة
()	كلما قل طول السطح المائل كان رفع الجسم أسرع والجهد المبذول أكبر

اختار الإجابة الصحيحة :

تنتمي الرافعة التي لها نقطة ارتكاز بين القوة المبذولة والقوة الناتجة إلى:			
أ-النوع الأول من الروافع	ب-النوع الثاني من الروافع	ج-النوع الثالث من الروافع	د-الآلة المركبة
ما السطح المائل الذي يلتف حول الأسطوانة ؟			
أ-الوتد	ب-البرغي	ج-العجلة والمحور	د-البكرة
يسمى الجزء الآلة البسيطة الذي يقع عليه الجهد.....			
أ-القوة الناتجة	ب-الفائدة الآلية	ج-ذراع القوة	د-القوة المبذولة
إذا كان للعجلة قضيب يدور حول محور فإن المحور يعد...			
أ-القوة الناتجة	ب-نقطة ارتكاز	ج-الجهد	د-سطح مائل


أي الأشكال التالية يمثل النوع الأول من الروافع؟



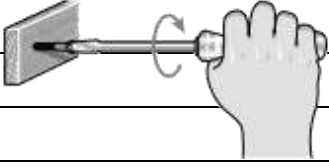
مهارة التلخيص ...

ننفذ المطوية الكتاب ص ١٤٦


ونلصق المطوية هنا




١- ما نوع الآلة التي في الصورة؟

	أ	آلة مركبة	ب	آلة بسيطة
	ج	عجلة ومحور	ج	بكرة


٢- ما نوع الآلة في الشكل أدناه

	أ	بسيطة	ب	معقدة
	ج	مركبة	ج	مطورة

٣- توضح الصورة أدناه ، أحد أنواع الآلات البسيطة التي تسهل علينا حمل الأشياء الثقيلة ما نوع هذه الآلة ؟

	أ	الرافعة	ب	البكرة
	ج	العجلة والمحور	ج	السطح المائل

٤- تصنف الدراجة الهوائية ضمن الآلات المركبة لأنها..

	أ	تتكون من أكثر من آلة بسيطة	ب	تحتوي على عجلات الحركة
	ج	تحتوي على ناقل للحركة	ج	تتكون من آلة بسيطة

٥- أي الأشكال التالية تعتبر آلة بسيطة تستخدم لتثبيت الأشياء مثل الألواح والأجزاء المعدنية ؟

أ		ب	
ج		د	

٦- أي الآلات البسيطة التالية تستخدم عند استبدال إطارات السيارة:

أ	الرافعة	ب	البكرة
ج	الوتد	د	العجلة

٧- من الشكل أدناه ، أي الآلات التالية يمكن استخدامها لتسهيل تنزيل البراميل من الشاحنة ؟

	ب	العجلة والمحور	أ	البكرة
	د	الوتد	ج	السطح المائل

د	ج	ب	أ	١
د	ج	ب	أ	٢
د	ج	ب	أ	٣
د	ج	ب	أ	٤
د	ج	ب	أ	٥
د	ج	ب	أ	٦
د	ج	ب	أ	٧
د	ج	ب	أ	٨
د	ج	ب	أ	٩
د	ج	ب	أ	١٠



نظل جيداً بالقلم الرصاص

الدرس الأول / الصوت

أقرأ وأتعلم.. أجب عم يلي

من خلال قراءتك للصفحات من (١٥٦-١٦٢) الفهم القرائي

ضع-ي المصطلح المناسب أمام العبارة المناسبة فيما يأتي :

[الموجة الصوتية – التردد-حدة الصوت -الصدى-الوسط- شدة الصوت- الفراغ]

- ١-..... سلسلة التضغطات و التخلخلات المنتقلة خلال مادة .
- ٢-..... صفة للصوت تحدد ما إذا كان رفيعاً أم غليظاً.
- ٣-..... عدد مرات اهتزاز جسم ما خلال ثانية واحدة .
- ٤-..... تكرار سماع الصوت بسبب انعكاس الموجات الصوتية .
- ٥-..... المادة التي تنتقل خلالها الموجة الصوتية .
- ٦-..... كمية الطاقة التي تحملها الموجة والتي تعبر مساحة محددة خلال ثانية واحدة.
- ٧-..... منطقة لا يوجد فيها جزيئات مادة تقريباً .

صح أم خطأ:

()	تكون سرعة الصوت أكبر ما يمكن في المواد الصلبة
()	جميع الأصوات منشئها اهتزازات

اختر الإجابة الصحيحة :

١- في أي مما يلي تكون سرعة الصوت أكبر؟			
أ-الماء	ب-الزيت	ج-الهواء	د-الحديد
٢-الصوت الأصلي يكون أعلى من الصدى ، لأن جزءاً من الصوت الأصلي			
أ-انعكس	ب-تضاغط	ج-امتص	د-انعكس
٣-بماذا يسترشد الخفاش إلى فريسته في الهواء؟			
أ-المغناطيس	ب-الضوء	ج-الصدى	د-الحرارة
٤-وحدة قياس التردد؟			
أ-النيوتن	ب-الهرتز	ج-الجول	د-الواط
٥-يعد الصدى مثلاً على أن موجات الصوت :			
أ-تتحول	ب-تمتص	ج-تنعكس	د-تنكسر

تسمى موجات الصوت بالموجات الطولية ؟

لا نستطيع سماع أصوات في الفضاء ؟

اختلاف سرعة الصوت في الأوساط المختلفة


اختر من مجموعة أ ما يناسبه من مجموعة ب ؟


المجموعة [أ]	الإجابة	المجموعة [ب]
١. الامتصاص	[]	التغير في التردد بسبب حركتنا مقترين أو مبتعدين عن الموجة .
٢. الانعكاس	[]	عملية نقل الطاقة إلى سطح ما عند اختفاء موجة فيه
٣. تأثير دوبلر	[]	وحدة قياس التردد .
٤. الهيرتز	[]	ارتداد الموجات الصوتية عن سطح ما .
	[]	عدد التضاعطات في وحدة الزمن .

مهارة التلخيص ...

ننفذ المطوية الكتاب ص ١٦٣

ونلصق المطوية هنا





التدريب السابع لمهارات مادة العلوم الصف خامس



١- الطاقة الناتجة عن اهتزاز الأجسام :

أ	الضوء	ب	الصوت
ج	الحرارة	د	موجات الماء

٢- ماذا يستعمل الحيتان و الدلافين لتحديد طريقها والحصول على غذائها:

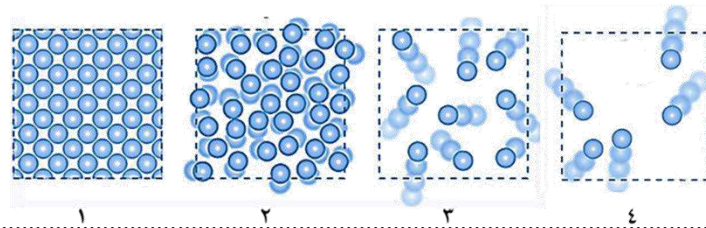
أ	الضوء	ب	الحرارة
ج	الصدى	د	موجات الماء

٣- الترتيب الصحيح للأوساط الموضحة في الشكل أدناه ، بناء على قدرتها على نقل الصوت من الأدنى إلى الأعلى ، هو كالتالي :

أ	الحديد — الخشب — الفلين — الهواء	ب	الهواء — الحديد — الخشب — الفلين
ج	الهواء — الفلين — الخشب — الحديد	د	الحديد — الفلين — الهواء — الخشب

٤- في الشكل أدناه ، أربع شرائح من مادة ، في حالات مختلفة ، أي هذه الحالات يمكن للصوت أن ينتقل فيها بصورة أبطأ؟

أ	١	ب	٣
ج	٢	د	٤

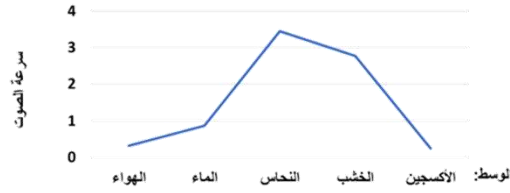


٥- ما مبدأ عمل أجهزة السونار (الموجات فوق الصوتية) ؟

أ	مرور موجات الصوت في الجسم	ب	زيادة سرعة الصوت في المواد المختلفة
ج	تحديد موقع الأجسام في الفضاء	د	ارتداد موجات الصوت عن الجسم

٦- يمثل الرسم البياني أدناه سرعة انتقال الصوت عبر أوساط مختلفة ، أي العبارات التالية صحيحة؟

أ	ينتقل الصوت في الأوساط الغازية أسرع من السائلة	ب	ينتقل الصوت في الأوساط السائلة أسرع من الصلبة
ج	سرعة انتقال الصوت في الأوساط الصلبة هي الأكبر	د	سرعة انتقال الصوت في الأوساط الغازية هي الأكبر



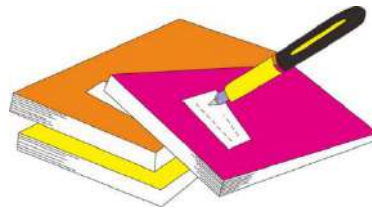
٧- أي المواد التالية ينتقل فيها الصوت بسرعة أكبر؟

أ	الماء	ب	الفولاذ
ج	الهواء	د	الجبس

٨- ماذا يستعمل الحيتان و الدلافين لتحديد طريقها والحصول على غذائها

أ	الضوء	ب	الصدى
ج	الحرارة	د	موجات الماء

- | | | | | |
|---|---|---|---|----|
| أ | ب | ج | د | ١ |
| ١ | ٢ | ٣ | ٤ | ٥ |
| ١ | ٢ | ٣ | ٤ | ٦ |
| ١ | ٢ | ٣ | ٤ | ٧ |
| ١ | ٢ | ٣ | ٤ | ٨ |
| ١ | ٢ | ٣ | ٤ | ٩ |
| ١ | ٢ | ٣ | ٤ | ١٠ |



نظّل جيداً بالقلم الرصاص



الدرس الثاني / الضوء

أقرأ وأتعلم .. أجب عم يلي

من خلال قراءتك للصفحات من (١٦٨-١٧٦) الفهم القرائي

ضع-ي المصطلح المناسب أمام العبارة المناسبة فيما يأتي :

[الفوتون – الكهرومغناطيسية-أجسام شبه شفافة -اجسام معتمة-الطول الموجي-سرعة الموجة]

- ١-..... تداخل طاقة القوى الكهربائية وطاقة القوى المغناطيسية
- ٢-..... أصغر جزء من الطاقة الضوئية
- ٣-..... أجسام لا ينفذ الضوء من خلالها .
- ٤-..... أجسام تشتت أغلب الضوء الساقط عليها .
- ٥-..... المسافة بين قمتين متتاليتين أو قاعين متتالين.
- ٦-..... حاصل ضرب طول الموجة \times ترددها

اختر من مجموعة أ ما يناسبه ب مجموعة ب بوضع الرقم المناسب أمام العبارة المناسبة:

المجموعة [أ]	الإجابة	المجموعة [ب]
١. الأجسام المعتمة	[]	لا ينفذ الضوء من خلالها
٢. انعكاس الضوء .	[]	جزء من موجات الضوء يمكن مشاهدتها بعد تحليله
٣. الطيف المرئي .	[]	انحراف الضوء عن مساره
٤. انكسار الضوء.	[]	هو ارتداده عن السطوح كما يحدث لأغلب الضوء الواصل لأعيننا .

ما السبب //

رؤية القلم بهذا المنظر

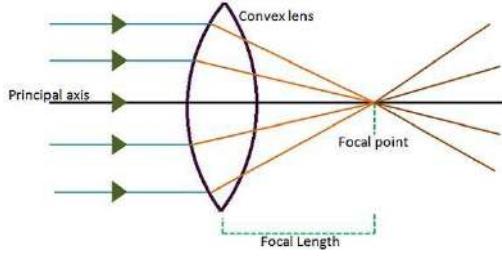
نرى التفاحة بلون أحمر.

ما اللون الذي يظهر عند مزج لوني ضوء

أحمر - أخضر []

أحمر - أزرق []

العدسات أنواع :



عدسة

وتقوم ب.....

وعدسة

وتقوم ب.....

صح أم خطأ

اللون الأحمر له أكبر طول موجي وأقل طاقة ()

اختر الإجابة الصحيحة :

ما المرآة التي تظهر الأجسام بأحجامها الطبيعية ؟			
أ-المرآة المستوية	ب-المرآة المحدبة	ج-المرآة المقعرة	د-المرآتان المقعرة والمستوية
(عندما يسقط الضوء على جسم فإنه ينعكس). أي الخيارات التالية مناسبة حسب قانون الانعكاس؟			
أ-بالزاوية نفسها	ب-بزاوية أكبر	ج-بزاوية أقل	د-تختلف الزاوية حسب لون الجسم

مهارة التلخيص ...

نفذ المطوية الكتاب ص ١٧٦

ونلصق المطوية هنا






التدريب الثامن لمهارات مادة العلوم الصف خامس



١- دائماً ترى العين علم المملكة العربية السعودية باللون الأخضر وذلك بسبب :



أ	امتصاص العلم للون المرئي الأخضر	ب	انعكاس اللون المرئي الأخضر من العلم
ج	إن العلم يشع لونا أخضراً مرئياً	د	انكسار اللون الأخضر عند مروره في العلم

٢- ماذا يستعمل الحيتان و الدلافين لتحديد طريقها والحصول على غذائها:

أ	الضوء	ب	الحرارة
ج	الصدى	د	موجات الماء

٣- أي أنواع المرايا التالية يكون سطحها العاكس إلى الداخل ؟

أ	المرآة المقعرة	ب	المرآة المحدبة
ج	المرآة المستوية	د	المرآتان المحدبة والمستوية

٤- أي مما يلي من المواد شبه الشفافة ؟

أ	المرآة	ب	الحديد
ج	البلاستيك	د	الخشب

٥- أي العبارات التالية لا تصف سرعة الضوء بشكل دقيق ؟

أ	سرعة الضوء في الأوساط العادية أكبر من سرعته في الفراغ	ب	تتأثر سرعة الضوء بالوسط الذي ينتقل عبره
ج	سرعة الضوء في الفراغ أكبر من سرعته في الأوساط العادية	د	يسير الضوء في خطوط مستقيمة

٦- (عندما يسقط الضوء على جسم فإنه ينعكس) أي الخيارات التالية مناسبة حسب قانون الانعكاس ؟

أ	بالزاوية نفسها	ب	بزاوية أكبر
ج	بزاوية أقل	د	تختلف الزاوية حسب حجم لون الجسم

٧- أي المصطلحات التالية يمثل الظاهرة التي يتم فيها ارتداد كل الضوء الساقط أو جزء منه عند تصادمه مع سطح ما ؟

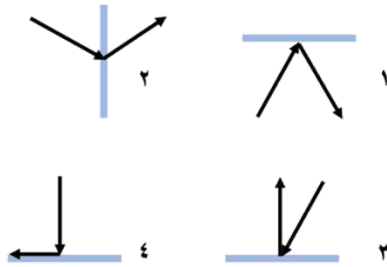
أ	انكسار الضوء	ب	الطيف المرئي
ج	انعكاس الضوء	د	الضوء المرئي

٨- العدسة التي تعمل على تفريق الأشعة المنكسرة ، تسمى ؟

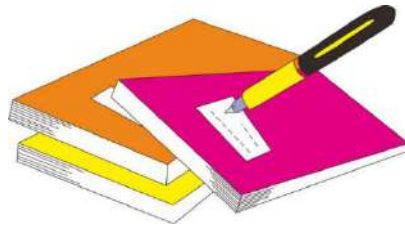
أ	عدسة مستوية	ب	عدسة محدبة
ج	عدسة مقعرة	د	عدسة مجمعة

٩- أي الحالات في الشكل أدناه ، يمثل الرسم الصحيح لظاهرة انعكاس شعاع الضوء عند التقائه بسطح مستو ؟

أ	١	ب	٢
ج	٢	د	٣



د	ج	ب	أ	١
د	ج	ب	أ	٢
د	ج	ب	أ	٣
د	ج	ب	أ	٤
د	ج	ب	أ	٥
د	ج	ب	أ	٦
د	ج	ب	أ	٧
د	ج	ب	أ	٨
د	ج	ب	أ	٩
د	ج	ب	أ	١٠



نظّل جيداً بالقلم الرصاص



اختبار تشخيصي (قبلي) - مادة العلوم - الصف خامس - ف٢

الاسم /

ضع-ي المصطلحات التالية أمام ما يناسبها من عبارات:-

{ الطاقة – التغير الفيزيائي - الإلكترونات - المناخ- العنصر-الصدى-الآلة البسيطة }

- ١-..... التغير الذي ينتج عن تغير شكل الجسم دون تغير نوع المادة الكونة له .
- ٢-..... تكرار سماع الصوت بسبب انعكاس الموجات .
- ٣-..... المقدرة على انجاز شغل ما .
- ٤-..... هو متوسط الحالة الجوية في مكان ما خلال فترة زمنية محددة .
- ٥-..... مادة نقية لا يمكن تجزئتها إلى مواد أصغر منها عن طريق التفاعلات الكيميائية .
- ٦-..... جسيمات شحنتها سالبة تدور في فراغ حول النواة .
- ٧-..... أداة تستخدم لتغيير مقدار القوة واتجاهها أو مسافتها لإنجاز الشغل .

اختر الإجابة الصحيحة /

من اللافلزات و تستخدم عادة للقضاء على البكتيريا		
أ-الصوديوم	ب- النيتروجين	ج- الكلور
اللمعان و التوصيل للحرارة والكهرباء كلها صفات		
أ-الفلزات	ب-اللافلزات	ج-أشباه الفلزات
أي المتغيرات التالية يقيسها علماء الأرصاد لتوقع حالة الطقس؟		
أ-ضغط الهواء	ب-البارومتر	ج- عدد السكان
أي ألوان الضوء المرئي له طول موجي أكبر		
أ-الأحمر	ب- الأزرق	ج- البنفسجي
المركب الذي يشوه الفلز		
أ-ثاني أكسيد الكربون	ب- الحمض	ج-أكسيد الفلز
تكون سرعة الصوت أكبر ما يمكن في المواد		
أ- الصلبة	ب- السائلة	ج- الغازية
يقاس التردد بوحدة		
أ- النيوتن	ب- الجول	ج- الهيرتز
هي الأجسام التي لا ينفذ الضوء من خلالها		
أ- المعتمة	ب- الشفافة	ج- شبه الشفافة

- ١- انكسار الضوء انحراف الضوء عن مساره عند المرور بين وسطين مختلفين () .
- ٢- الطاقة الناتجة عن حركة الجسم تسمى طاقة الحركة () .
- ٣- الشغل = القوة × المسافة المقطوعة باتجاه القوة () .

أجيب-ي عن الآتي:

- ٢- الأجسام التي تشتت أغلب الضوء الساقط عليها (معتمة - شفافة - شبه شفافة)
- ٣- حسب قانون الانعكاس في الضوء فإن زاوية السقوط الانعكاس

كَلِمَاتُ الْوَيْدَانِ

سائرين إلى درب النجاح بهمة وعزم وطموح

وما توفيقي إلا بالله.... عير الجناعي



بطاقة متابعة

الفصل الدراسي / الثاني

الاسم /

الصف / خامس

المدرسة /

م	الشهر	الواجبات	المهام الادائية	المشاركة	الاختبارات القصيرة	ملاحظات المعلم/ة	توقيع ولي الامر
١							
٢							
٣							
٤							

مدير-ة المدرسة /

معلم/ة المادة /

التوقيع /

التوقيع /

التاريخ /

التاريخ /

الملاحظات /

*الإجابة بيد الطالب-ة فقط بدون تدخل

* الدفتر لا يغني عن الكتاب المدرسي

* يحتوي الدفتر على نماذج من اختبارات نافس السابقة .

*الدفتر مساحة حرة لك للإجابة على أهم المهارات بخطك الجميل .



أقرأ وأتعلم

من خلال قراءتك للصفحات من (١٢-٢٠) الفهم القرائي

أكمل العبارات التالية بكلمات مناسبة :

الرطوبة – الإشعاع الشمسي -الستراتوسفير-الضغط الجوي- الطقس-الرياح العلمية



- (١).....الإشعاع الشمسي..... الطاقة الشمسية التي تصل كوكباً ما .
- (٢).....الرطوبة..... هي كمية بخار الماء في الهواء .
- (٣) طبقة...الستراتوسفير..... في الغلاف الجوي تمتد ٥٠ كم وتتميز بطبقة الأوزون .
- (٤).....الطقس.....وصف لحالة الجو في الطبقة السفلية (التروبوسفير) .
- (٥).....الضغط الجوي..... القوة الواقعة على مساحة معينة بفعل وزن الهواء .
- (٦).....الرياح العالمية..... رياح تهب باستمرار لمسافات طويلة في اتجاهات معينة معروفة .

اختر من المجموعة [أ] ما يناسب المجموعة [ب] .

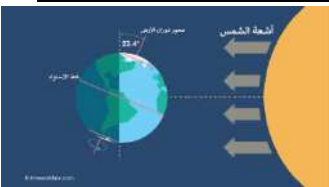
المجموعة [أ]	الإجابة	المجموعة [ب]
١. الرياح العالمية .	[٣]	عوامل تتحكم في تغيير الضغط الجوي
٢. نسيم البحر.	[٤]	من طبقات الغلاف الجوي وتسمى طبقة الطقس
٣. الحجم ودرجة الحرارة.	[٢]	اندفاع الهواء البارد باتجاه اليابسة في النهار
٤. التروبوسفير .	[١]	تهب باستمرار ولمسافات طويلة مثل (التجارية)

ما السبب // مدينة الرياض أعلى حرارة من مدينة لندن ؟

لقربها من خط الاستواء الذي تسقط عليه أشعة الشمس عمودية

ضع علامة [√] أو [x] أمام العبارات الآتية .

- (١) تقاس سرعة الرياح بجهاز يسمى الأنيمومتر. [√]
- (٢) كلما ارتفعنا عن سطح البحر يزداد الضغط الجوي [x]



نرتب طبقات الغلاف الجوي ؟



١- الترموسفير.

٢- الستراتوسفير.

٣- الميزوسفير.

٤- الترموسفير.

٥- الإكسوسفير.

أمامك أجهزة مستخدمة لقياس سرعة الرياح نحدد اسم كل جهاز



دوارة الرياح



كيس الرياح



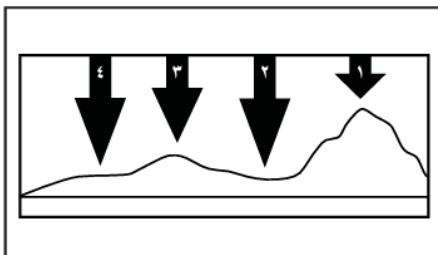
الأنيمومتر

اختر الإجابة الصحيحة :

يستعمل البارومتر لقياس.....			
أ-الضغط الجوي	ب-اتجاه الرياح	ج-سرعة الرياح	د-الرطوبة
الرياح العالمية.....			
أ-تهب باستمرار فوق مساحات كبيرة	ب-تتحرك على شكل حلقات	ج-تسخن الأرض بشكل غير متساو	د-تسبب ضغطاً جويّاً
في أي طبقات الغلاف الجوي تحدث معظم تغيرات الطقس؟			
أ-التروبوسفير	ب-الستراتوسفير	ج-الميزوسفير	د-الثيرموسفير
ماذا يحدث عند ارتفاع درجة حرارة الهواء؟			
أ-تزداد المسافة بين الجزيئات وتقل كثافته	ب-تقل المسافة بين جزيئات الهواء وتزداد كثافته	ج-يزداد الضغط الجوي	د-تقل حركة جزيئات الهواء

في الشكل أدناه يمثل السهم عمود الهواء فوق كل منطقة .

في أي موقع يكون الضغط الجوي أقل ما يمكن عند درجة الحرارة نفسها ؟



د-٤

ج-٣

ب-٢

أ-١

ما الذي يغير الضغط الجوي؟



مهارة التلخيص

نلصق المطوية صفحة ٢١

أقرأ وأتعلم

من خلال قراءتك للصفحات من (٢٦-٣٢) الفهم القرآني

ضع-ي الكلمة المناسبة في الفراغات التالية .

(الغيوم الريشية -الجبهات الهوائية - خريطة الطقس - المرتفع الجوي -الغيوم الركامية)

- (١) الجبهات الهوائية....منطقة التقاء الكتل الهوائية المختلفة .
- (٢) تستخدم ..خريطة الطقس.. لتبين الضغط الجوي ومتغيرات أخرى مختلفة .
- (٣) تتشكل ..الغيوم الركامية... على ارتفاعات متوسطة وتتميز بأنها منفردة وسميكة
- (٤)المرتفع الجوي..... هو كتلة من الهواء يكون الضغط في مركزها مرتفع .
- (٥)الغيوم الريشية..... تتشكل على اعلى ارتفاع وتتكون من بلورات متجمدة.

نستنتج نوع الهطول في كل مما يلي :



(١) درجة حرارة الهواء أكبر من درجة تجمد الماء [مطر - هطول سائل]

(٢) درجة حرارة الهواء أقل من درجة تجمد الماء [مطر متجمد]

نختار من المجموعة [أ] ما يناسب المجموعة [ب] .

المجموعة [أ]	الإجابة	المجموعة [ب]
١.الغيوم الطبقيّة	[٢]	يتكون مع هطول المطر حيث درجة الحرارة أقل من درجة تجمد الماء.
٢.الكتلة الهوائية	[١]	تتشكل على ارتفاعات منخفضة .
٣.المطر المتجمد	[٢]	منطقة واسعة من الهواء تمتاز بدرجة حرارة ورطوبة متشابهة .

صح أم خطأ:

(صح)	عندما تكون درجة الحرارة بالقرب من سطح الأرض منخفضة فإن بخار الماء يشكل الضباب
(صح)	يقاس الضغط الجوي باستعمال البارومتر

اختار الإجابة الصحيحة :

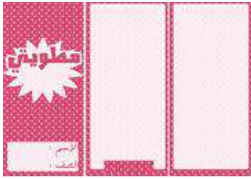
أي المتغيرات التالية يقيسها علماء الأرصاد لتوقع حالة الطقس؟

أ- ضغط الهواء	ب- البارومتر	ج- عدد السكان	د- حركة المرور
أي مما يلي ليس شكلاً من أشكال الهطول الصلب؟			
أ- المطر	ب- الثلج	ج- البرد	د- المطر المتجمد
غيوم سميكة تتشكل على ارتفاعات متوسطة			
أ- الريشية	ب- الطباقية	ج- الركامية	د- ضباب
ما نوع الهطول الذي يتشكل عند تراكم قطرات الماء فوق بلورات الجليد في أثناء العواصف الرعدية؟			
أ- قطرات مطر	ب- برد	ج- مطر متجمد	د- ثلج



علام تدل خريطة الطقس:

تشير حالة الطقس في منطقة ما في وقت محدد

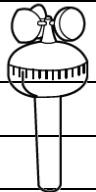


مهارة التلخيص .. نلصق المطوية صفحة ٣٦ هنا




التدريب الأول لمهارات
مادة العلوم الصف خامس



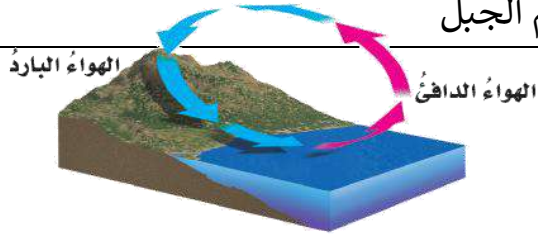
	١- ماذا يمكن ان تقيس هذه الأداة ؟		
	أ	اتجاه الرياح	ب
ج	كمية الهطول	د	الضغط الجوي

٢- أي أنواع الغيوم التالية أكثر ارتفاعاً عن سطح الأرض؟			
أ	ريشية	ب	ركامية
ج	طباقية	د	ضباب



٣- ما نوع الغيوم المبينة في الشكل ؟			
أ	ريشية	ب	طباقية
ج	ركامية	د	ضباب

٤- ما نوع الرياح المحلية التي تظهر في الشكل ؟			
أ	نسيم البر	ب	نسيم البحر
ج	نسيم الوادي	د	نسيم الجبل



١	أ	ب	ج	د
٢	أ	ب	ج	د
٣	أ	ب	ج	د
٤	أ	ب	ج	د
٥	أ	ب	ج	د
٦	أ	ب	ج	د



نظّل جيداً بالقلم الرصاص

أقرأ وأتعلم

من خلال قراءتك للصفحات من (٤٤-٥١) الفهم القرأني

ضع-ي الكلمات التالية أمام ما يناسبها :

{ العاصفة الرعدية- الرعد-الإعصار الدوار - الإعصار القمعي-الأمواج العاتية }



- ١-...الرعد....صوت التمدد الفجائي العنيف الذي يحدث للهواء .
- ٢-...العاصفة الرعدية.....عاصفة ممطرة فيها برق ورعد.
- ٣-...الإعصار القمعي..... هو دوران سحابة على شكل قمعي يصاحبه رياح شديدة .
- ٤-...الأمواج العاتية..... تسببها الأعاصير الحلزونية وتسبب ارتفاعاً للماء.
- ٥-...الإعصار الدوار..... أي عاصفة ذات ضغط منخفض في مركزها وتسبب نمطاً دورانياً .

اختر الإجابة الصحيحة :


تحول العاصفة عندما تزيد سرعة الرياح فيها على ١١٩ كم في الساعة إلى			
أ-إعصار قمعي	ب-إعصار حلزوني	ج-عاصفة ثلجية	د-إعصار قمعي
تحدث في المناطق الجافة عندما تهب الرياح فوق المناطق التي لا يغطيها غطاء نباتي			
أ-العاصفة الرملية	ب-العاصفة الثلجية	ج-العاصفة الجليدية	د-العاصفة الرعدية
أي مما يأتي عاصفة ذات ضغط منخفض في مركزها ؟			
أ-العاصفة الرعدية	ب-العاصفة الجليدية	ج-الإعصار القمعي	د-العاصفة الثلجية

ما الأدوات التي يستخدمها خبراء الأرصاد لتتبع العواصف .

١) رادار دوبلر

٢) بالون الطقس

٣) الطائرة



ما سبب تكون البرق ؟

وميض حدث عندما تفرغ قمة العاصفة شحناتها الكهربائية بسبب تفريغ للكهرباء الساكنة ، نتيجة احتكاك جسيمات الثلج وقطرات المطر.



أقرأ وأتعلم

من خلال قراءتك للصفحات من (٥٦-٦٠) الفهم القرأني

نكمل الفراغات بالمصطلحات المناسبة ؟

[المناخ . التيار المائي . الرياح . ظل المطر . التغير المناخي]

- ١) تسمى المنطقة من الجبل التي تقع في الجانب غير المواجه للرياح . ظل المطر
- ٢) المناخ ... هو متوسط الحالة الجوية في مكان ما خلال فترة زمنية محددة .
- ٣) يُعرف .. التيار المائي .. بأنه حركة مياه المحيط المستمرة .
- ٤) التغير المؤثر والطويل المدى في معدل حالة الطقس لمنطقة ما هو ... التغير المناخي ..

ماهي العوامل المؤثرة في المناخ :



- ١) البعد عن المسطحات المائية .
- ٢) التيارات المائية
- ٣) السلاسل الجبلية
- ٤) الرياح
- ٥) الارتفاع

صح أم خطأ/

- ١- كلما زاد ارتفاع أي منطقة عن مستوى سطح البحر زادت برودتها (صح) .
- ٢- تسمى المنطقة من الجبل التي تقع في الجانب غير المواجه للرياح ظل المطر (صح) .

اختر الإجابة الصحيحة:

ماذا تسمى الحركة المستمرة الماء المحيط ؟			
أ- هطولاً	ب- إعصاراً	ج- أعلى مد	د- تياراً مائياً
أي المتغيرات الآتية ليست من المتغيرات التي تؤثر في مناخ منطقة ما ؟			
أ- المنطقة المعتدلة	ب- الارتفاع	ج- دوائر العرض	د- التيارات المائية
أي العبارات التالية تصف المناخ في منطقة ما ؟			
أ- تعرضت مدينتي لعاصفة رعديّة ليلة أمس	ب- درجة الحرارة العظمى لهذا اليوم ١٨°س	ج- يتوقع سقوط الأمطار ليوم الغد	د- يكون فصل الشتاء في مدينتي بارداً وجافاً

١- بماذا تسمى العاصفة الاستوائية التي تزيد سرعة الرياح فيها عن ١١٩ كلم / ساعة ؟

أ	الاعصار القمعي	ب	التيار المائي
ج	الاعصار الدوار	د	الإعصار الحلزوني

٢- ما الصفة التي تميز عين الإعصار في الأعاصير الحلزونية ؟

أ	الضغط الجوي المنخفض	ب	الضغط الجوي المرتفع
ج	سرعة الرياح العالية جداً	د	هطول شديد الأمطار

٣- ما الذي يسبب هطول الامطار في أثناء وجود طبقة رقيقة من الهواء البارد قريباً من سطح الأرض ؟

أ	العواصف الرملية	ب	العواصف الجليدية
ج	الأعاصير الحلزونية	د	العواصف الرعدية

٤- ما الأمواج العاتية ؟

أ	النمط الدوراني للرياح	ب	ارتفاع الماء في المحيط
ج	عاصفة شتوية مع أمطار متجمدة		منطقة واسعة من الهواء البارد

٥- أي مما يأتي عاصفة ذات ضغط منخفض في مركزها؟

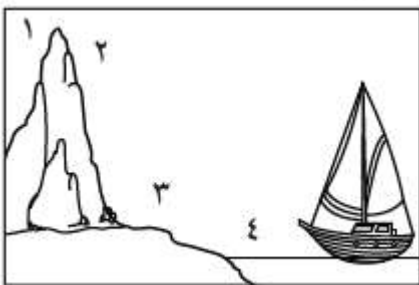
أ	العاصفة الرعدية	ب	العاصفة الجليدية
ج	الإعصار القمعي	د	العاصفة الثلجية

٦- أي العبارات التالية صحيحة ؟

أ	المناخ هو متوسط الحالة الجوية	ب	يتغير المناخ من يوم إلى آخر
ج	الطقس هو أي تغير مؤثر وطويل المدى	د	المناخ هو الحركة المستمرة للأمواج

٧- أي المناطق الأربع منطقة ظل المطر؟

أ		ب	
ج		د	



٨- أي مما يأتي يؤدي إلى حدوث البرق؟


أ	سقوط قطرات الماء من الغيمة بسرعة	ب	انتقال الشحنات الكهربائية بين غيمتين متجاورتين
ج	اختلاف درجات الحرارة بين قمة الغيمة وقاعدتها	د	مرور أشعة الشمس من خلال قطرات الماء في الغيمة

د	ج	ب	أ	١
د	ج	ب	أ	٢
د	ج	ب	أ	٣
د	ج	ب	أ	٤
د	ج	ب	أ	٥
د	ج	ب	أ	٦
د	ج	ب	أ	٧
د	ج	ب	أ	٨
د	ج	ب	أ	٩
د	ج	ب	أ	١٠



نظّل جيداً بالقلم الرصاص

مهارة التلخيص... نلصق المطوية صفحة ٦٣ هنا



الدرس الأول/العناصر

أقرأ وأتعلم

من خلال قراءتك للصفحات من (٧٢ - ٧٨) ... الفهم القرأئ

ضع-ي المصطلح المناسب أمام العبارة المناسبة :

[العنصر- النيوترونات -مندليف-الذرة]

- ١-...العنصر.. مادة نقية لا يمكن تجزئتها إلى مواد أصغر عن طريق التفاعلات الكيميائية.
- ٢-...مندليف.....رتب العناصر في جدول سمي الجدول الدوري .
- ٣-...النيوترونات... جسيمات موجودة داخل النواة متعادلة الشحنة .
- ٤-...الذرة..... أصغر جزء في العنصر تحمل صفاته.



الذرات متعادلة كهربائياً، فسر-ي هذه العبارة ؟
لأن عدد البروتونات الموجبة = عدد الإلكترونات السالبة

اختر-ي الإجابة الصحيحة :

أصغر وحدة في العنصر تحمل صفاته		
الذرة	الجزئي	العنصر
تحتوي نواة الذرة على جسيمات موجبة تسمى		
النيوترونات	البروتونات	الإلكترونات
جسيمات تتكون من اتحاد ذرتين أو أكثر معاً		
الذرات	الجزيئات	العناصر
أي مما يلي يدور حول نواة الذرة ؟		
الإلكترون	البروتون	الجزئي
أي العبارات الآتية تصف اللافلزات ؟		
جميعها نشطة كيميائياً	توجد في الحالة الصلبة و السائلة و الغازية	جميعها موصلة للتيار الكهربائي
ماذا نسمي الجسيمات سالبة الشحنة التي تدور حول النواة؟		
النيوترونات	البروتونات	الإلكترونات
أي من العناصر التالية تعد الأكثر في الجدول الدوري؟		
أشباه الفلزات	اللافلزات	الفلزات

أقرأ وأتعلم

الدرس الثاني / الفلزات و اللافلزات و أشباه الفلزات

من خلال قراءتك للصفحات من (٨٤-٨٩) الفهم القرآني

السبب في كلا مما يأتي :

يستعمل الحديد في أعمال البناء وصناعة هيكل السيارات ؟
لقوته وصلابته
تصنع مقابض أدوات المطبخ من الخشب أو البلاستيك ؟
لأنها غير موصلة للحرارة والكهرباء

قارن-ي بين الفلزات و اللافلزات حسب ما هو مطلوب؟

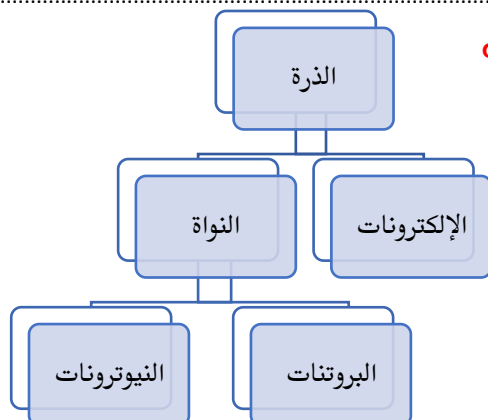
اللافلزات	الفلزات	
رديئة التوصيل	موصلة جيدة	التوصيل للحرارة و الكهرباء
الجانب الأيمن	الجانب الأيسر و الأوسط	الموقع في الجدول الدوري
غير قابلة للطرق و السحب	قابلة للطرق و السحب	قابليتها للطرق و السحب
سائلة -صلبة -غازية	جميعها صلبة عدا الزئبق سائل	الحالة
البروم-الأكسجين-كبريت	الذهب- الحديد	مثال

اختر الإجابة الصحيحة :

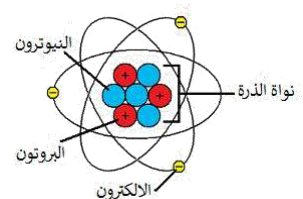
أي المواد التالية من أشباه الفلزات ؟ [أ-النحاس ، ب-البورون ، ج-الحديد]
 أي المواد التالية تستعمل عادة للقضاء على البكتيريا ؟ [أ-الصوديوم ، ب-الكور ، ج-النيتروجين]

فيم تستخدم العناصر التالية؟

الكور	لتعقيم مياه الشرب
السليكون	صناعة شرائح أجهزة الحاسوب
التيتانيوم	داخل أجسام المصابين



أكمل-ي خريطة المفاهيم التي تمثل مكونات الذرة ؟



تصطف العناصر في الجدول الدوري في صفوف تسمى مجموعات (X).
أكثر العناصر شيوعاً في الفضاء الخارجي الهيدروجين والهيليوم (V)

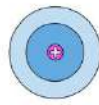


التدريب الثالث لمهارات
مادة العلوم الصف الخامس

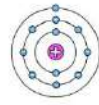


١- يقدم الشكل أدناه رسوماً تخطيطية بسيطة لوصف كيف تطور مفهوم ذرة العنصر على أيدي مجموعة من كبار العلماء ... بماذا يمكننا تشبيه تركيب ذرة العنصر؟

أ	النظام الشمسي	ب	المجرات الإهليجية
ج	دوائر مركزية	د	شحنات موجبة



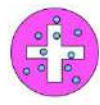
جون دالتون
1803



إرنست رذرفورد
1911



نيلز بور
1913



شروينجر
1926



جيه جيه طومسون
1904

٢- أي من صور الكربون التالية تحصل عليها الأشجار للقيام بعملية البناء الضوئي؟

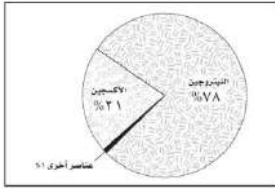
أ	ثاني أكسيد الكربون	ب	الجلوكوز
ج	البروتين	د	الأكسجين

٣- يوضح الجدول التالي بعض الخصائص الفيزيائية لعناصر مختلفة ، أي من العناصر يمكن تصنيفه من الفلزات؟

أ	العنصر ١	ب	العنصر ٢
ج	العنصر ٣	د	العنصر ٤

العناصر				الخاصية
العنصر ٤	العنصر ٣	العنصر ٢	العنصر ١	
سائلة	سائلة	صلبة	صلبة	حالة المادة
موصل	غير موصل	غير موصل	موصل	التوصيل الحراري
غير لامع	غير لامع	لامع	لامع	اللمعان
يتشكل	لا يتشكل	لا يتشكل	يتشكل	التشكل

٤- يمثل الشكل التالي توزيع العناصر في :



أ	القشرة الأرضية	ب	الغلاف الجوي للأرض
ج	أجسام الكائنات	د	مياه المحيط

٥- يمثل الشكل التالي أجزاء الذرة وشحنة كل جزء. أدرس الشكل وأجيب: أي مما يلي يدور حول النواة ؟

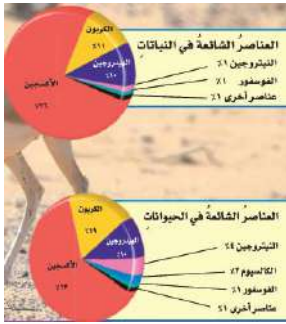


أ	الجزء	ب	البروتون
ج	النيوترون	د	الإلكترون

٦- ما التصنيف الأفضل للمادة أو للمواد التي تكون قطعة النقد المبينة في الشكل ؟



أ	فلز	ب	شبه فلز
ج	جزء	د	لا فلز



٧- ما العناصر الأكثر شيوعاً في النباتات و الحيوانات ؟

أ	الفسفور و الكالسيوم	ب	الكربون و الهيدروجين
ج	البوتاسيوم و الفسفور	د	الهيدروجين والهيليوم


٨- عملت نوره نموذجاً لمركب ناتج عن ارتباط ذرة كربون مع ذرتي أكسجين، ما الاسم الصحيح لهذا المركب ؟

أ	أول أكسيد الكربون	ب	ثاني كربون الأكسيد
ج	ثاني أكسيد الكربون	د	جزء الكربون

٩- أي العبارات الآتية تصف اللافلزات:

أ	جميعها موصلة للتيار الكهربائي	ب	توجد في الحالة الصلبة أو السائلة أو الغازية
ج	جميعها مواد صلبة	د	جميعها نشطة كيميائياً

١٠- ما الوصف الأفضل للتركيب الذي يمثله الشكل ؟




أ	نواة ذرة الأكسجين	ب	عنصر الأكسجين
ج	ذرة الأكسجين	د	جزء الأكسجين

د	ج	ب	أ	١
⊖	⊖	⊖	⊖	
⊖	⊖	⊖	⊖	٢
⊖	⊖	⊖	⊖	٣
⊖	⊖	⊖	⊖	٤
⊖	⊖	⊖	⊖	٥
⊖	⊖	⊖	⊖	٦
⊖	⊖	⊖	⊖	٧
⊖	⊖	⊖	⊖	٨
⊖	⊖	⊖	⊖	٩
⊖	⊖	⊖	⊖	١٠



نظل جيداً بالقلم الرصاص



مهارة التلخيص ...

ننفيذ المطوية الكتاب ص ٦٣

ونلصق المطوية هنا

الدرس الأول / تغيرات حالة المادة

أقرأ وأتعلم

من خلال قراءتك للصفحات من (١٠٠-١٠٤) الفهم القرآني

ضع-ي المصطلح المناسب أمام العبارة المناسبة فيما يأتي :

[التغير الفيزيائي-الانكماش الحراري-التغير الكيميائي-درجة الغليان]

- ١-...التغير الفيزيائي..... تغير في حجم المادة أو شكلها أو حالتها دون التغير في تركيبها .
- ٢-..الانكماش الحراري.....نقصان حجم المادة نتيجة تغير درجة حرارتها.
- ٣-..التغير الكيميائي..... تغير يحدث في تركيب المادة عندما ترتبط الذرات بعضها مع بعض وتكون مادة جديدة .
- ٤-..درجة الغليان.....الدرجة التي تبدأ فيها المادة التحول من الحالة السائلة إلى الحالة الغازية.

اختر-ي الإجابة الصحيحة :

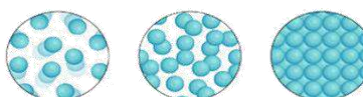
١-ما الحالة التي لها طاقة أعلى ؟			
أ-الصلبة	ب-السائلة	ج-الغازية	د-الهلامية
٢-ما الذي يحدث عند ارتفاع درجة حرارة جسم ما ؟			
أ-ينكمش	ب- يتمدد	ج-يتجمد	د-يتسامى
٣-التحول من الحالة الصلبة إلى الحالة السائلة ..			
أ-تجمد	ب-تبخر	ج-انصهار	د-تسامي
٤-التحول من الحالة السائلة إلى الحالة الغازية يسمى			
أ-تجمد	ب-تبخر	ج-انصهار	د-تسامي
٥-تمتص المادة الحرارة عند تغير حالتها :			
أ-من السائل إلى الصلب	ب-من الغاز إلى السائل	ج-من الصلب إلى السائل	د-من الغاز إلى الصلب

صل-ي من المجموعة [أ] ما يناسب المجموعة [ب] بوضع الرقم أمام العبارة التي تناسبه.

المجموعة [أ]	الإجابة	المجموعة [ب]
١.التسامي .	[٢]	هي الدرجة التي تبدأ فيها المادة الصلبة التحول إلى سائل .
٢.درجة الانصهار.	[]	هي حالة الحركة لجزيئات المادة الصلبة .
٣.التمدد الحراري	[١]	تحول المادة من الحالة الصلبة مباشرة للحالة الغازية .
٤-درجة التجمد	[٣]	زيادة حجم المادة نتيجة تغير درجة حرارتها .
	[٤]	درجة الحرارة التي تبدأ عندها المادة في التجمد.



ساخن بارد



(√)	درجتا التجمد و الانصهار متساويتين للمادة نفسها
(x)	في الحالة السائلة تتحرك جزيئات المادة حركة اهتزازية
(√)	تقاس درجة الحرارة بمقياس الحرارة الذي يعتمد على مبدأ التمدد والانكماش
(√)	تكون حركة الجزيئات في الحالة الغازية أسرع منها في الحالة الصلبة و السائلة
(√)	تعد الحرارة شكل من أشكال الطاقة التي تنتقل بين الأجسام المتباينة في درجة حرارتها
(√)	عندما تفقد المادة حرارتها تقل سرعة حركة الجسيمات وتبدأ المادة في التجمع
(√)	تقل كثافة الماء عادة عند تحوله من الحالة السائلة إلى الحالة الصلبة



التدريب الرابع لمهارات
مادة العلوم الصف خامس



١- في الشكل أدناه ، وضع إبريق فيه سائل على النار ، ومع ازدياد الحرارة يزداد ؟

أ	عدد الجزيئات	ب	تمدد الجزيئات
ب	حركة الجزيئات	د	انكماش الزجاج

٢- أي المصطلحات التالية يمثل مفهوم انتقال الحرارة ، من الشمس ويسبب تبخر البحار والأنهار؟



أ	الحمل الحراري	ب	الإشعاع الحراري
ب	التوصيل الحراري	د	التدفق الحراري



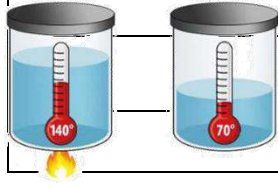
٣- الوصف المناسب لتغير المادة حين تبخرها هو أنها تتغير من :

أ	السائل إلى الغاز	ب	الصلب إلى السائل
ج	السائل إلى الصلب	د	الغاز إلى السائل

٥- حسب الشكل أدناه ، أي الجمل التالية تصف انتقال الطاقة الحرارية بشكل صحيح؟

أ	تنتقل الحرارة بين جزيئات الماء بالتوصيل	ب	تنتقل الحرارة من الوعاء إلى الماء بالتوصيل
ب	تنتقل الحرارة من لفائف التسخين إلى الوعاء بالحمل	د	تنتقل الحرارة من الوعاء إلى لفائف التسخين بالإشعاع

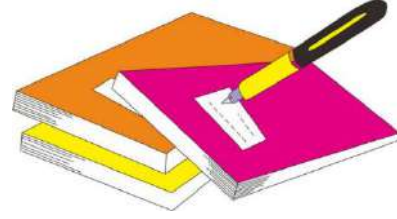





٦- أي مما يلي يفسر الظاهرة الفيزيائية الموضحة في الصورة أدناه؟

أ	الانكماش الحراري	ب	التمدد الحراري
ج	الحمل الحراري	د	التوصيل الحراري

١	أ	ب	ج	د
٢	أ	ب	ج	د
٣	أ	ب	ج	د
٤	أ	ب	ج	د
٥	أ	ب	ج	د
٦	أ	ب	ج	د
٧	أ	ب	ج	د
٨	أ	ب	ج	د
٩	أ	ب	ج	د
١٠	أ	ب	ج	د



نظّل جيداً بالقلم الرصاص



مهارة التلخيص ...

نفذ المطوية الكتاب ص ١٠٥

ونلصق المطوية هنا

موقع مادتي

الدرس الثاني/ المركبات و التغيرات الكيميائية

أقرأ وأتعلم

من خلال قراءتك للصفحات من (١١٠-١١٦) الفهم القرأني

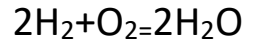
ضع-ي المصطلح المناسب أمام العبارة المناسبة فيما يأتي :

[المركب- التغير الكيميائي-الرواسب -الصدأ]

- ١-...المركب.....مادة نقية تتألف من اتحاد عنصرين أو أكثر .
- ٢-...الصدأ.....مركب يتكون نتيجة اتحاد الحديد مع الأكسجين.
- ٣-...التغير الكيميائي....يحدث عندما ترتبط الذرات لإنتاج مواد جديدة .
- ٤-...الرواسب.....مادة صلبة تتكون نتيجة التفاعل الكيميائي بين مكونات محلولين مختلفين



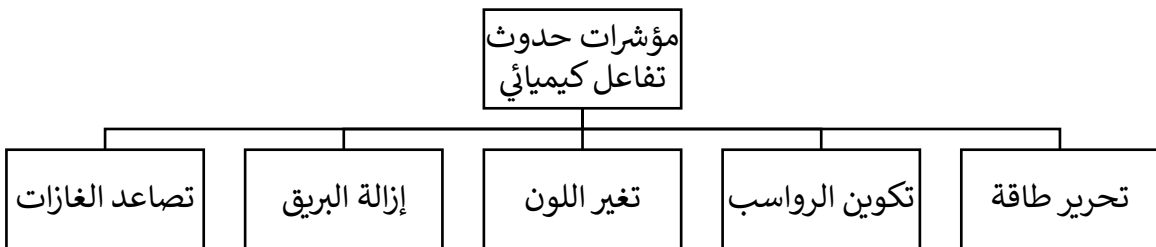
من خلال الصورة أمامك وضح-ي بالرموز معادلة تكون الماء؟



ما الدليل على حدوث تفاعل كيميائي في الصور الآتية ؟



تغير اللون	التشويه (إزالة البريق)	تصاعد الغازات	تحرير طاقة + ضوء
------------	------------------------	---------------	------------------



١- تسمى طريقة التعبير عن التغير الكيميائي باستعمال الحروف و الأرقام للمواد المتفاعلة والنتيجة بـ:

أ	المعادلة الكيميائية	ب	التعادل الكيميائي
ج	الخاصية الكيميائية	د	الرموز

٢- ما المركب الذي يشوه الفلز ؟

أ	ثاني أكسيد الكربون	ب	أكسيد الفلز
ج	الحمض	د	السكر

٣- أي التغيرات التالية تغير كيميائي ؟

أ	انصهار الجليد	ب	ذوبان الملح
ج	حرق الخشب	د	تبخر الماء

٤- يبين التفاعل الكيميائي في الشكل تكون:

أ	مخلوط	ب	مركب
ج	عنصر	د	فلز

٥- تسمى المواد الموجودة قبل حدوث التفاعل الكيميائي:

أ	المتفاعلة	ب	النتيجة
ب	المتعادلة	د	المحفزة

٦- أي مما يلي ليس تغيراً كيميائياً ؟

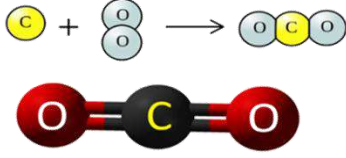
أ	احتراق الخشب	ب	تغير لون شريحة التفاح
ب	فساد البيض	د	اختلاط السكر بالماء

٧- إن التفاعل الذي ترتبط فيه عناصر أو مركبات معاً لتكوين مركبات جديدة أكثر تعقيداً هو تفاعل:

أ	اتحاد	ب	إحلال
ج	طارد للطاقة	د	إبدال

٨- ما نوع التفاعل الكيميائي الذي تمثله المعادلة الكيميائية التالية: $2H_2+O_2 = 2H_2O$

أ	اتحاد	ب	إحلال
ج	طارد للطاقة	د	إبدال



٩- عمل عبدالله نموذجاً لمركب ناتج عن ارتباط ذرة كربون مع ذرتين أكسجين ،
ما الاسم الصحيح لهذا المركب ؟

أ	أول أكسيد الكربون	ب	كربون الأكسجين
ج	ثاني أكسيد الكربون	د	ثاني كربون الأكسيد

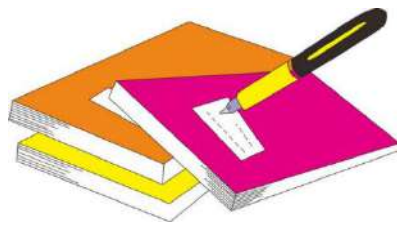
١٠- أي التغيرات التالية ينتج عنها مواد جديدة ؟

أ	انصهار الجليد	ب	تقطيع الورق
ج	احتراق الخشب	د	تبخرو تكثف الماء

١١- ما أقل عدد من الذرات يمكن أن يشكل مركباً ؟

أ	١	ب	٢
ج	٣	د	٤

- | | | | | |
|----|---|---|---|---|
| ١ | أ | ب | ج | د |
| ٢ | أ | ب | ج | د |
| ٣ | أ | ب | ج | د |
| ٤ | أ | ب | ج | د |
| ٥ | أ | ب | ج | د |
| ٦ | أ | ب | ج | د |
| ٧ | أ | ب | ج | د |
| ٨ | أ | ب | ج | د |
| ٩ | أ | ب | ج | د |
| ١٠ | أ | ب | ج | د |



نظّل جيداً بالقلم الرصاص

الدرس الأول / الشغل و الطاقة

أقرأ وأتعلم... أجب عم يلي

من خلال قراءتك للصفحات من (١٢٨-١٣٢) الفهم القرأئي

ضع-ي المصطلح المناسب أمام العبارة المناسبة فيما يأتي :

[الشغل- الطاقة- طاقة الحركة-طاقة الوضع]

- ١-...الشغل.....القوة المبذولة لتحريك جسم ما مسافة معينة .
- ٢-... طاقة الحركة..... الطاقة الناتجة عن حركة الجسم.
- ٣-...الطاقة.....المقدرة على إنجاز شغلٍ ما .
- ٤-...طاقة الوضع..... الطاقة المخزنة في الجسم عند ارتفاع معين.

إذا رفعت صندوقاً وزنه (١٠ نيوتن) فوق رف ارتفاعه (١ متر)، ما هو مقدار الشغل المبذول لرفع


الصندوق؟

$$\text{الشغل} = \text{القوة} \times \text{المسافة} = 10 \times 1 = 10 \text{ نيوتن.متر}$$

ينص ثانون حفظ الطاقة على ؟

الطاقة لا تفنى ولا تستحدث من العدم إلا بقدره الله تعالى -ولكنها تتحول من شكل إلى شكل آخر

صح أم خطأ /



(✓)	تسمى حركة النابض بالحركة الاهتزازية وتتغير من طاقة وضع إلى طاقة حركة و العكس
(x)	الصخور المستقرة أعلى سطح الجبل ليس لديها أي طاقة
(✓)	عند اللعب بالكرة فإن طاقة الوضع المخزنة في الكرة تزداد عند رفعها إلى أعلى
(✓)	الحرارة طاقة حركية ناتجة عن اهتزاز الجزيئات
(✓)	الطاقة المغناطيسية طاقة وضع تشبه في عملها طاقة الجاذبية الأرضية

أي العبارات تصف تحولات الطاقة في كرة بعد ركلها إلى أعلى ؟



- أ-طاقة الحركة تتحول إلى طاقة وضع.
- ب-طاقة الحركة تتحول إلى طاقة كيميائية
- ج-طاقة الوضع تتحول إلى طاقة حركة
- د-طاقة الوضع تتحول إلى طاقة كيميائية

اختار الإجابة الصحيحة :

١- يقاس الشغل و الطاقة بوحدة			
أ- الجول	ب- نيوتن	ج- نيوتن / متر	د- نيوتن. متر/ث
٢- أي أشكال الطاقة موجود في الروابط بين الذرات والجزيئات			
أ- كيميائية	ب- مغناطيسية	ج- نووية	د- جاذبية أرضية
٣- في أثناء سقوط كرة من ارتفاع ما تكتسب طاقة			
أ- كيميائية	ب- ضوئية	ج- حركية	د- وضع
٤- تتحول طاقة وضع لجسم ساقط إلى طاقة			
أ- كهربائية	ب- حرارية	ج- كيميائية	د- حركية
٥- (المقدرة على إنجاز عمل ما....) ما المصطلح المناسب لهذه العبارة			
أ- المادة	ب- القوة الناتجة	ج- الطاقة	د- الفائدة الآلية
٦- ما الذي القوة التي تقلل من سرعة الجسم على سطح الأرض			
أ- الاحتكاك	ب- التسارع	ج- السرعة	د- السرعة المتجهة



أنظر إلى الطفلين في الشكلين . أي الطفلين يبذل شغلاً أكبر؟ أفسر إجابتي؟


الطفل الأول لا يبذل شغل لأن المسافة صفر...

الطفل الثاني يبذل شغلاً لأن الجسم يتحرك باتجاه القوة المؤثرة.


مهارة التلخيص ...

ننفذ المطوية الكتاب ص ١٣٣

ونلصق المطوية هنا



١- أي الصور التالية يمكن أن تعبر عن مفهوم الشغل ؟

أ		ب	
ج		د	

٢- ما السبب الذي يؤدي إلى توقف الجسم المتحرك ؟

أ	قوة الاحتكاك	ب	السرعة
ج	المسافة	د	القصور الذاتي

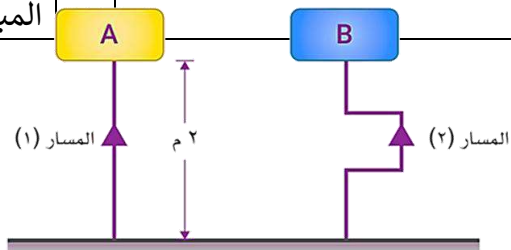
٣- في الشكل أدناه، رفع المكعب (A) والمكعب (B) ، إلى الارتفاع نفسه ، ولهما نفس الوزن ، أي العبارات التالية تصف الشغل المبذول على المكعبين :

أ	الشغل المبذول لرفع المكعب (A) أكبر	ب	الشغل المبذول لرفع المكعب (B) أكبر
ج	الشغل المبذول لرفع المكعبين متساوي	د	الشغل المبذول لرفع المكعب (B) ضعف الشغل المبذول لرفع المكعب (A)




٤- في الشكل أدناه، رفعت الحقيبة (A) عبر المسار (١) والحقيبة (B) عبر المسار (٢)، إلى ارتفاع ٢ متر ، وكان وزن كلاهما ١٢ نيوتن ، أي العبارات التالية تصف الشغل المبذول على الحقيبتين :

أ	الشغل المبذول لرفع الحقيبة (A) أكبر	ب	الشغل المبذول لرفع الحقيبة (B) أكبر
ج	الشغل المبذول لرفع الحقيبتين متساوي	د	الشغل المبذول لرفع الحقيبة (B) ضعف الشغل المبذول لرفع الحقيبة (A)



٥- أي المصطلحات التالية يعبر عن المفهوم الذي يسبب سقوط الكرة على الأرض بعد فترة من ركلها لأعلى :

أ	الجاذبية	ب	الاحتكاك
ج	الرفع	د	الفعل



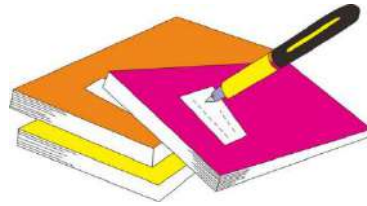
٦- تتحول طاقة وضع لجسم ساقط إلى طاقة

أ	كهربائية	ب	حركية
ج	حرارية	د	ضوئية

٧- أي أشكال الطاقة موجود في الروابط بين الذرات والجزيئات؟

أ	كيميائية	ب	ذرية
ج	مغناطيسية	د	نووية

١	أ	ب	ج	د
٢	أ	ب	ج	د
٣	أ	ب	ج	د
٤	أ	ب	ج	د
٥	أ	ب	ج	د
٦	أ	ب	ج	د
٧	أ	ب	ج	د
٨	أ	ب	ج	د
٩	أ	ب	ج	د
١٠	أ	ب	ج	د



نظّل جيداً بالقلم الرصاص



الدرس الثاني / الآلات البسيطة

أقرأ وأتعلم... أجب عم يلي


من خلال قراءتك للصفحات من (١٣٨-١٤٥) الفهم القرائي

ضع-ي المصطلح المناسب أمام العبارة المناسبة فيما يأتي :

[الآلة البسيطة-الرافعة – البكرة - الفائدة الالية-البرغي -الآلة المركبة]



- ١-..... الآلة البسيطة..... أداة تستخدم لتغيير مقدار القوة أو اتجاهها لإنجاز الشغل .
- ٢-.....الفائدة الالية..... النسبة بين طول ذراع المقاومة وطول ذراع القوة.
- ٣-.....الرافعة.....قضيب يتحرك حول محور يسمى نقطة الارتكاز.
- ٤-.....البكرة..... عجلة محيطها غائر يُلف حوله حبل أو سلك.
- ٥-.....البرغي..... سطح مائل حول أسطوانة .
- ٦-.....الالة المركبة..... تجمع آلتين أو أكثر من الآلات البسيطة .



ما طول ذراع المقاومة في الرافعة ؟

- أ-١٧٠ سم
ب-١٢٠ سم
ج-٧٠ سم
د-٥٠ سم

حدد نوع الروافع في كلاً من :

- نقطة الارتكاز تقع بين القوة المبذولة والقوة الناتجة النوع الأول من الروافع.
طول ذراع القوة المبذولة أطول من طول ذراع القوة الناتجة النوع الثاني من الروافع .
ذراعا الجهد والمقاومة باتجاه واحد وذراع المقاومة أطول من ذراع القوة النوع الثالث من الروافع .

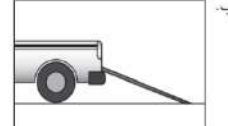


صح أم خطأ:

(X)	القوة التي تنتجها الآلة البسيطة تسمى الجهد
(V)	في النوع الأول من الروافع تقع نقطة الارتكاز بين القوة المبذولة و القوة الناتجة
(V)	العجلة والمحور آلة بسيطة متينة يمكنها أن تضاعف القوة و السرعة والمسافة المقطوعة
(V)	كلما قل طول السطح المائل كان رفع الجسم أسرع والجهد المبذول أكبر

اختار الإجابة الصحيحة :

تنتمي الرافعة التي لها نقطة ارتكاز بين القوة المبذولة والقوة الناتجة إلى:			
أ-النوع الأول من الروافع	ب-النوع الثاني من الروافع	ج-النوع الثالث من الروافع	د-الآلة المركبة
ما السطح المائل الذي يلتف حول الأسطوانة ؟			
أ-الوتد	ب-البرغي	ج-العجلة والمحور	د-البكرة
يسمى الجزء الآلة البسيطة الذي يقع عليه الجهد.....			
أ-القوة الناتجة	ب-الفائدة الآلية	ج-ذراع القوة	د-القوة المبذولة
إذا كان للعجلة قضيب يدور حول محور فإن المحور يعد...			
أ-القوة الناتجة	ب-نقطة ارتكاز	ج-الجهد	د-سطح مائل


أي الأشكال التالية يمثل النوع الأول من الروافع؟



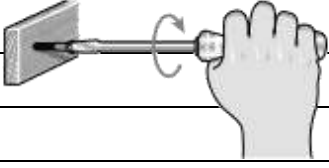
مهارة التلخيص ...

ننفذ المطوية الكتاب ص ١٤٦


ونلصق المطوية هنا




١- ما نوع الآلة التي في الصورة؟

	أ	آلة مركبة	ب	آلة بسيطة
	ج	عجلة ومحور	ج	بكرة

٢- ما نوع الآلة في الشكل أدناه

	أ	بسيطة	ب	معقدة
	ج	مركبة	ج	مطورة





٣- توضح الصورة أدناه ، أحد أنواع الآلات البسيطة التي تسهل علينا حمل الأشياء الثقيلة ما نوع هذه الآلة ؟

	أ	الرافعة	ب	البكرة
	ج	العجلة والمحور	ج	السطح المائل

٤- تصنف الدراجة الهوائية ضمن الآلات المركبة لأنها..

	أ	تتكون من أكثر من آلة بسيطة	ب	تحتوي على عجلات الحركة
	ج	تحتوي على ناقل للحركة	ج	تتكون من آلة بسيطة

٥- أي الأشكال التالية تعتبر آلة بسيطة تستخدم لتثبيت الأشياء مثل الألواح والأجزاء المعدنية ؟

أ		ب	
ج		د	

٦- أي الآلات البسيطة التالية تستخدم عند استبدال إطارات السيارة:

أ	الرافعة	ب	البكرة
ج	الوود	د	العجلة

٧- من الشكل أدناه ، أي الآلات التالية يمكن استخدامها لتسهيل تنزيل البراميل من الشاحنة ؟

	ب	العجلة والمحور	أ	البكرة
	د	الوتد	ج	السطح المائل

د	ج	ب	أ	١
د	ج	ب	أ	٢
د	ج	ب	أ	٣
د	ج	ب	أ	٤
د	ج	ب	أ	٥
د	ج	ب	أ	٦
د	ج	ب	أ	٧
د	ج	ب	أ	٨
د	ج	ب	أ	٩
د	ج	ب	أ	١٠



نظّل جيّداً بالقلم الرصاص

الدرس الأول / الصوت

أقرأ وأتعلم.. أجب عم يلي

من خلال قراءتك للصفحات من (١٥٦-١٦٢) الفهم القرأئي

ضع-ي المصطلح المناسب أمام العبارة المناسبة فيما يأتي :

[الموجة الصوتية – التردد-حدة الصوت -الصدى-الوسط- شدة الصوت- الفراغ]

- ١-.....الموجة الصوتية..... سلسلة التضاعطات و التخلخلات المنتقلة خلال مادة .
- ٢-.....حدة الصوت..... صفة للصوت تحدد ما إذا كان رفيعاً أم غليظاً.
- ٣-.....التردد..... تكرار سماع الصوت بسبب انعكاس الموجات الصوتية .
- ٥-.....الوسط..... المادة التي تنتقل خلالها الموجة الصوتية .
- ٦-.....شدة الصوت.... كمية الطاقة التي تحملها الموجة والتي تعبر مساحة محددة خلال ثانية واحدة.
- ٧-.....الفراغ..... منطقة لا يوجد فيها جزيئات مادة تقريباً .

صح أم خطأ:

(√)	تكون سرعة الصوت أكبر ما يمكن في المواد الصلبة
(√)	جميع الأصوات منشؤها اهتزازات

اختر الإجابة الصحيحة :

١- في أي مما يلي تكون سرعة الصوت أكبر؟			
أ-الماء	ب-الزيت	ج-الهواء	د-الحديد
٢-الصوت الأصلي يكون أعلى من الصدى ، لأن جزءاً من الصوت الأصلي			
أ-انعكس	ب-تضاعط	ج-امتص	د-انعكس
٣-بماذا يسترشد الخفاش إلى فريسته في الهواء؟			
أ-المغناطيس	ب-الضوء	ج-الصدى	د-الحرارة
٤-وحدة قياس التردد؟			
أ-النيوتن	ب-الهرتز	ج-الجول	د-الواط
٥-يعد الصدى مثلاً على أن موجات الصوت :			
أ-تتحول	ب-تمتص	ج-تنعكس	د-تنكسر

تسمى موجات الصوت بالموجات الطولية ؟

تسبب الموجات الصوتية اهتزاز في الوسط في اتجاه انتقال الطاقة نفسه

لا نستطيع سماع أصوات في الفضاء ؟

لأن الفضاء يتكون من فراغ، أي لا يوجد وسط ناقل للصوت

اختلاف سرعة الصوت في الأوساط المختلفة

المسافات الفاصلة بين الجزيئات المكونة لها


اختر من مجموعة أ ما يناسبه من مجموعة ب ؟


المجموعة [أ]	الإجابة	المجموعة [ب]
١. الامتصاص	[٣]	التغير في التردد بسبب حركتنا مقترين أو مبتعدين عن الموجة .
٢. الانعكاس	[١]	عملية نقل الطاقة إلى سطح ما عند اختفاء موجة فيه
٣. تأثير دوبلر	[٤]	وحدة قياس التردد .
٤. الهيرتز	[٢]	ارتداد الموجات الصوتية عن سطح ما .
	[]	عدد التضاعطات في وحدة الزمن .

مهارة التلخيص ...

ننفذ المطوية الكتاب ص ١٦٣

ونلصق المطوية هنا





التدريب السابع لمهارات مادة العلوم الصف خامس



١- الطاقة الناتجة عن اهتزاز الأجسام :

أ	الضوء	ب	الصوت
ج	الحرارة	د	موجات الماء

٢- ماذا يستعمل الحيتان و الدلافين لتحديد طريقها والحصول على غذائها:

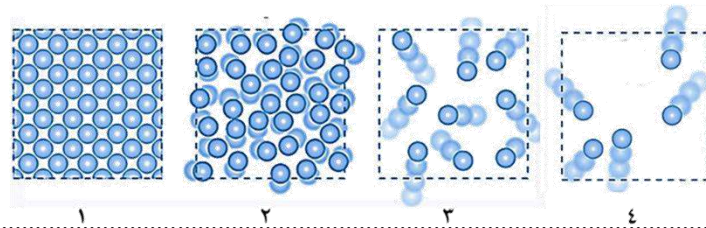
أ	الضوء	ب	الحرارة
ج	الصدى	د	موجات الماء

٣- الترتيب الصحيح للأوساط الموضحة في الشكل أدناه ، بناء على قدرتها على نقل الصوت من الأدنى إلى الأعلى ، هو كالتالي :

أ	الحديد — الخشب — الفلين — الهواء	ب	الهواء — الحديد — الخشب — الفلين
ج	الهواء — الفلين — الخشب — الحديد	د	الحديد — الفلين — الهواء — الخشب

٤- في الشكل أدناه ، أربع شرائح من مادة ، في حالات مختلفة ، أي هذه الحالات يمكن للصوت أن ينتقل فيها بصورة أبطأ؟

أ	١	ب	٣
ج	٢	د	٤

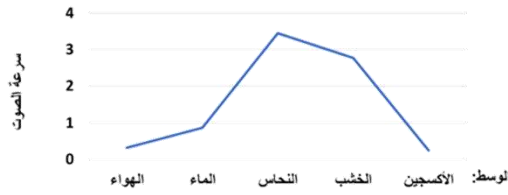


٥- ما مبدأ عمل أجهزة السونار (الموجات فوق الصوتية) ؟

أ	مرور موجات الصوت في الجسم	ب	زيادة سرعة الصوت في المواد المختلفة
ج	تحديد موقع الأجسام في الفضاء	د	ارتداد موجات الصوت عن الجسم

٦- يمثل الرسم البياني أدناه سرعة انتقال الصوت عبر أوساط مختلفة ، أي العبارات التالية صحيحة؟

أ	ينتقل الصوت في الأوساط الغازية أسرع من السائلة	ب	ينتقل الصوت في الأوساط السائلة أسرع من الصلبة
ج	سرعة انتقال الصوت في الأوساط الصلبة هي الأكبر	د	سرعة انتقال الصوت في الأوساط الغازية هي الأكبر



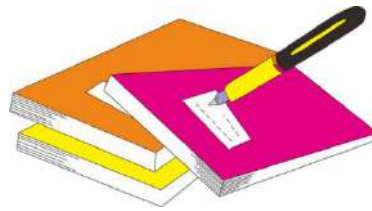
٧- أي المواد التالية ينتقل فيها الصوت بسرعة أكبر؟

أ	الماء	ب	الفولاذ
ج	الهواء	د	الجبس

٨- ماذا يستعمل الحيتان و الدلافين لتحديد طريقها والحصول على غذائها

أ	الضوء	ب	الصدى
ج	الحرارة	د	موجات الماء

١. أ () ب () ج () د ()
٢. أ () ب () ج () د ()
٣. أ () ب () ج () د ()
٤. أ () ب () ج () د ()
٥. أ () ب () ج () د ()
٦. أ () ب () ج () د ()
٧. أ () ب () ج () د ()
٨. أ () ب () ج () د ()
٩. أ () ب () ج () د ()
١٠. أ () ب () ج () د ()



نظّل جيداً بالقلم الرصاص



الدرس الثاني / الضوء

اقرأ وأتعلم .. أجب عم يلي

من خلال قراءتك للصفحات من (١٦٨-١٧٦) الفهم القرائي

ضع-ي المصطلح المناسب أمام العبارة المناسبة فيما يأتي :

[الفوتون – الكهرومغناطيسية-أجسام شبه شفافة -اجسام معتمة-الطول الموجي-سرعة الموجة]

- ١-.....الكهرومغناطيسية.... تداخل طاقة القوى الكهربائية وطاقة القوى المغناطيسية
- ٢-.....الفوتون..... أصغر جزء من الطاقة الضوئية
- ٣-.....أجسام معتمة..... اجسام لا ينفذ الضوء من خلالها .
- ٤-.....شبه معتمة..... أجسام تشتت أغلب الضوء الساقط عليها .
- ٥-.....الطول الموجي.... المسافة بين قمتين متتاليتين أوقاعين متتالين.
- ٦-.....سرعة الموجة..... حاصل ضرب طول الموجة \times ترددها

اختر من مجموعة أ ما يناسبه من مجموعة ب بوضع الرقم المناسب أمام العبارة المناسبة:

المجموعة [أ]	الإجابة	المجموعة [ب]
١. الأجسام المعتمة	[١]	لا ينفذ الضوء من خلالها
٢. انعكاس الضوء .	[٣]	جزء من موجات الضوء يمكن مشاهدتها بعد تحليله
٣. الطيف المرئي .	[٤]	انحراف الضوء عن مساره
٤. انكسار الضوء.	[٢]	هو ارتداده عن السطوح كما يحدث لأغلب الضوء الواصل لأعيننا .

ما السبب //

رؤية القلم بهذا المنظر

انكسار الضوء عند انتقاله بين وسطين شفافين مختلفين في الكثافة (الهواء و الماء)

نرى التفاحة بلون أحمر.

لأنها تمتص جميع الألوان وتعكس اللون الأحمر

(لون الجسم المعتم يكون لون الضوء الذي ينعكس عنه)

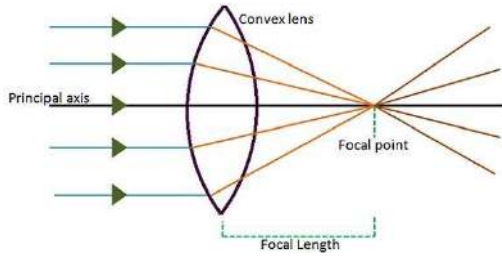
ما اللون الذي يظهر عند مزج لوني ضوء

أحمر – أخضر [أصفر]

أحمر-أزرق [ارجواني]

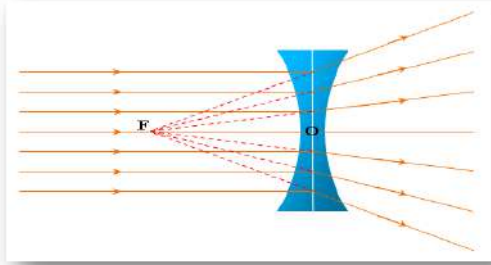
العدسات أنواع :

عدسة : محدبة (لامة)



وتقوم بـ.تجميع الأشعة الضوئية المنكسرة في نقطة تسمى الب

وعدسة : مقعرة (مفرقة)



وتقوم بـ.تفريق الأشعة المنكسرة فتباعد بينها.

صح أم خطأ

اللون الأحمر له أكبر طول موجي وأقل طاقة (صح)

اختر الإجابة الصحيحة :

ما المرآة التي تظهر الأجسام بأحجامها الطبيعية ؟			
أ-المرآة المستوية	ب-المرآة المحدبة	ج-المرآة المقعرة	د-المرآتان المقعرة و المستوية
(عندما يسقط الضوء على جسم فإنه ينعكس).أي الخيارات التالية مناسبة حسب قانون الانعكاس؟			
أ-بالزاوية نفسها	ب-بزاوية أكبر	ج-بزاوية أقل	د-تختلف الزاوية حسب لون الجسم

مهارة التلخيص ...

ننفيذ المطوية الكتاب ص ١٧٦

ونلصق المطوية هنا





التدريب الثامن لمهارات مادة العلوم الصف خامس



١- دائماً ترى العين علم المملكة العربية السعودية باللون الأخضر وذلك بسبب :



أ	امتصاص العلم للون المرئي الأخضر	ب	انعكاس اللون المرئي الأخضر من العلم
ج	إن العلم يشع لونا أخضراً مرئياً	د	انكسار اللون الأخضر عند مروره في العلم

٢- ماذا يستعمل الحيتان و الدلافين لتحديد طريقها والحصول على غذائها:

أ	الضوء	ب	الحرارة
ج	الصدى	د	موجات الماء

٣- أي أنواع المرايا التالية يكون سطحها العاكس إلى الداخل ؟

أ	المرآة المقعرة	ب	المرآة المحدبة
ج	المرآة المستوية	د	المرآتان المحدبة والمستوية

٤- أي مما يلي من المواد شبه الشفافة ؟

أ	المرآة	ب	الحديد
ج	البلاستيك	د	الخشب

٥- أي العبارات التالية لا تصف سرعة الضوء بشكل دقيق ؟

أ	سرعة الضوء في الأوساط العادية أكبر من سرعته في الفراغ	ب	تتأثر سرعة الضوء بالوسط الذي ينتقل عبره
ج	سرعة الضوء في الفراغ أكبر من سرعته في الأوساط العادية	د	يسير الضوء في خطوط مستقيمة

٦- (عندما يسقط الضوء على جسم فإنه ينعكس) أي الخيارات التالية مناسبة حسب قانون الانعكاس ؟

أ	بالزاوية نفسها	ب	بزاوية أكبر
ج	بزاوية أقل	د	تختلف الزاوية حسب حجم لون الجسم

٧- أي المصطلحات التالية يمثل الظاهرة التي يتم فيها ارتداد كل الضوء الساقط أو جزء منه عند تصادمه مع سطح ما ؟

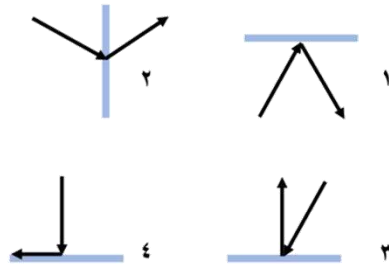
أ	انكسار الضوء	ب	الطيف المرئي
ج	انعكاس الضوء	د	الضوء المرئي

٨- العدسة التي تعمل على تفريق الأشعة المنكسرة ، تسمى ؟

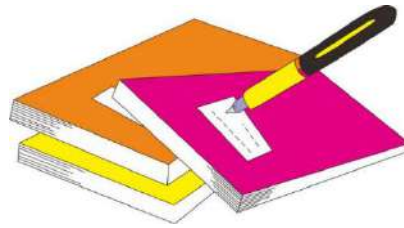
أ	عدسة مستوية	ب	عدسة محدبة
ج	عدسة مقعرة	د	عدسة مجمعة

٩- أي الحالات في الشكل أدناه ، يمثل الرسم الصحيح لظاهرة انعكاس شعاع الضوء عند التقائه بسطح مستو ؟

أ	١	ب	٢
ج	٢	د	٣



د	ج	ب	أ	١
د	ج	ب	أ	٢
د	ج	ب	أ	٣
د	ج	ب	أ	٤
د	ج	ب	أ	٥
د	ج	ب	أ	٦
د	ج	ب	أ	٧
د	ج	ب	أ	٨
د	ج	ب	أ	٩
د	ج	ب	أ	١٠



نظّل جيداً بالقلم الرصاص



اختبار تشخيصي (قبلي) - مادة العلوم - الصف خامس - ف2

الاسم /

ضع-ي المصطلحات التالية أمام ما يناسبها من عبارات:-

{ الطاقة – التغير الفيزيائي - الإلكترونات - المناخ- العنصر-الصدى-الآلة البسيطة }

- ١-...التغير الفيزيائي..... التغير الذي ينتج عن تغير شكل الجسم دون تغير نوع المادة الكونة له .
- ٢-.....الصدى..... تكرار سماع الصوت بسبب انعكاس الموجات .
- ٣-.....الطاقة..... المقدرة على انجاز شغل ما .
- ٤-.....المناخ..... هو متوسط الحالة الجوية في مكان ما خلال فترة زمنية محددة .
- ٥-.....العنصر..... مادة نقية لا يمكن تجزئتها إلى مواد أصغر منها عن طريق التفاعلات الكيميائية .
- ٦-.....الإلكترونات... جسيمات شحنتها سالبة تدور في فراغ حول النواة .
- ٧-.....الآلة البسيطة. أداة تستخدم لتغيير مقدار القوة واتجاهها أو مسافتها لإنجاز الشغل .

اختر الإجابة الصحيحة /

من اللافلزات و تستخدم عادة للقضاء على البكتيريا		
ج- الكلور	ب- النيتروجين	أ-الصوديوم
اللمعان و التوصيل للحرارة والكهرباء كلها صفات		
ج-أشباه الفلزات	ب-اللافلزات	أ-الفلزات
أي المتغيرات التالية يقيسها علماء الأرصاد لتوقع حالة الطقس؟		
ج- عدد السكان	ب-البارومتر	أ-ضغط الهواء
أي ألوان الضوء المرئي له طول موجي أكبر		
ج- البنفسجي	ب- الأزرق	أ-الأحمر
المركب الذي يشوه الفلز		
ج-أكسيد الفلز	ب- الحمض	أ-ثاني أكسيد الكربون
تكون سرعة الصوت أكبر ما يمكن في المواد		
ج- الغازية	ب- السائلة	أ- الصلبة
يقاس التردد بوحدة		
ج- الهيرتز	ب- الجول	أ- النيوتن
هي الأجسام التي لا ينفذ الضوء من خلالها		
ج- شبه الشفافة	ب- الشفافة	أ- المعتمة

- ١- انكسار الضوء انحراف الضوء عن مساره عند المرور بين وسطين مختلفين (صح).
- ٢- الطاقة الناتجة عن حركة الجسم تسمى طاقة الحركة (صح).
- ٣- الشغل = القوة × المسافة المقطوعة باتجاه القوة (صح).

أجيب-ي عن الآتي:

- ٢- الأجسام التي تشتت أغلب الضوء الساقط عليها (معتمة - شفافة - شبه شفافة)
- ٣- حسب قانون الانعكاس في الضوء فإن زاوية السقوط ..تساوي.. الانعكاس

كَلِمَاتُكَ وَأَنْتَ مَجِيدٌ

سائرين إلى درب النجاح بهمة وعزم وطموح

وما توفيقي إلا بالله.... عير الجناعي

الوحدة الرابعة (الطقس)
الفصل السابع (نماذج الطقس)

الفكرة العامة

(كيف يتوقع العلماء حالة الطقس)

تقييم الوحدة

ملاحظة			معايير التقييم
			صحة الإجابات
			جمال الخط
			سرعة الإنجاز

ملاحظات المعلم / ة

.....
.....
.....
.....



الدرس الأول (الغلاف الجوي والطقس)

التاريخ : / / ١٤٤٤ هـ

أ) نصل كل مصطلح بما يناسبه من العبارات :-

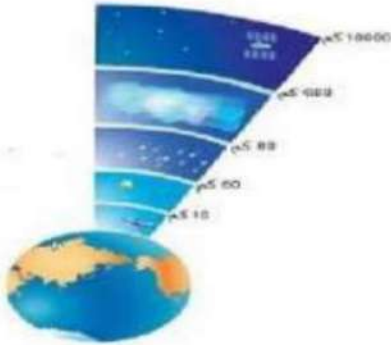
كمية بخار الماء في الغلاف الجوي

الطقس

وصف حالة الجو في وقت محدد

الرطوبة

ب) نرتب طبقات الغلاف الجوي :-



ميزوسفير

ثيرموسفير

ستراتوسفير

إكسوسفير

تروبوسفير



الدرس الأول (الغلاف الجوي والطقس)

التاريخ : / / ١٤٤٤ هـ

أ) نختار الإجابة الصحيحة فيما يلي :-

١- الرياح العالمية .

تتحرك على شكل حلقات

تهب فوق مساحات كبيرة

٢- يستعمل البارومتر لقياس .

الضغط الجوي

الرياح

٣- القوة الواقعة على مساحة معينة بفعل وزن عمود الهواء .

الإشعاع الشمسي

الضغط الجوي

ب) ما الذي يغير الضغط الجوي



ماذا يحدث للضغط الجوي عندما يبرد الهواء ؟ 😊?

موقع
مادتي



الدرس الثاني (الغيوم والهطول)

التاريخ : / / ١٤٤٤ هـ

أ) ما نوع الغيوم في الشكل التالي :-



ب) نختار الإجابة الصحيحة فيما يلي :-

١- ليس من أشكال الهطول الصلب .

البرد

المطر

٢- حالة الطقس لمنطقة ما في وقت محدد .

خريطة الطقس

المناخ

٣- الغيوم والهطول يتشكلان بفعل وجود .

البرودة

بخار الماء

٤- منطقة التقاء الكتل الهوائية المختلفة .

الجبهات الهوائية

الكتل الهوائية



الوحدة الرابعة (الطقس)
الفصل الثامن (العواصف والمناخ)

الفكرة العامة


(ما علاقة مناخ منطقة ما بنوع العواصف المتشكلة فيها)

تقييم الوحدة

ملاحظة	☹️	😊	معايير التقييم
			صحة الإجابات
			جمال الخط
			سرعة الإنجاز

ملاحظات المعلم / ة

.....
.....
.....
.....



الدرس الأول (العواصف)

التاريخ : / / ١٤٤٤ هـ

أ) نحدد نوع العاصفة لكل صورة :-



ب) نصل كل أعصار بعبارته المناسبة :-

عاصفة ذات ضغط منخفض في مركزها

إعصار
حلزوني

دوران سحابة على شكل قمعي يصاحبها رياح شديدة

إعصار دوّار

يبدو على شكل غيوم حلزونية مع تجويف في الوسط

إعصار قمعي



تابع الدرس الأول (العواصف)

التاريخ : / / ١٤٤٤ هـ

أ) هل العبارات التالية صحيحة أم خاطئة :-

- ١- الأمواج العاتية هي ارتفاع الماء في المحيط . (.....)
- ٢- تنشأ العاصفة الثلجية عندما تتلاقي كتلتان في الهواء مختلفتان في درجة الحرارة . (.....)
- ٣- العواصف الرملية تهب على سطح البحر . (.....)

ب) من خلال الصور التالية نكتب أسم الجهاز المستخدم في تتبع العواصف :-



.....

.....

.....

ما الذي يسبب ظروف الطقس القاسية ؟

.....



الدرس الثاني (المناخ)

التاريخ : / / ١٤٤ هـ

أ) نصل كل صورة بعامل المناخ الذي يؤثر فيها :-



ب) نختار الإجابة الصحيحة فيما يلي :-

١- ماذا تسمى الحركة المستمرة لماء المحيط .

إعصار

تيار ماني

هطول

٢- متوسط الطقس لأي مكان هو .

الارتفاع

التجمد

المناخ

٣- المنطقة من الجبل التي تقع في الجانب غير المواجه للرياح .

ظل المطر

المسطح الماني

الرياح

موقع
مادنتيري



تابع الدرس الثاني (المناخ)

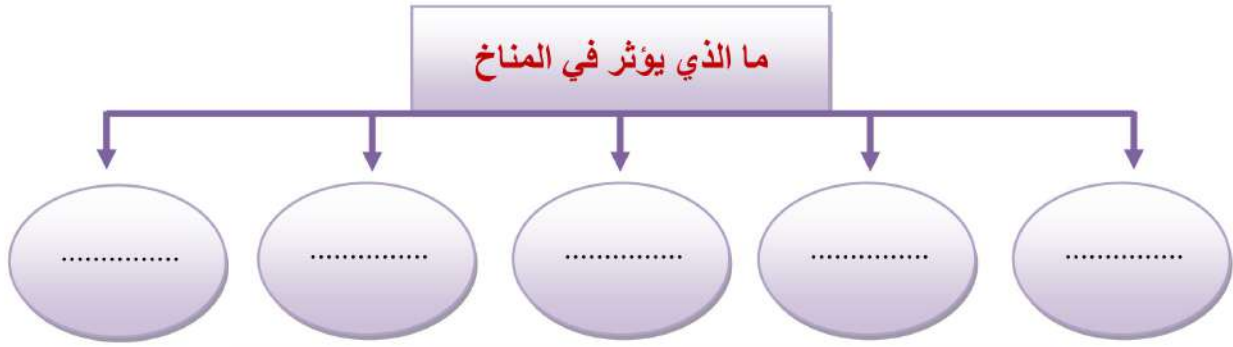
التاريخ : / / ١٤٤٤ هـ

أ) ما العوامل الطبيعية التي تؤدي إلى تغير المناخ ؟



- ١-
- ٢-
- ٣-

ب) :-



ج) ما المصطلح العلمي المناسب للعبارة التالية ؟



(.....) أي تغير مؤشر وطويل المدى في معدل حالة الطقس يحدث لمنطقة معينة



الوحدة الخامسة (المادة)

الفصل التاسع (المقارنة بين أنواع المادة)

الدروس :-

١- ما وحدة البناء في المادة ؟

٢- ما خصائص الفلزات واللافلزات واشباه الفلزات ؟

* المهارات التي لا بد أن تتقن :-

١- توضيح العلاقة بين المادة والعنصر والذرة .

٢- تسمية أجزاء الذرة .

٣- تصنيف مجموعة من العناصر إلى فلزات واللافلزات واشباه الفلزات .

٤- مقارنة بين الفلزات واللافلزات واشباه الفلزات .

* الفكرة العامة

(كيف أصنف المواد)



الدرس الأول (العناصر)

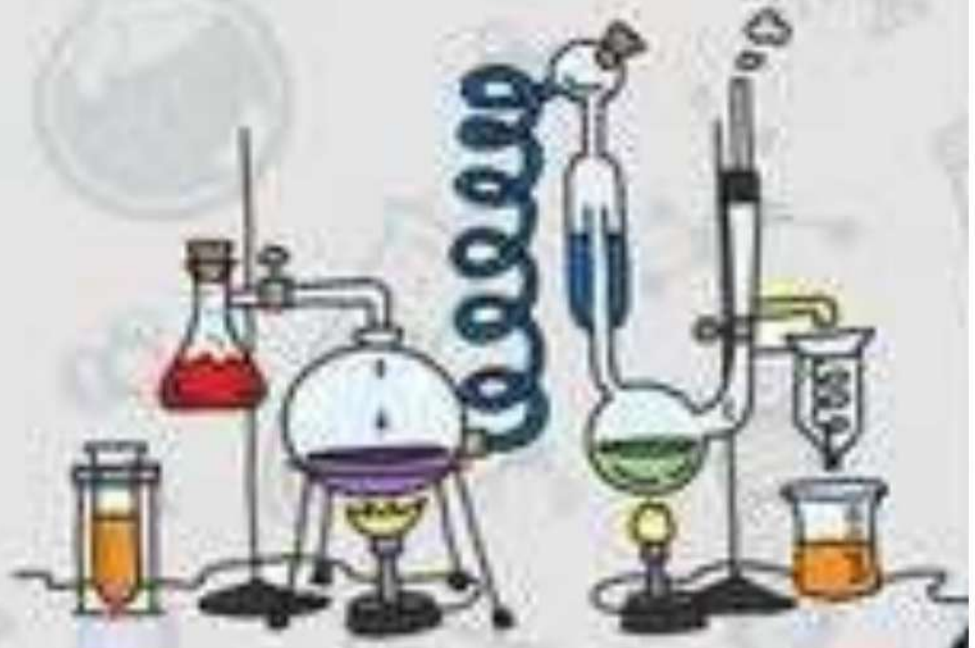
ملخص الدرس

.....	العناصر
.....	الذرات
.....	الجدول الدوري

أ – هل تم إنجاز تلخيص الدرس في اليوم المحدد ؟

ب – وضع إشارة عند استحقاق الطالب للعبارة المناسبة في إنجاز مطوية تلخيص الدرس .

مقبول	جيد	جيد جداً	رائع جداً
.....

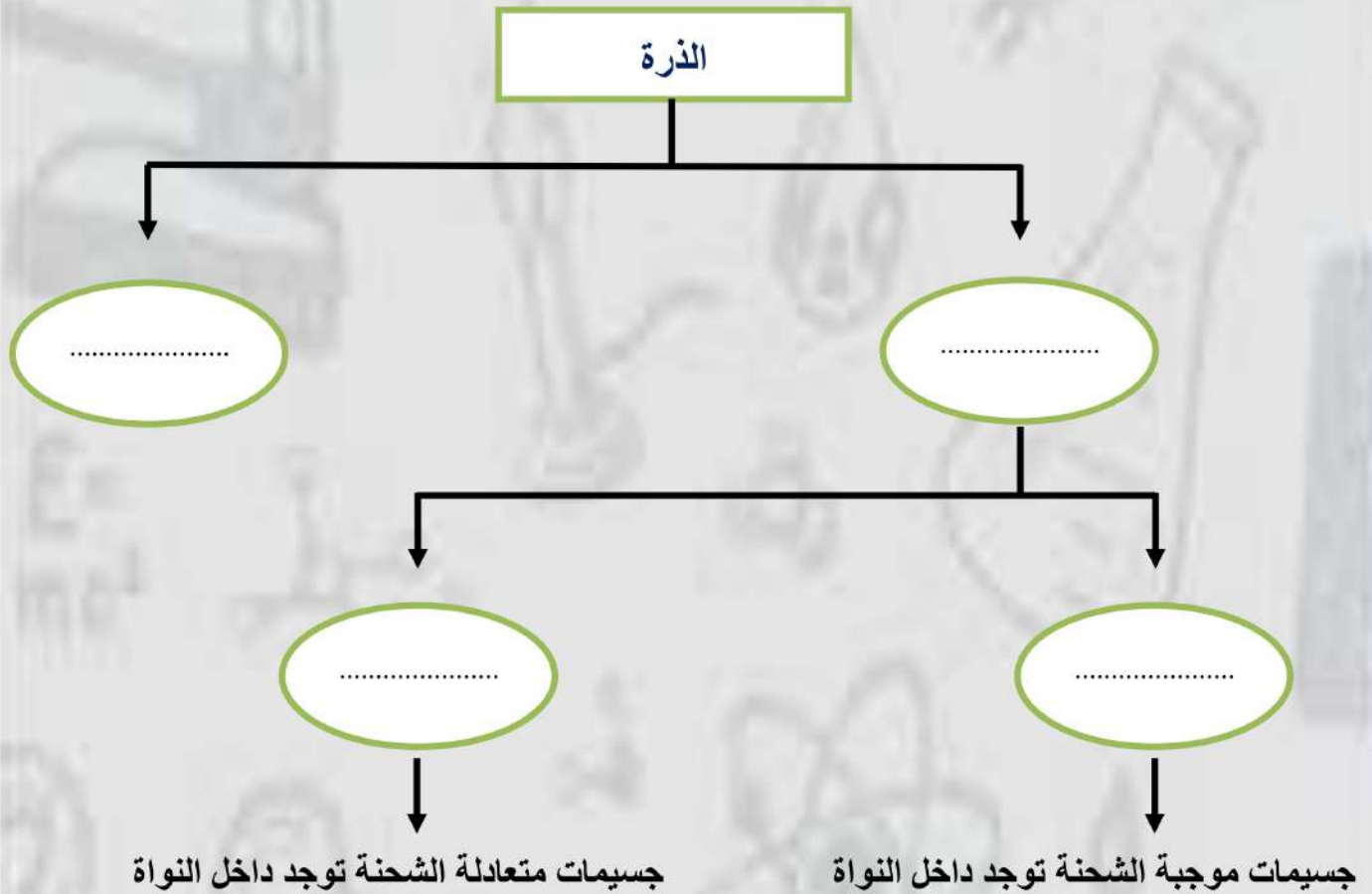


الدرس الأول (العناصر)

أ - ما المصطلح العلمي المناسب لكل عبارة :-

- (.....) مادة نقية لا يمكن تجزئتها إلى مواد أصغر عن طريق التفاعلات الكيميائية .
(.....) هي أصغر وحدة في العنصر تحمل صفاته .
(.....) جسيم يتكون من ارتباط ذرتين أو أكثر معاً .

ب - نكمل الناقص في الخريطة التالية :-



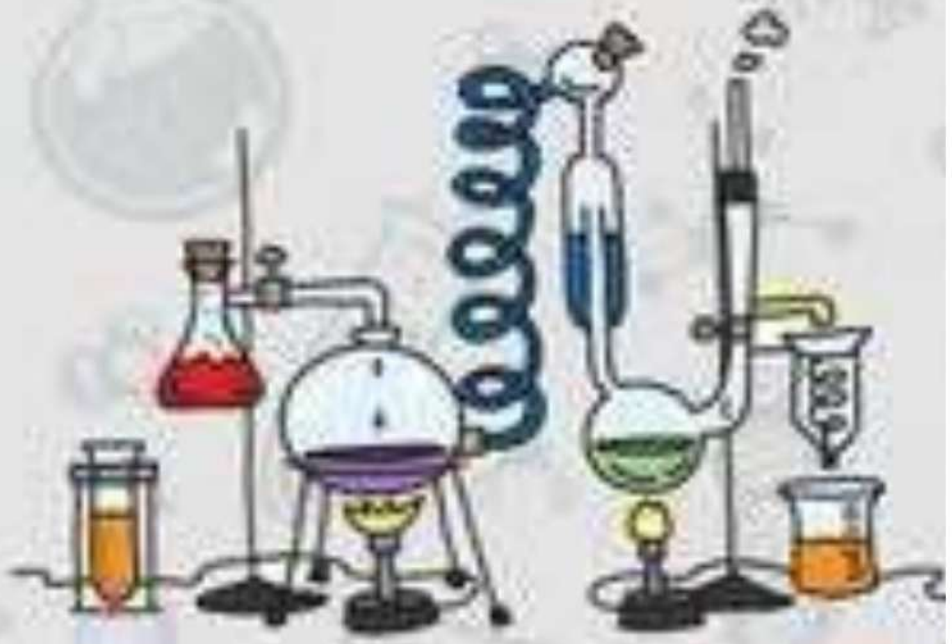
الدرس الأول (العناصر)

أ - نكمل الفراغات التالية :-

- ١- مادة نقية لا يمكن تجزئتها إلى مواد أصغر .
- ٢- تتكون جميع المواد من وحدات بنائية تسمى
- ٣- هي جسيمات موجبة الشحنة توجد داخل النواة .
- ٤- قام بكتابة أسماء العناصر ورتبها من الأخف إلى الأثقل .
- ٥- تتكون الذرة من و
- ٦- يسمى عدد البروتونات في نواة الذرة

ب - ما رأيك بصحة العبارات التالية :-

- ١- العدد الذري هو عدد البروتونات في نواة الذرة وهو الذي يحدد نوع العنصر (.....)
- ٢- كل عنصر له أسم ورمز (.....)
- ٣- الذرات متعادلة كهربائياً لأن عدد البروتونات الموجبة يساوي عدد الإلكترونات السالبة (.....)
- ٤- يوجد في الطبيعة حوالي ١٠٠ عنصر فقط (.....)
- ٥- تتكون الصيغة الكيميائية من حروف تدل على نوع العنصر وارقام تدل على عدد الذرات (.....)



الدرس الثاني (الفلزات واللافلزات واشباه الفلزات)

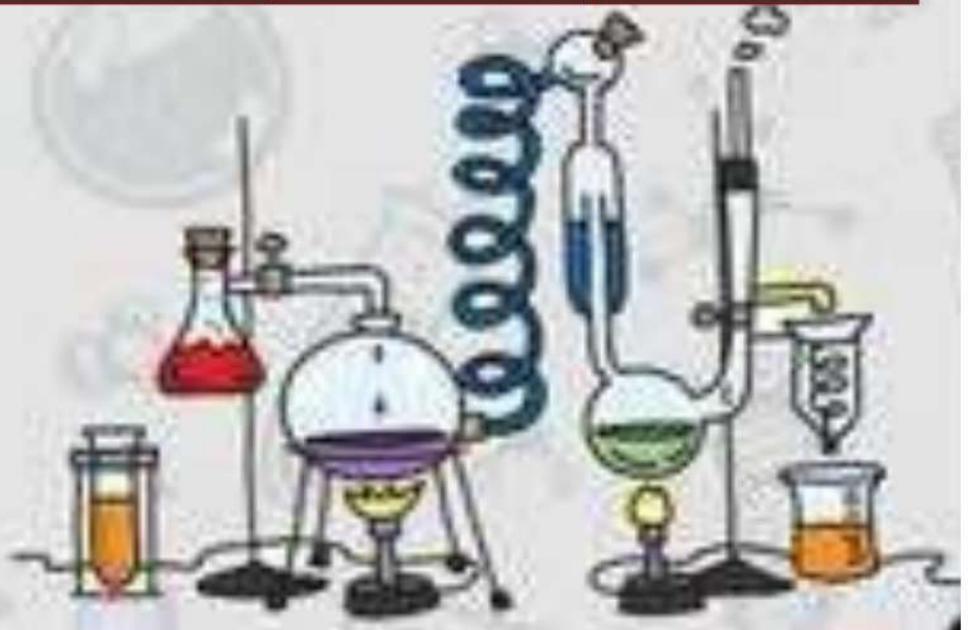
ملخص الدرس

الفلزات	اللافلزات	اشباه الفلزات
.....
.....

أ - هل تم إنجاز تلخيص الدرس في اليوم المحدد ؟

ب - وضع إشارة عند استحقاق الطالب للعبارة المناسبة في إنجاز مطوية تلخيص الدرس .

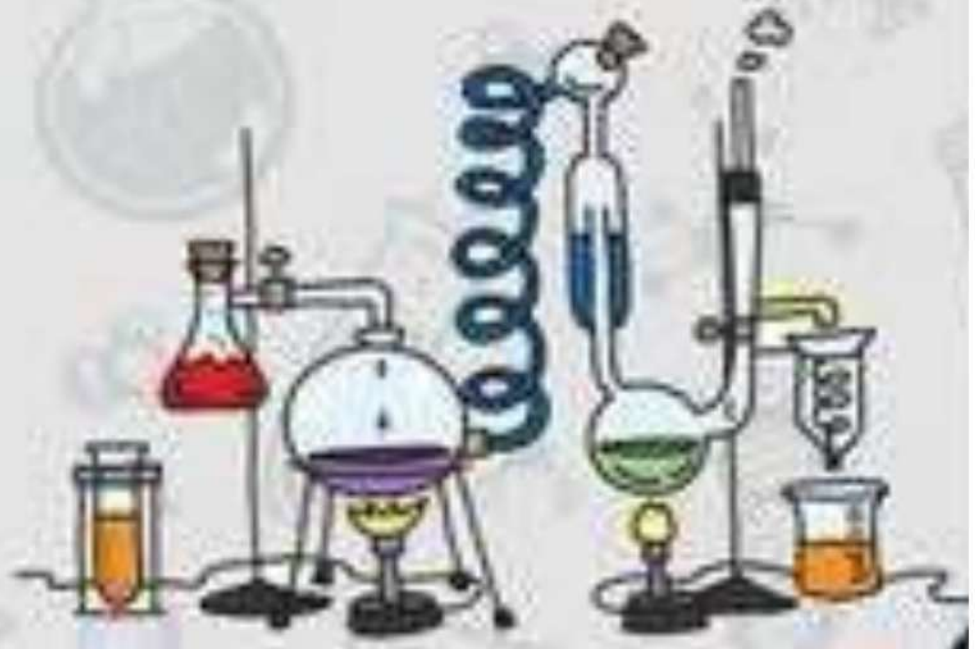
مقبول	جيد	جيد جداً	رائع جداً
.....



الدرس الثاني (الفلزات واللافلزات واشباه الفلزات)

أ - نضع من (أ) ما يناسبه في القائمة (ب)

(أ)	(ب)
١- تقع الفلزات	الجانب الأيمن من الجدول الدوري
٢- توجد جميعها في الحالة الصلبة مثل (الحديد , النحاس)	أشبه الفلزات
٣- تقع لافلزات في	الجانب الأيسر والأوسط من الجدول الدوري
٤- هي عناصر لها صفات بين الفلزات واللافلزات	الفلزات
٥- أشهر اللافلزات النشطة كيميائيا	الفلور والكلور واليود



الدرس الثاني (الفلزات واللافلزات واشباه الفلزات)

أ - نكمل الفراغات التالية :-

- ١- الفلزات توجد في الحالة الصلبة مثل
- ٢- الغازات النبيلة غير نشطة كيميائيا مثل
- ٣- يستخدم في صناعة هياكل السيارات
- ٤- يستعمل في صناعة أسلاك الكهرباء
- ٥- و يصنع منهما حلي النساء
- ٦- أقل كفاءة في نقل التيار الكهربائي من الفلزات

ب - نحدد استعمالات العناصر فيما يلي :-

- ١- الألمنيوم ←
- ٢- النحاس ←
- ٣- الكلور ←
- ٤- الأرجون ←
- ٥- السليكون ←

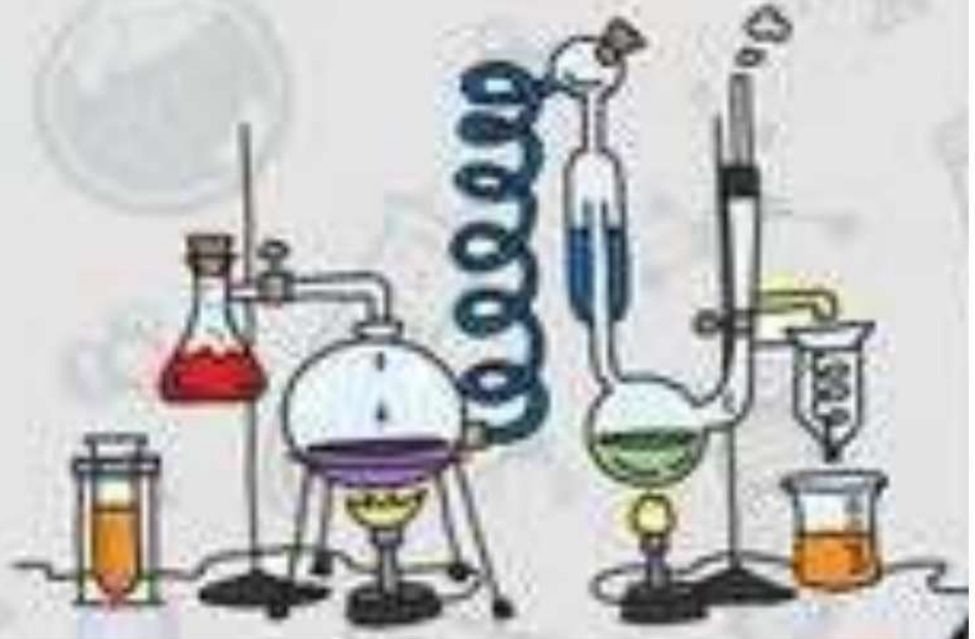
الدرس الثاني (الفلزات واللافلزات واشباه الفلزات)

أ - ما رأيك بصحة العبارات التالية :-

- ١- يتكون الهواء في معظمه من لافلزات مثل النيتروجين والأكسجين (.....)
- ٢- الفلزات الأكثر نشاطاً هي أسرع تأكلاً (.....)
- ٣- أشباه الفلزات موصلة جيدة للحرارة والكهرباء (.....)
- ٤- الصوديوم يحفظ تحت الكيروسين لمنع من التفاعل مع الأكسجين (.....)
- ٥- الكروم أكثر الفلزات قساوة (.....)
- ٦- تشكل الفلزات نحو ١٠٠٪ من العناصر (.....)

ب - أي العبارات التالية تصف الفلزات :-

- ١- لا توصل الحرارة والكهرباء
- ٢- قابلة للطرق والسحب وتوصل الحرارة
- ٣- رديئة في التوصيل للحرارة



الوحدة الخامسة (المادة)

الفصل العاشر (التغيرات الفيزيائية والكيميائية للمادة)

الدروس :-

- ١- كيف تتغير حالة المادة عند اكتسابها او فقدانها للطاقة ؟
- ٢- كيف ترتبط الذرات لتكون الجزيئات والمركبات ؟

* المهارات التي لا بد أن تتقن :-

- ١- تسمية التغير الذي يحدث (للماء – الجليد) عند تغير درجة الحرارة .
- ٢- التمييز بين التمدد الحراري والانكماش الحراري مع ذكر مثال .
- ٣- التمييز بين خصائص مركب ما وخصائص العناصر المكونة له .
- ٤- معرفة المؤشرات العامة على حدوث تغير كيميائي .
- ٥- كتابة معادلة كيميائية توضح تكون الماء

* الفكرة العامة

(ما الذي يسبب تغير المادة)



الدرس الاول (تغير حالة المادة)

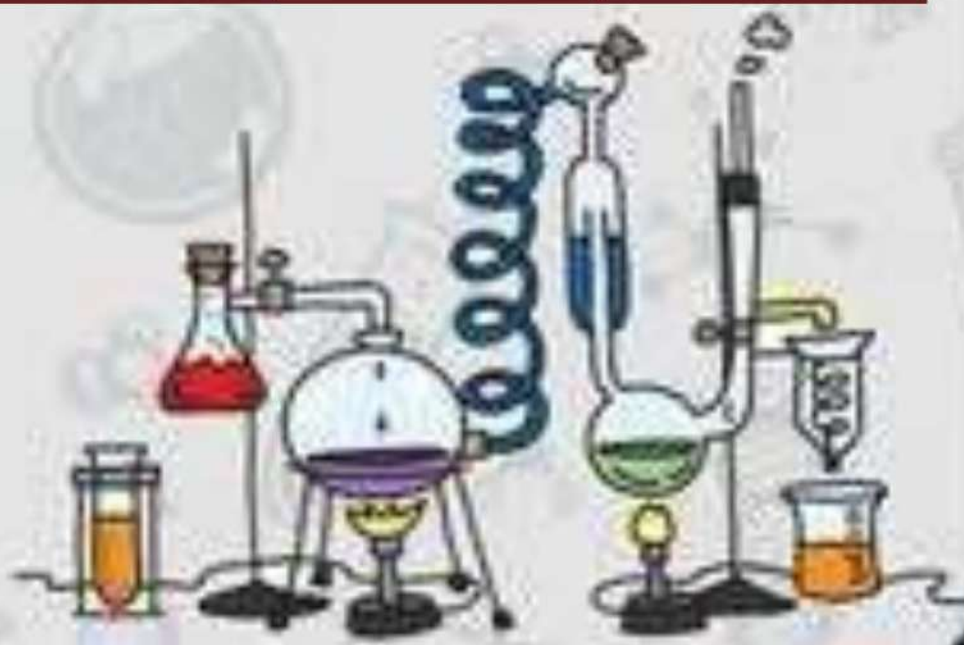
ملخص الدرس

التغيرات في حالة المادة	
.....	زيادة الحرارة وخفضها
.....	درجة الانصهار او الغليان
.....	التمدد والانكماش

أ - هل تم إنجاز تلخيص الدرس في اليوم المحدد ؟

ب - وضع إشارة عند استحقاق الطالب للعبارة المناسبة في إنجاز مطوية تلخيص الدرس .

مقبول	جيد	جيد جداً	رائع جداً
.....

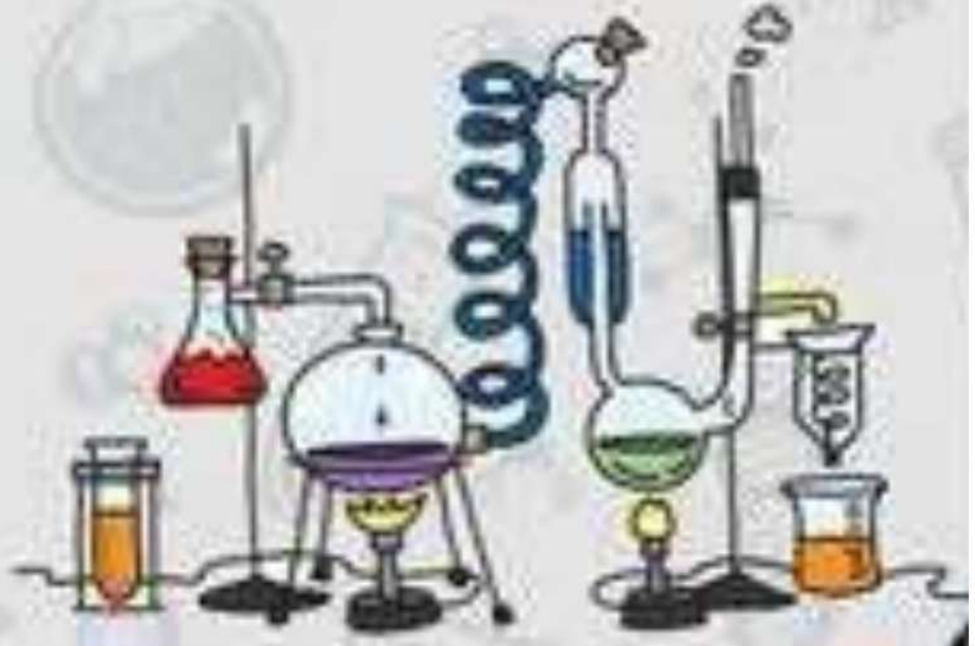
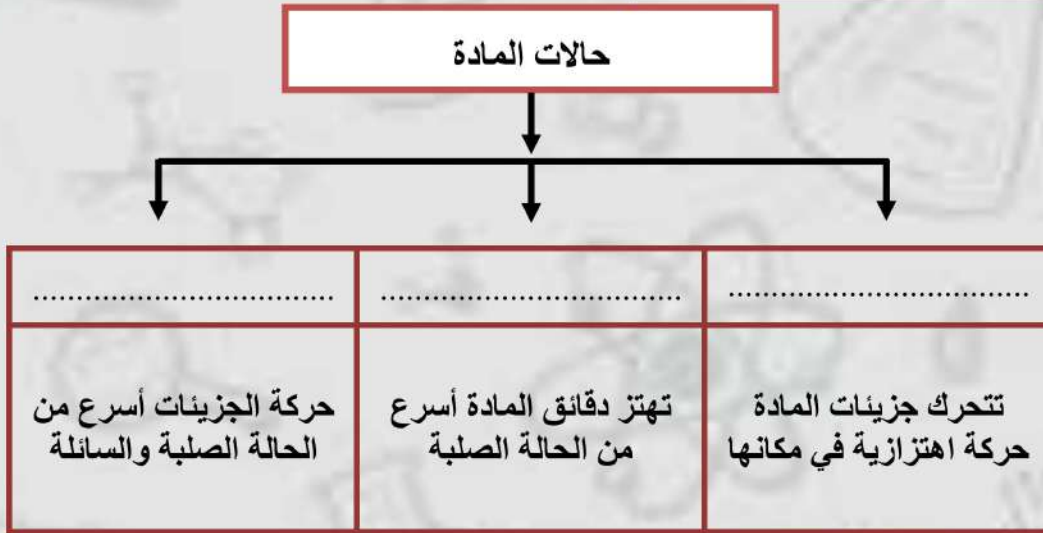


الدرس الأول (تغير حالة المادة)

أ - ما المصطلح العلمي المناسب لكل عبارة :-

- ١- (.....) هو التغير الذي ينتج عنه تغير شكل الجسم دون تغير نوع المادة .
- ٢- (.....) تحول المادة الصلبة مباشرة إلى غازية دون المرور بحالة سائلة .
- ٣- (.....) الدرجة التي تبدأ عندها المادة بالغليان .

ب - نكمل الناقص في الخريطة التالية :-



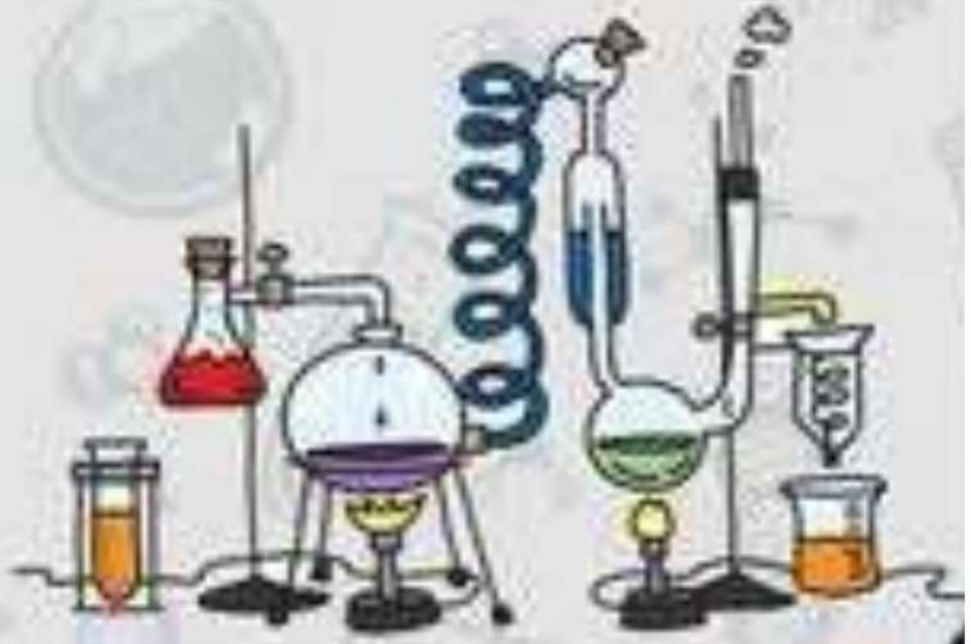
الدرس الاول (تغير حالة المادة)

أ - نصل (أ) ما يناسبه في القائمة (ب)

(أ)		(ب)
١- درجة الحرارة التي تبدأ عندها المادة بالغيان	التجمد
٢- درجة الحرارة التي تبدأ عندها المادة بالانصهار	الغليان
٣- درجة الحرارة التي تبدأ عندها المادة بالتجمد	التسامي
٤- ذوبان الثلج عند درجة حرارة الغرفة	الانصهار

ب - نكمل الفراغات التالية :-

- ١- المادة في الحالة الغازية تبدأ في التكثف والتحول إلى الحالة
- ٢- المادة في الحالة السائلة تبدأ في التجمد والتحول إلى حالة
- ٣- تزداد المواد عند تحولها من حالة سائلة إلى صلبة



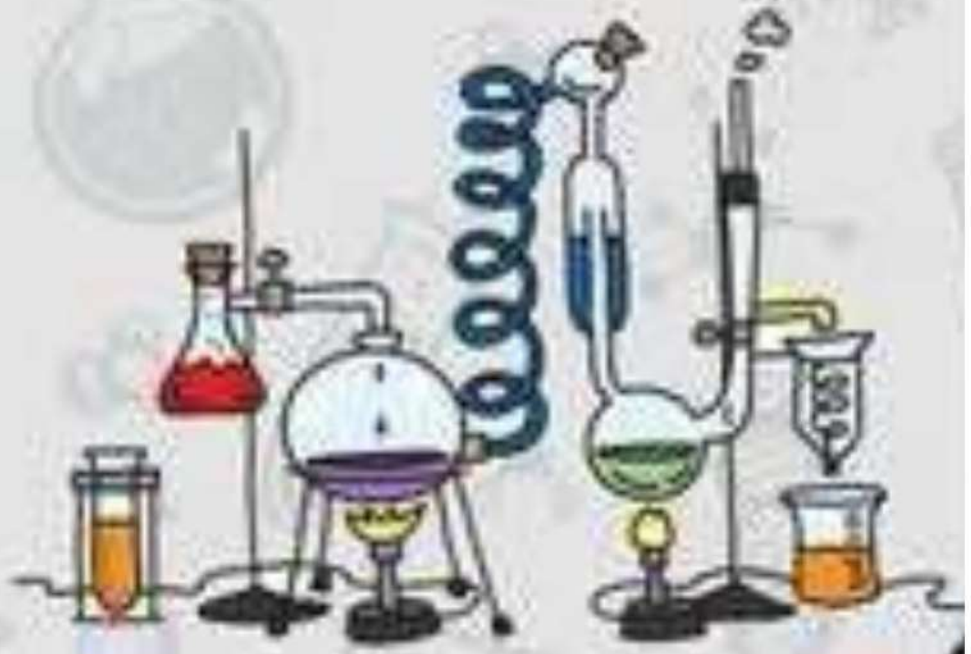
الدرس الاول (تغير حالة المادة)

أ- ما رأيك بصحة العبارات التالية

- ١- تتغير حالة المادة عندما تكتسب الحرارة أو تفقدها . (.....)
- ٢- تقاس درجة الحرارة بمقياس الحرارة . (.....)
- ٣- تتمدد الغازات وتنكمش أكثر من السوائل . (.....)
- ٤- كل مادة نقية لها درجة حرارة انصهار خاصة بها . (.....)
- ٥- الانكماش الحراري هو زيادة حجم المادة نتيجة التغير في درجة حرارتها . (.....)
- ٦- الحرارة لا تعد شكل من أشكال الطاقة . (.....)

ب - نقارن بين التمدد الحراري والانكماش الحراري مع ذكر مثال :-

الانكماش الحراري	التمدد الحراري
.....



الدرس الثاني (المركبات والتغيرات الكيميائية)


ملخص الدرس

.....	المركبات
.....	التغيرات الكيميائية
.....	الأدلة على حدوث تغيرات كيميائية

أ – هل تم إنجاز تلخيص الدرس في اليوم المحدد ؟

ب – وضع إشارة عند استحقاق الطالب للعبارة المناسبة في إنجاز مطوية تلخيص الدرس .

مقبول	جيد	جيد جداً	رائع جداً
.....



الدرس الثاني (المركبات والتغيرات الكيميائية)

أ - المصطلح المناسب للعبارات التالية :-

- ١- (.....) مادة نقية تتألف من اتحاد عنصرين أو أكثر .
- ٢- (.....) مركب يتكون نتيجة اتحاد الحديد مع الأكسجين الموجود بالهواء .
- ٣- (.....) تغير يحدث في تركيب المادة عندما ترتبط الذرات بعضها مع بعض مكونة مادة جديدة .

ب - نكمل الناقص في الخريطة التالية :-



* نجب حسب ما هو مطلوب :-

- ← + — معادلة ملح الطعام
- ← + — معادلة الماء
- — مثال على التغير الكيميائي
- — الاسم الكيميائي للصدأ

الدرس الثاني (المركبات والتغيرات الكيميائية)

أ - نكمل الفراغات التالية :-

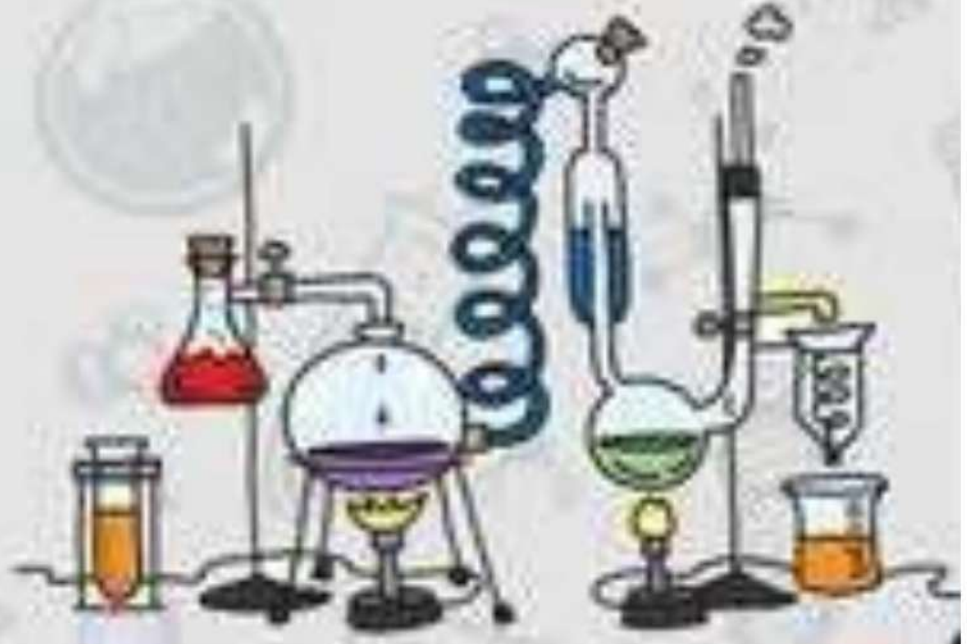
- ١- تستعمل النباتات تفاعل كيميائي مهم لانتاج الطاقة هو عملية
- ٢- ملح الطعام وصدأ الحديد مثال على التغير
- ٣- مجموع المواد المتفاعلة دائماً مجموع كتل المواد ويسمى هذا قانون

ب - نعدد المؤشرات العامة لحدوث التفاعل الكيميائي :-

- ١-
- ٢-
- ٣-
- ٤-
- ٥-

* ما رأيك بصحة العبارات التالية :-

- ١- المركبات الفضائية تستعمل الطاقة الناتجة من تفاعل الأوكسجين والهيدروجين (.....)
- ٢- تستعمل النباتات والحيوانات تفاعلين كيميائيين هما البناء الضوئي وعلمية التنفس (.....)
- ٣- بعض التغيرات الفيزيائية تنتج الضوء والحرارة مثل احتراق الشمعة (.....)
- ٤- صدأ الحديد محمر اللون بينما الحديد لامع (.....)



الوحدة السادسة (القوى والطاقة)

الفصل الحادي عشر (الطاقة والآلات البسيطة)

الدروس :-

١- ما العلاقة بين الشغل والطاقة ؟

٢- كيف تجعل الآت حياتنا أسهل ؟

* المهارات التي لا بد أن تتقن :-

١- معرفة مفهوم الشغل والطاقة مع توضيح العلاقة بينهم .

٢- الإشارة إلى بعض مكونات الآلة البسيطة من خلال الصور .

* الفكرة العامة

(كيف تستعمل الطاقة لإنجاز الشغل)



الدرس الاول (الشغل والطاقة)

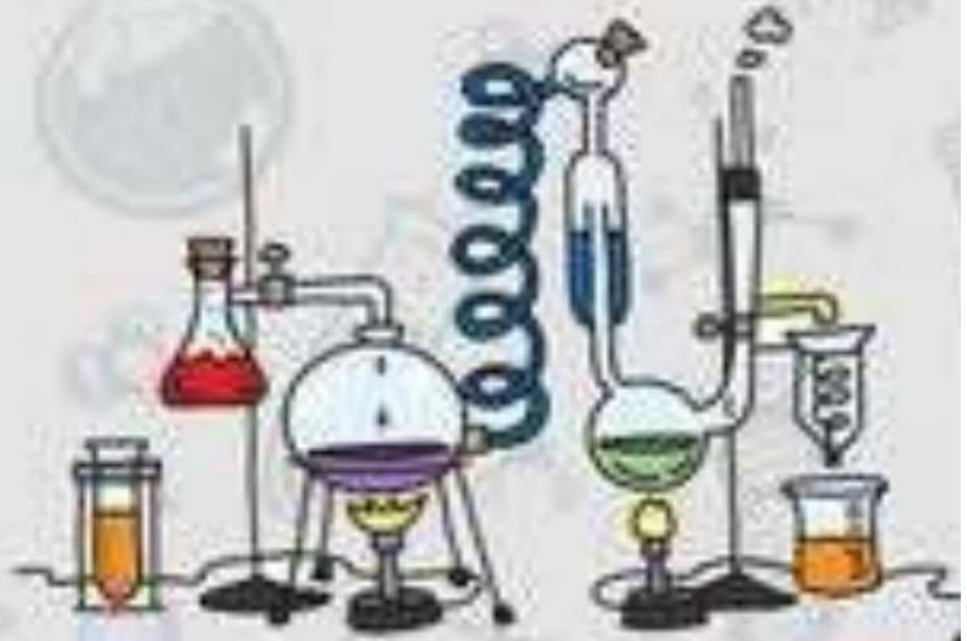
ملخص الدرس

.....	ينتج شغل عندما
.....	الطاقة ضرورية
.....	من أشكال تحولات الطاقة

أ – هل تم إنجاز تلخيص الدرس في اليوم المحدد ؟

ب – وضع إشارة عند استحقاق الطالب للعبارة المناسبة في إنجاز مطوية تلخيص الدرس .

مقبول	جيد	جيد جداً	رائع جداً
.....



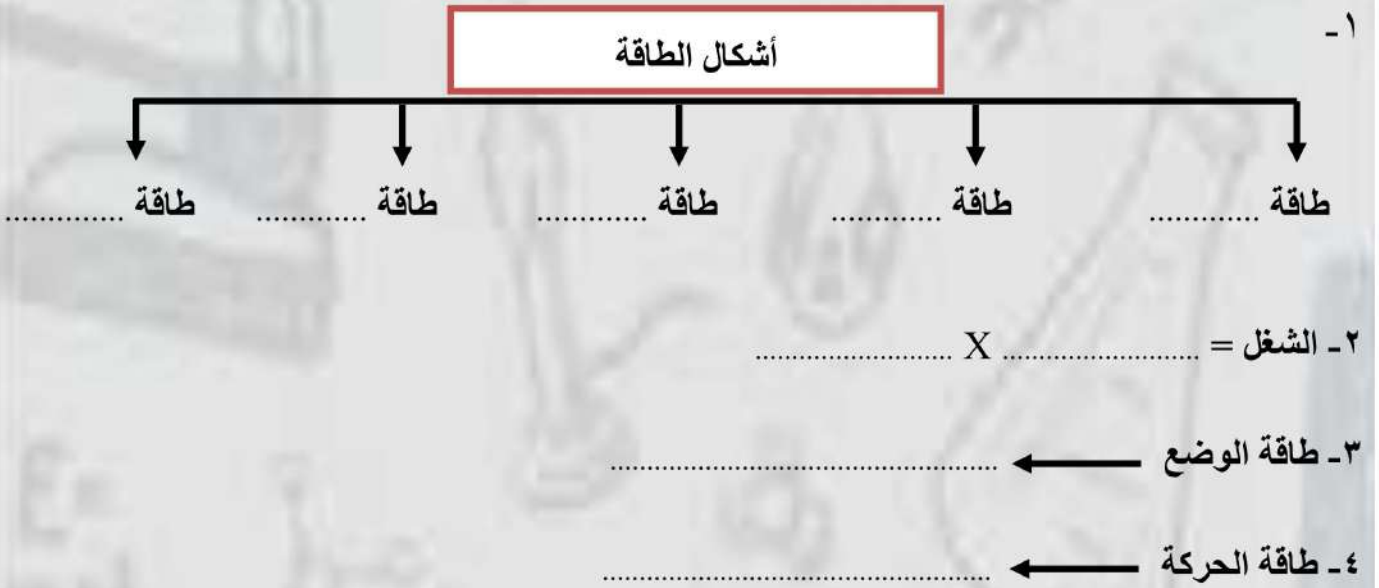
الدرس الأول (الشغل والطاقة)

أ - ما المصطلح العلمي المناسب للعبارات التالية :-

١- (.....) هو القوة المبذولة لتحريك لجسم ما مسافة معينة .

٢- (.....) القدرة على إنجاز شغل ما .

ب - نكمل الناقص في الخريطة التالية :-



ج - ما الوحدة المستخدمة لقياس كلاً من :-

* الشغل (.....)

* القوة (.....)

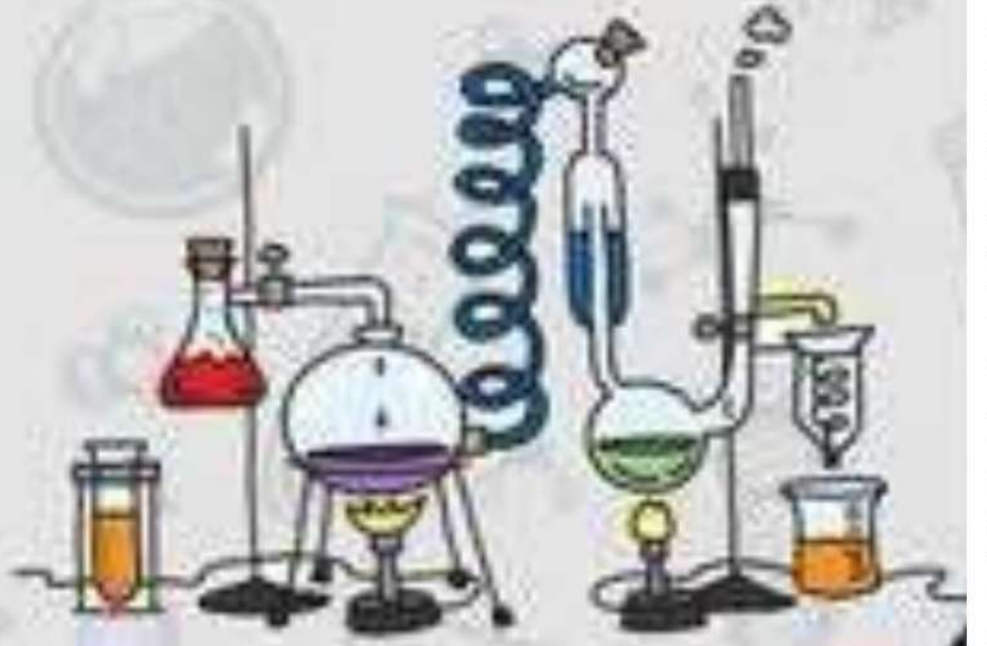
الدرس الأول (الشغل والطاقة

أ - ما رأيك بصحة العبارات التالية :-

- ١- تتحول الطاقة من شكل لأخر دون أن يفقد منها شيء أثناء التحول (.....) .
- ٢- كل عمل متعب أقوم به يعتبر شغلاً (.....) .
- ٣- قوة الاحتكاك مقاومة تؤثر في عكس اتجاه القوة المبذولة (.....) .
- ٤- الطاقة لا تفنى ولا تستحدث من العدم ولكن تتحول من شكل لأخر (.....) .
- ٥- الحركة على سطح خشن تحتاج إنجاز شغل أكبر من الشغل اللازم للحركة على سطح أملس (.....) .

ب - نكمل العبارات الآتية بما يناسب :-

- ١- الطاقة طاقة وضع مخزنة في الروابط بين البروتونات والنيوترونات في الذرة .
- ٢- هي وحدة قياس الشغل .
- ٣- ضرورة لإنجاز وإنتاج الشغل .



الدرس الثاني (الآلات البسيطة)

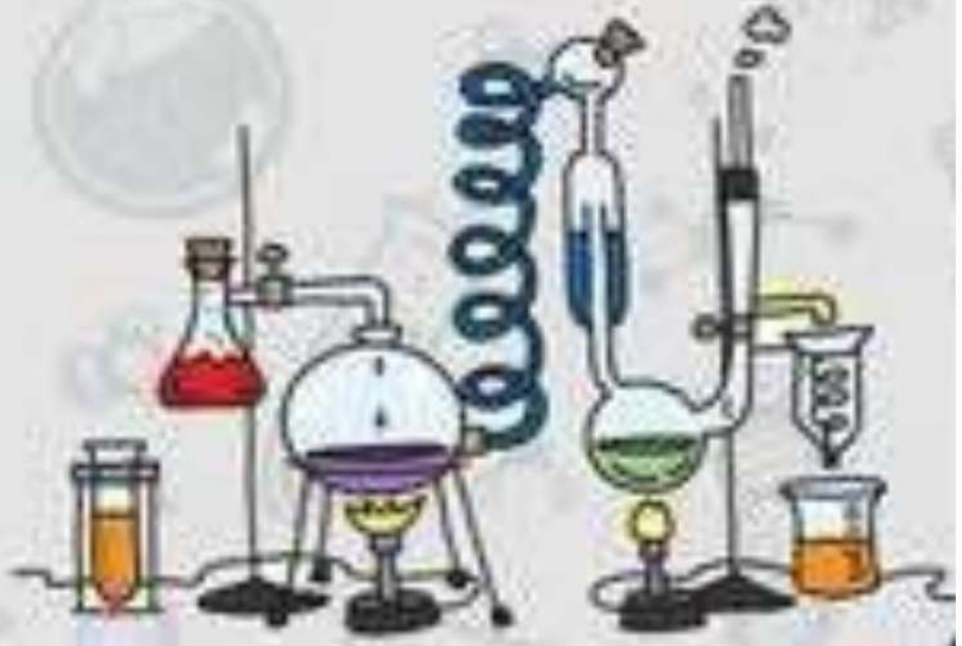
ملخص الدرس

.....	تستطيع الآلة البسيطة أن
.....	من أنواع الآلات البسيطة
.....	الآلة المركبة

أ - هل تم إنجاز تلخيص الدرس في اليوم المحدد ؟

ب - وضع إشارة عند استحقاق الطالب للعبارة المناسبة في إنجاز مطوية تلخيص الدرس .

مقبول	جيد	جيد جداً	رائع جداً
.....



الدرس الثاني (الآلات البسيطة)

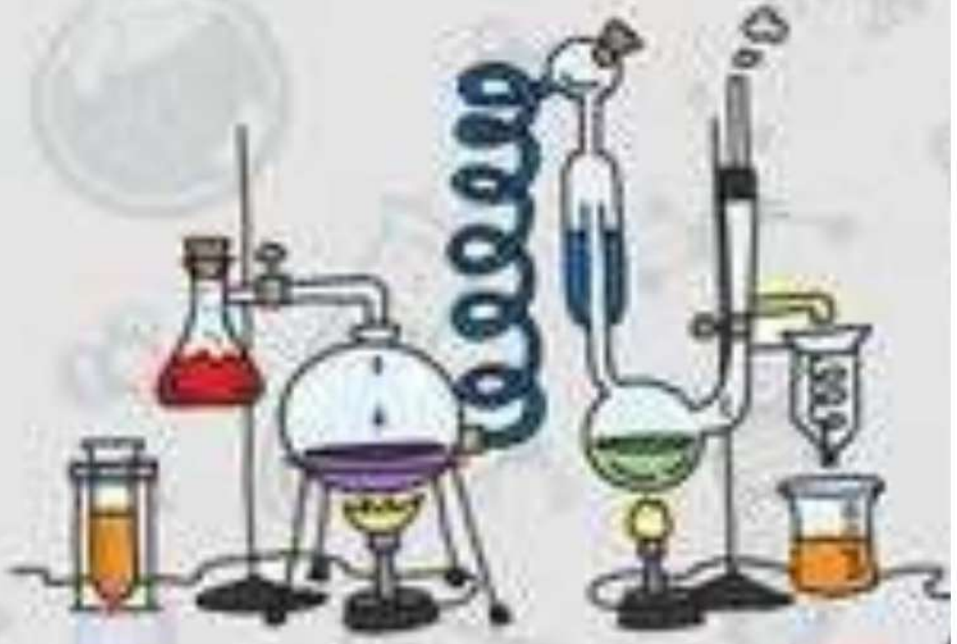
أ - من الكلمات التالية نملاً الجدول بالأسفل :-

(الآلة البسيطة , ذراع القوة , ذراع المقاومة , الفائدة الآلية , الآلة المركبة , الرافعة)

المصطلح	العبارات
	أداة تستخدم لتغيير مقدار القوة اللازمة لإنجاز شغل
	الجزء الذي يوصل هذا الجهد
	جزء الآلة البسيطة الذي يقع عليه الجهد
	النسبة بين طول ذراع القوة وذراع المقاومة
	قضيبي يتحرك حول محور
	عندما نجمع اثنين أو أكثر من الآلات البسيطة معاً

ب - مثال حسب المطلوب

- * آلة مركبة ←
- * الآلات تشبه الروافع ←
- * سطح مائل يلتف حول أسطوانة ←



الوحدة السادسة (القوى والطاقة)

الفصل الثاني عشر (الصوت والضوء)

الدروس :-

١- ما خصائص الصوت ؟

٢- كيف ينتقل الضوء . وكيف يتأثر بالمواد أثناء إنتقاله ؟

* المهارات التي لا بد أن تتقن :-

١- وصف كيف ينشأ الصوت وكيفية انتقاله .

٢- ذكر خصائص الصوت .

٣- ذكر خصائص الضوء .

٤- نوضح انكسار الضوء وانعكاسه .

* الفكرة العامة

(كيف ندرك الصوت والضوء بحواسنا)



الدرس الاول (الصوت)

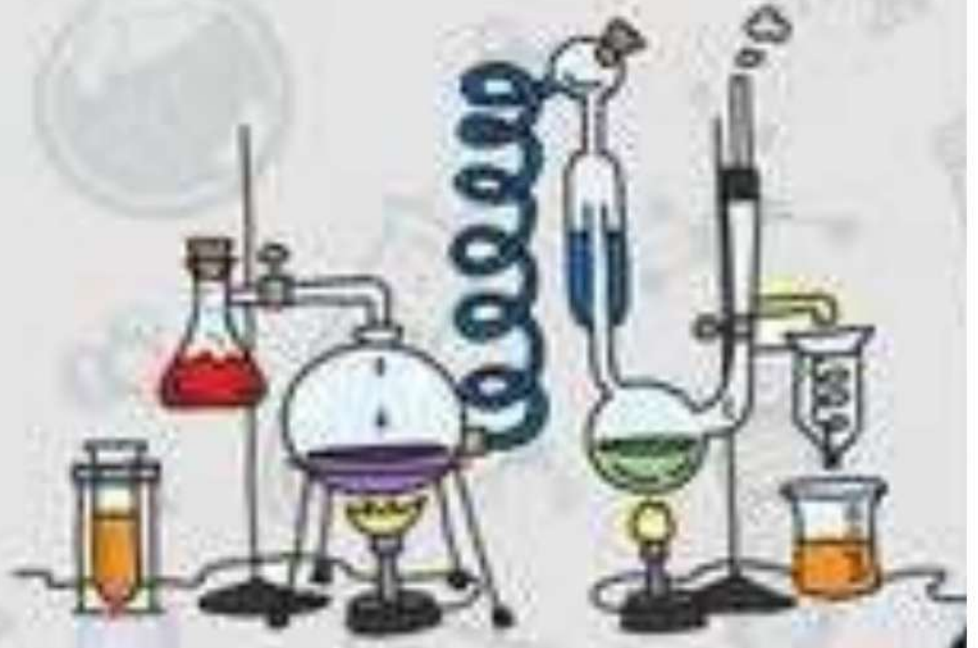
ملخص الدرس

.....	الاجسام المهتزة تنتج
.....	تنتقل الموجات الصوتية خلال
.....	بازدياد تردد الموجات الصوتية

أ - هل تم إنجاز تلخيص الدرس في اليوم المحدد ؟

ب - وضع إشارة عند استحقاق الطالب للعبارة المناسبة في إنجاز مطوية تلخيص الدرس .

مقبول	جيد	جيد جداً	رائع جداً
.....



الدرس الأول (الصوت)

أ - ما المصطلح العلمي المناسب للعبارات التالية :-

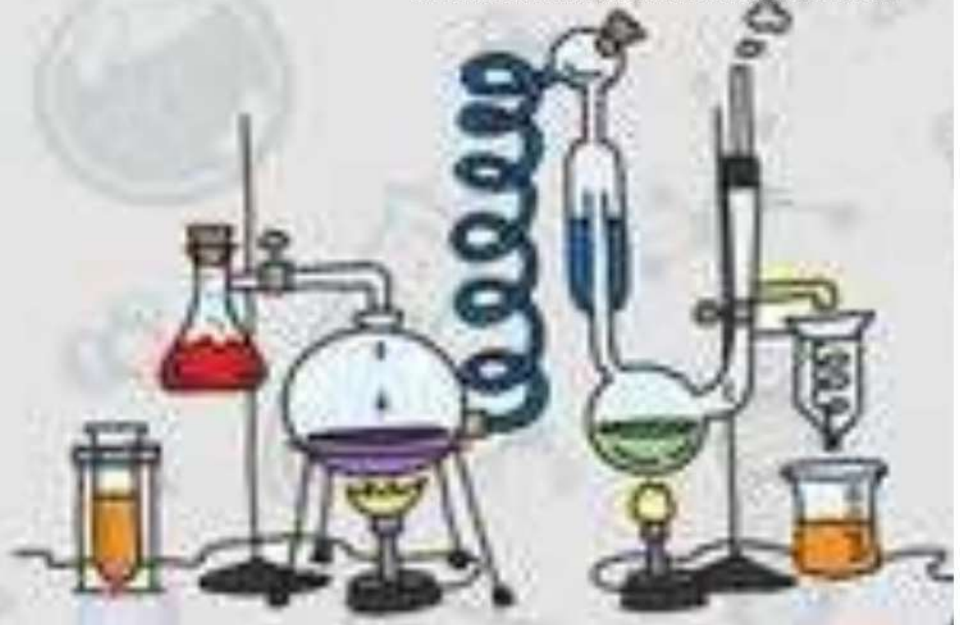
- ١- (.....) سلسلة التضامات والتخلخلات المتحركة خلال مادة ما .
- ٢- (.....) عدد مرات اهتزاز جسم ما خلال ثانية واحدة.
- ٣- (.....) منطقة لا يوجد فيها جزيئات مادة تقريبا .
- ٤- (.....) تكرار سماع الصوت بسبب انعكاس الموجات الصوتية.

ب - ما رأيك بصحة العبارات التالية :-

- ١- ينتقل الصوت عبر لمواد الصلبة والسائلة والغازية (.....)
- ٢- تنتقل الطاقة الصوتية بسبب التصادمات بين جزيئات الوسط (.....)
- ٣- سرعة الصوت أكبر ما يمكن في المواد الصلبة (.....)
- ٤- يعد الصدى مثال على أن موجات الصوت تمتص (.....)
- ٥- تسمى المادة التي ينتقل خلالها الصوت وسطاً (.....)
- ٦- الصوت الرفيع تردده منخفض (.....)
- ٧- وحدة قياس التردد هي نيوتن (.....)

ج - ما التغيرات التي تحدث للصوت عند انتقاله ؟

- ١-
- ٢-
- ٣-



الدرس الثاني (الضوء)

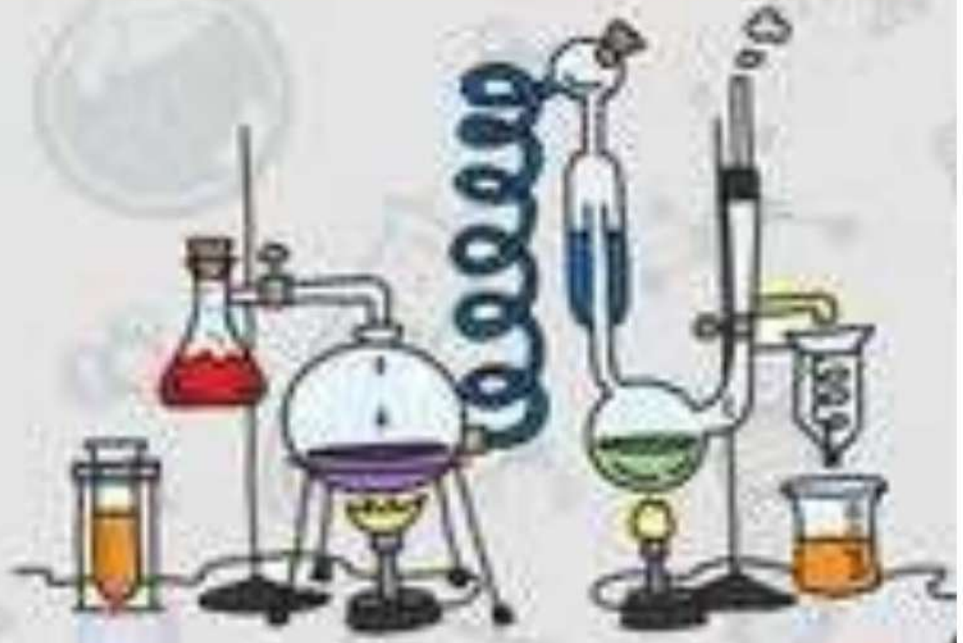
ملخص الدرس

.....	يحدث الانعكاس عند
.....	الانكسار هو
.....	المنشور يحلل الضوء المرئي

أ - هل تم إنجاز تلخيص الدرس في اليوم المحدد ؟

ب - وضع إشارة عند استحقاق الطالب للعبارة المناسبة في إنجاز مطوية تلخيص الدرس .

مقبول	جيد	جيد جداً	رائع جداً
.....



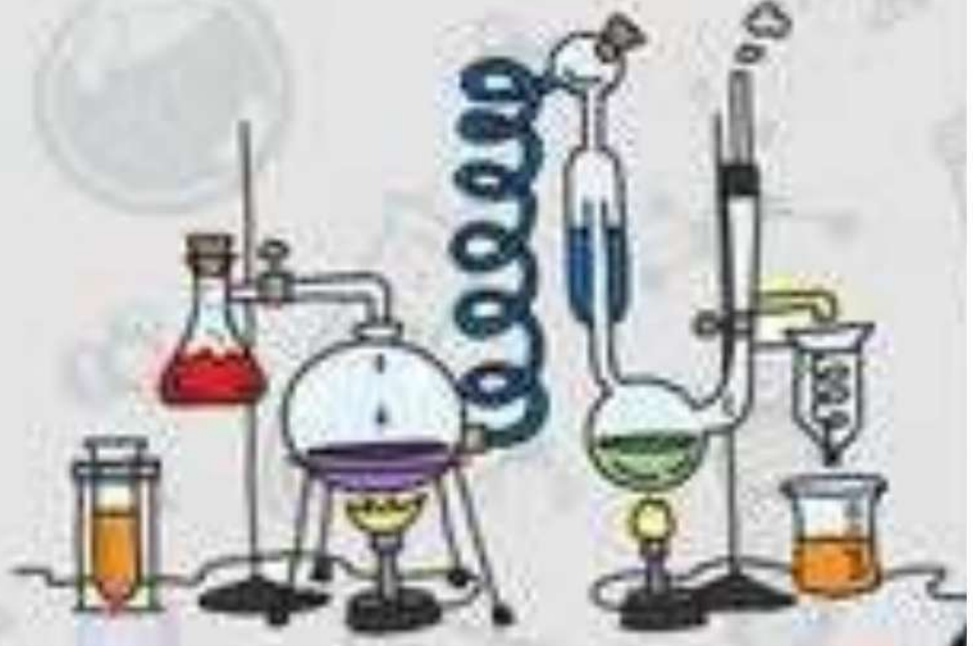
الدرس الثاني (الضوء)

أ - نكمل التالي :-

المسافة بين قمتين متتاليتين للموجة
أجسام تسمح بنفاذ الضوء من خلالها
أصغر جزء من الطاقة الضوئية يوجد بشكل مستقل

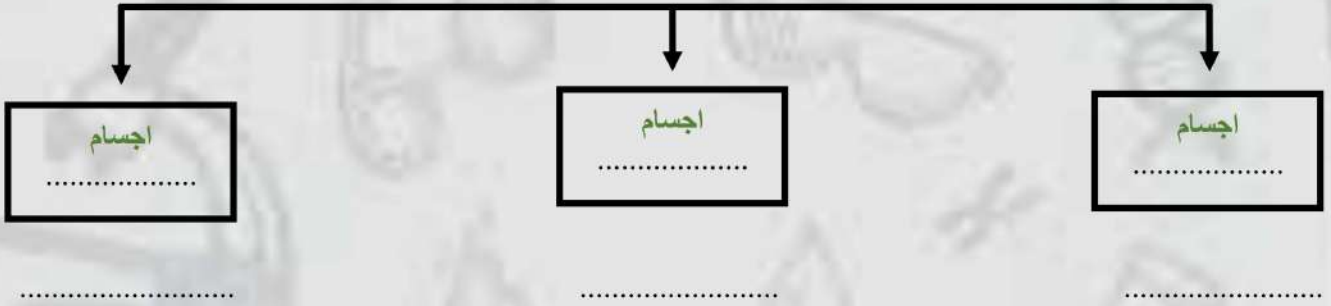
ب - ما رأيك بصحة العبارات التالية :-

- ١- جسيمات الضوء ليس لها كتلة وتسمى فوتونات (.....)
- ٢- تقل سرعة الضوء في الاوساط المادية مثل الهواء والماء (.....)
- ٣- موجات الضوء لا تحتاج وسط مادي لتنتشر من خلاله بل تنتشر في الفراغ (.....)
- ٤- الضوء يسير في خطوط متعرجة (.....)
- ٥- سطوح السوائل والغازات تعكس الضوء (.....)
- ٦- اذا مزجت الوان الطيف السبعة ينتج اللون الأبيض (.....)



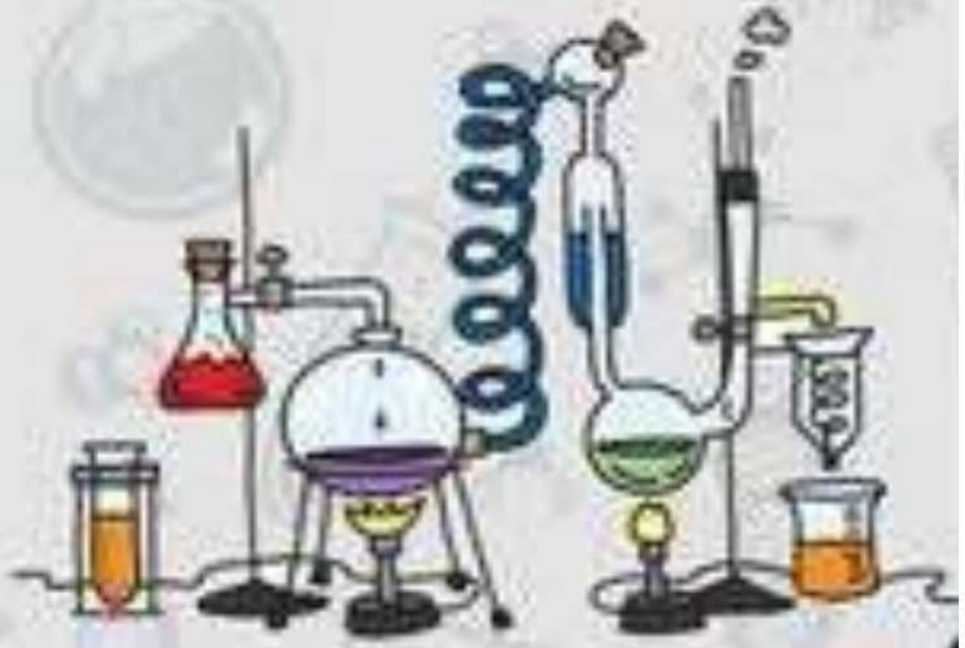
الدرس الثاني (الضوء)

أ - ماذا يحدث للضوء عندما يسقط على أجسام مختلفة؟



ب - نقارن بين انعكاس الضوء وانكساره والعدسات :-

هو ارتداده عن السطوح
انحراف الضوء عن مساره
تعمل على تجميع الأشعة الضوئية المنكسرة
تعمل على تفرق الأشعة المنكسرة فتتباعدها بينها



الاجابات

ملزمه واوراق عمل مادة العلوم

الصف الخامس الابتدائي
الفصل الدراسي الثاني

الاسم :

الفصل :





الوحدة الرابعة (الطقس)
الفصل السابع (نماذج الطقس)

الفكرة العامة

(كيف يتوقع العلماء حالة الطقس)




تقييم الوحدة

ملاحظة			معايير التقييم
			صحة الإجابات
			جمال الخط
			سرعة الإنجاز

ملاحظات المعلم / ة

.....
.....
.....
.....



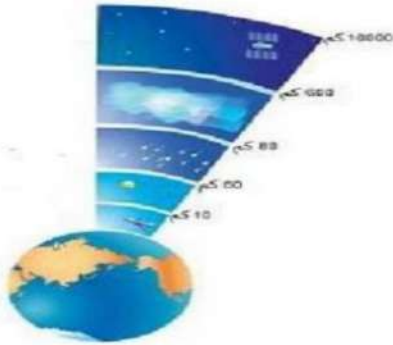
الدرس الأول (الغلاف الجوي والطقس)

التاريخ : / / ١٤٤٤ هـ

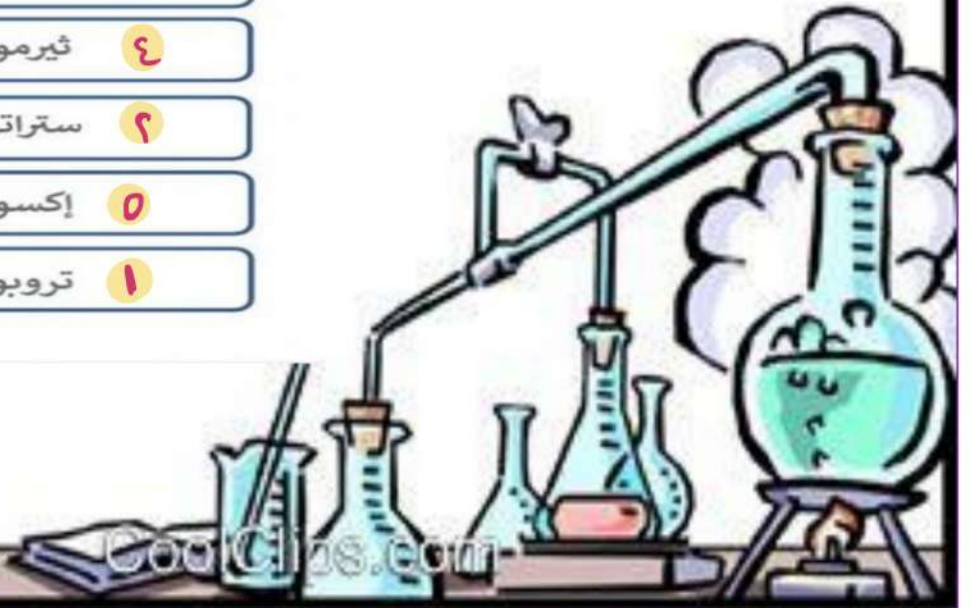
أ) نصل كل مصطلح بما يناسبه من العبارات :-



ب) نرتب طبقات الغلاف الجوي :-



- ٣ ميزوسفير
- ٤ ثيرموسفير
- ٢ ستراتوسفير
- ٥ إكسوسفير
- ١ تروبوسفير



الدرس الأول (الغلاف الجوي والطقس)

التاريخ : / / ١٤٤ هـ

أ) نختار الإجابة الصحيحة فيما يلي :-

١- الرياح العالمية .

تتحرك على شكل حلقات

تهب فوق مساحات كبيرة

٢- يستعمل البارومتر لقياس .

الضغط الجوي

الرياح

٣- القوة الواقعة على مساحة معينة بفعل وزن عمود الهواء .

الإشعاع الشمسي

الضغط الجوي

ب) ما الذي يغير الضغط الجوي



ماذا يحدث للضغط الجوي عندما يبرد الهواء ؟

يزيد. الضغط الجوي. كلما. انخفضت. الحرارة



الدرس الثاني (الغيوم والهطول)

التاريخ : / / ١٤٤٤ هـ

(أ) ما نوع الغيوم في الشكل التالي :-



(ب) نختار الإجابة الصحيحة فيما يلي :-

١- ليس من أشكال الهطول الصلب .

البرد

المطر

٢- حالة الطقس لمنطقة ما في وقت محدد .

خريطة الطقس

المناخ

٣- الغيوم والهطول يتشكلان بفعل وجود .

البرودة

بخار الماء

٤- منطقة التقاء الكتل الهوائية المختلفة .

الجبهات الهوائية

الكتل الهوائية



الوحدة الرابعة (الطقس)
الفصل الثامن (العواصف والمناخ)

الفكرة العامة


(ما علاقة مناخ منطقة ما بنوع العواصف المتشكلة فيها)

تقييم الوحدة

ملاحظة			معايير التقييم
			صحة الإجابات
			جمال الخط
			سرعة الإنجاز

ملاحظات المعلم / ة

.....
.....
.....
.....



الدرس الأول (العواصف)

التاريخ : / / ١٤٤٤ هـ

أ) نحدد نوع العاصفة لكل صورة :-



عاصفة رعدية



عاصفة رملية



اعصار قمعي



عاصفة ثلجية

ب) نصل كل أعصار بعبارته المناسبة :-

عاصفة ذات ضغط منخفض في مركزها

إعصار
حلزوني

دوران سحابة على شكل قمعي يصاحبها رياح شديدة

إعصار دوّار

يبدو على شكل غيوم حلزونية مع تجويف في الوسط

إعصار قمعي



تابع الدرس الأول (العواصف)

التاريخ : / / ١٤٤ هـ

أ) هل العبارات التالية صحيحة أم خاطئة :-

- ١- الأمواج العاتية هي ارتفاع الماء في المحيط . (.....✓.....)
- ٢- تنشأ العاصفة الثلجية عندما تتلاقي كتلتان في الهواء مختلفتان في درجة الحرارة . (.....✓.....)
- ٣- العواصف الرملية تهب على سطح البحر . (.....✗.....)

ب) من خلال الصور التالية نكتب أسم الجهاز المستخدم في تتبع العواصف :-



.....رادار دوبلر.....



.....طائرة.....



.....بالون الطقس.....

ما الذي يسبب ظروف الطقس القاسية ؟ 😊

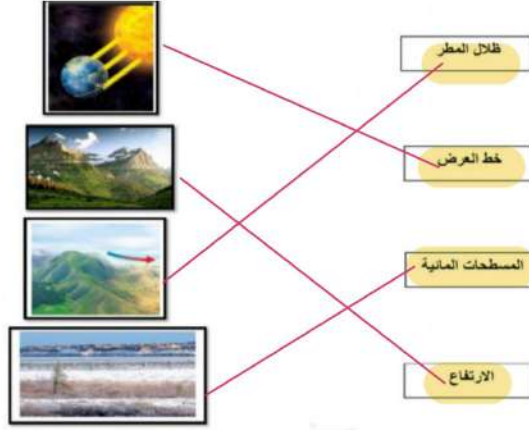
.....درجات الحرارة، والضغط، الجوي والرطوبة.....



الدرس الثاني (المناخ)

التاريخ : / / ١٤٤ هـ

أ) نصل كل صورة بعامل المناخ الذي يؤثر فيها :-



ب) نختار الإجابة الصحيحة فيما يلي :-

١- ماذا تسمى الحركة المستمرة لماء المحيط .

إعصار

تيار مائي

هطول

٢- متوسط الطقس لأي مكان هو .

الارتفاع

التجمد

المناخ

٣- المنطقة من الجبل التي تقع في الجانب غير المواجه للرياح .

ظل المطر

المسطح المائي

الرياح



تابع الدرس الثاني (المناخ)

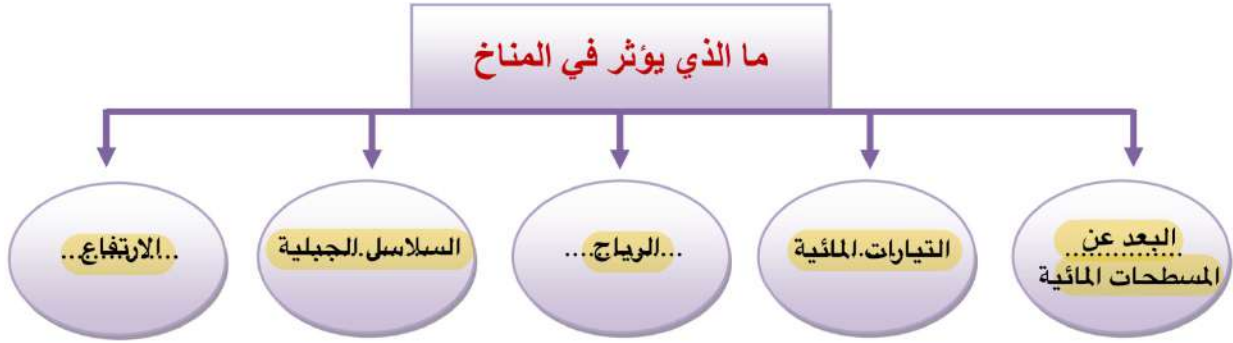
التاريخ : / / ١٤٤٤ هـ

أ) ما العوامل الطبيعية التي تؤدي إلى تغير المناخ ؟



- ١-البراكين.....
- ٢-شدة الإشعاع الشمسية.....
- ٣-سقوط النيازك.....

ب) :-



ج) ما المصطلح العلمي المناسب للعبارة التالية ؟



(.....التغير المناخي.....) أي تغير مؤشر وطول المدى في معدل حالة الطقس يحدث لمنطقة معينة



الوحدة الخامسة (المادة)

الفصل التاسع (المقارنة بين أنواع المادة)

الدروس :-

١- ما وحدة البناء في المادة ؟

٢- ما خصائص الفلزات واللافلزات واشباه الفلزات ؟

* المهارات التي لا بد أن تتقن :-

١- توضيح العلاقة بين المادة والعنصر والذرة .

٢- تسمية أجزاء الذرة .

٣- تصنيف مجموعة من العناصر إلى فلزات واللافلزات واشباه الفلزات .

٤- مقارنة بين الفلزات واللافلزات واشباه الفلزات .

* الفكرة العامة

(كيف أصنف المواد)



الدرس الأول (العناصر)

ملخص الدرس

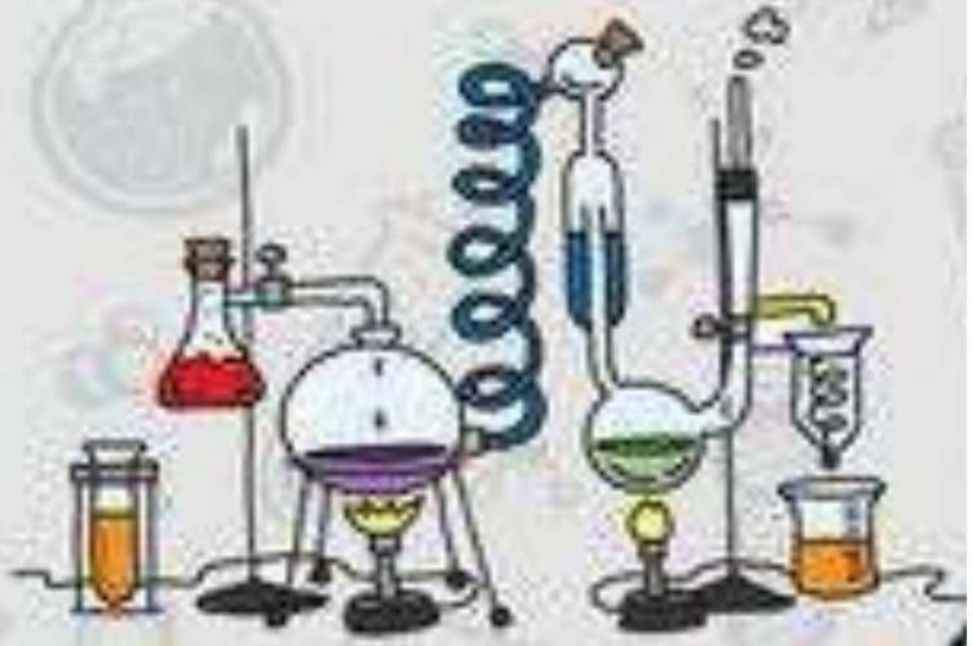
.....	العناصر
.....	الذرات
.....	الجدول الدوري

مطوية ص ١٩

أ - هل تم إنجاز تلخيص الدرس في اليوم المحدد ؟

ب - وضع إشارة عند استحقاق الطالب للعبارة المناسبة في إنجاز مطوية تلخيص الدرس .

مقبول	جيد	جيد جداً	رائع جداً
.....



الدرس الأول (العناصر)

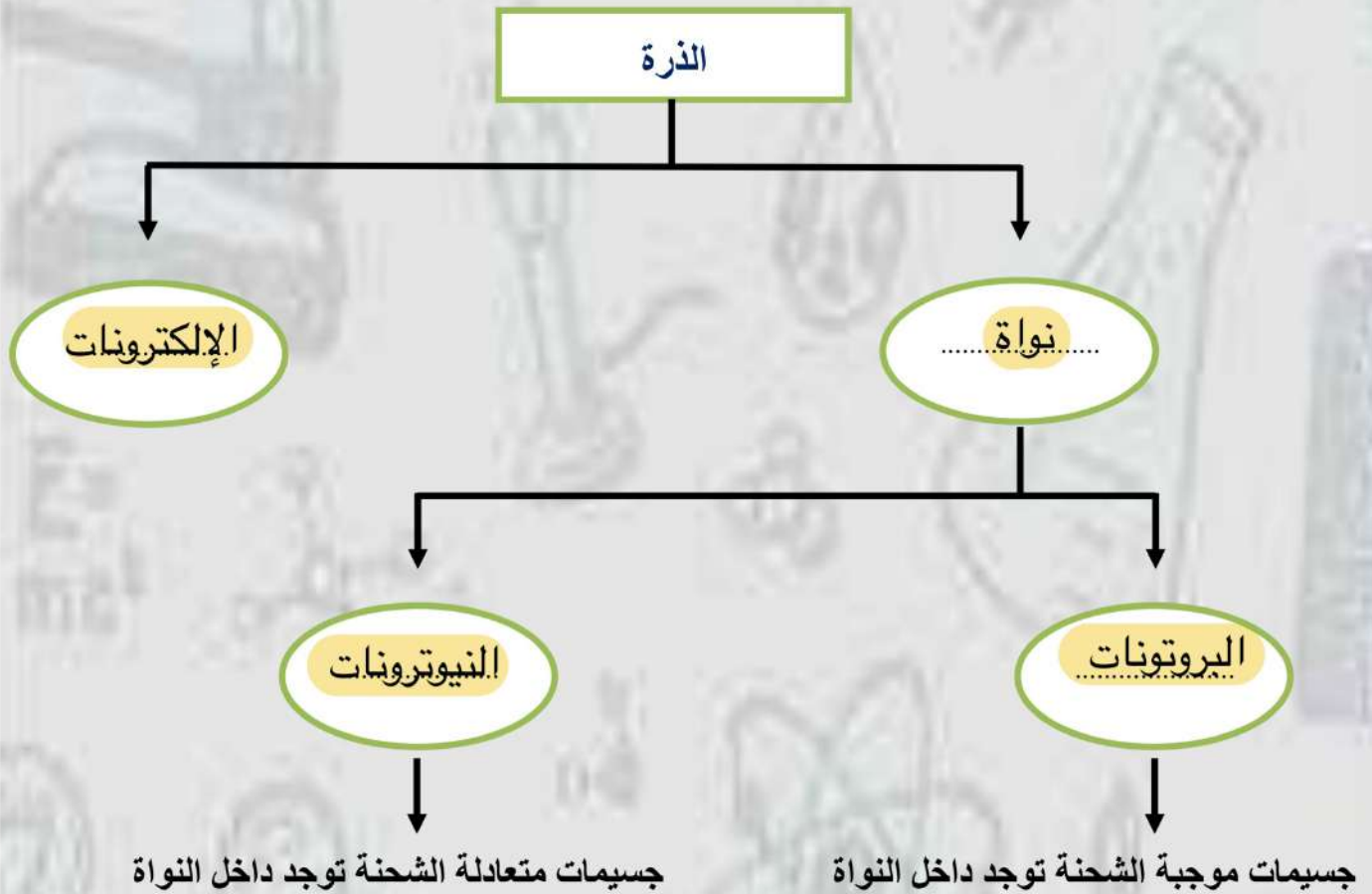
أ - ما المصطلح العلمي المناسب لكل عبارة :-

(.....العنصر.....) مادة نقية لا يمكن تجزئتها إلى مواد أصغر عن طريق التفاعلات الكيميائية .

(.....الذره.....) هي أصغر وحدة في العنصر تحمل صفاته .

(.....الجزيء.....) جسيم يتكون من ارتباط ذرتين أو أكثر معاً .

ب - نكمل الناقص في الخريطة التالية :-



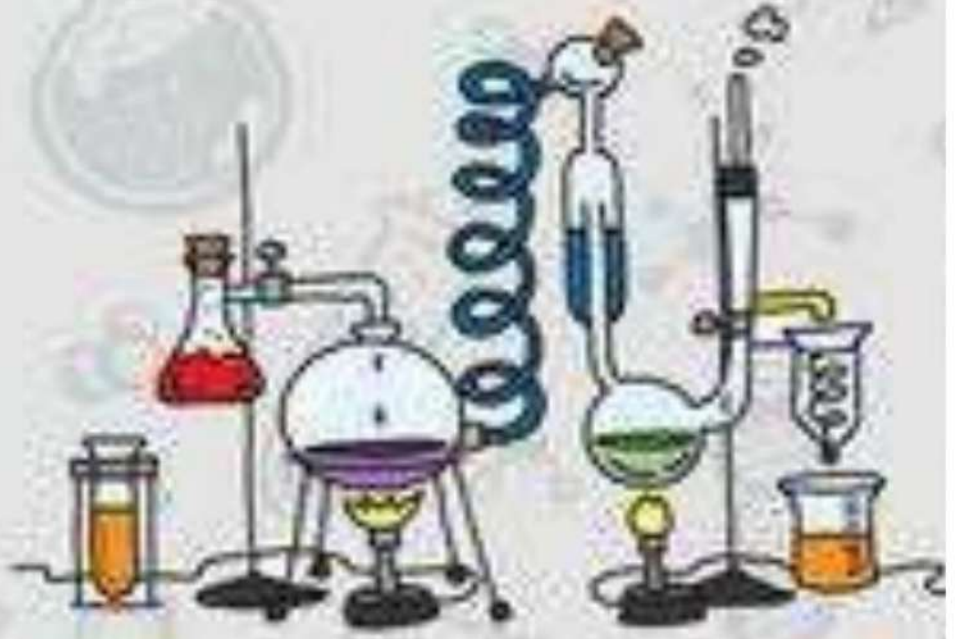
الدرس الأول (العناصر)

أ - نكمل الفراغات التالية :-

- ١- العنصر مادة نقية لا يمكن تجزئتها إلى مواد أصغر .
- ٢- تتكون جميع المواد من وحدات بنائية تسمى العناصر
- ٣- البروتونات هي جسيمات موجبة الشحنة توجد داخل النواة .
- ٤- مندليف قام بكتابة أسماء العناصر ورتبها من الأخف إلى الأثقل .
- ٥- تتكون الذرة من نواة و الالكترونات
- ٦- يسمى عدد البروتونات في نواة الذرة العدد الذري

ب - ما رأيك بصحة العبارات التالية :-

- ١- العدد الذري هو عدد البروتونات في نواة الذرة وهو الذي يحدد نوع العنصر (..... ✓)
- ٢- كل عنصر له أسم ورمز (..... ✓)
- ٣- الذرات متعادلة كهربائياً لأن عدد البروتونات الموجبة يساوي عدد الإلكترونات السالبة (..... ✓)
- ٤- يوجد في الطبيعة حوالي ١٠٠ عنصر فقط (..... ✗)
- ٥- تتكون الصيغة الكيميائية من حروف تدل على نوع العنصر وارقام تدل على عدد الذرات (..... ✓)



الدرس الثاني (الفلزات واللافلزات واشباه الفلزات)

ملخص الدرس

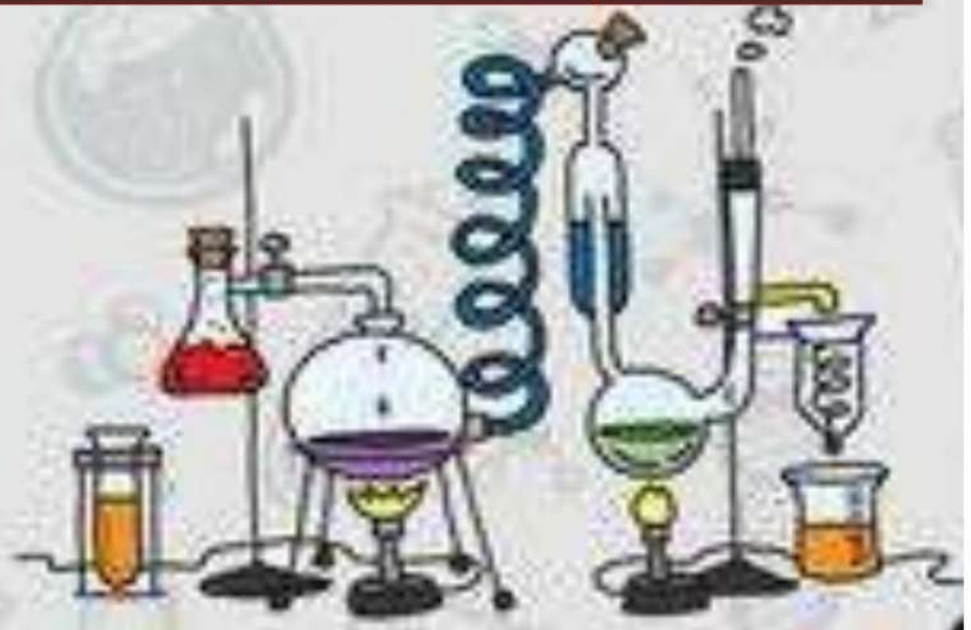
الفلزات	اللافلزات	اشباه الفلزات
.....
.....

ص ٣٠

أ - هل تم إنجاز تلخيص الدرس في اليوم المحدد ؟

ب - وضع إشارة عند استحقاق الطالب للعبارة المناسبة في إنجاز مطوية تلخيص الدرس .

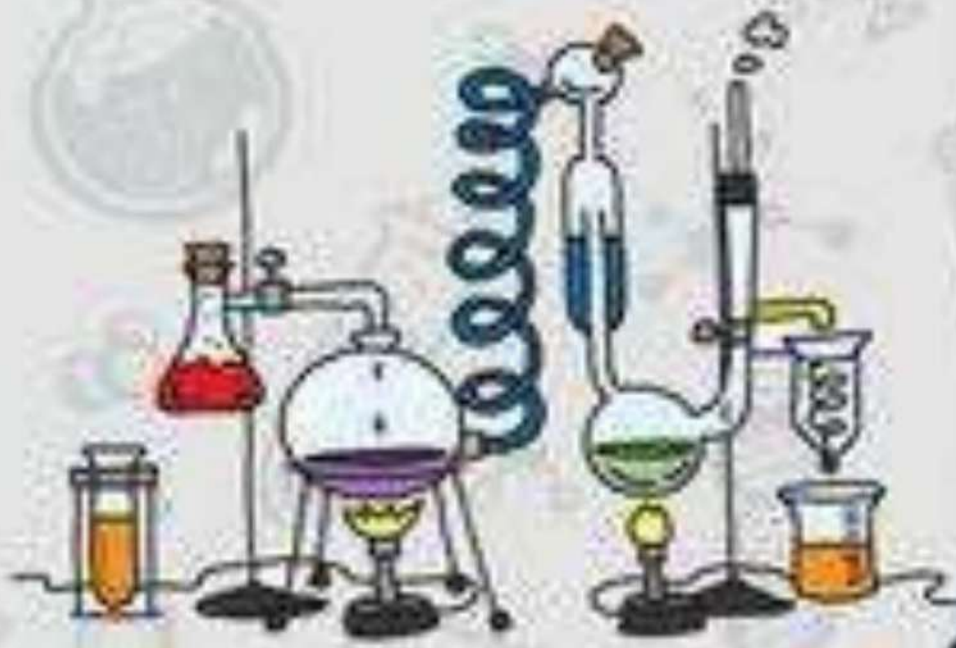
مقبول	جيد	جيد جداً	رائع جداً
.....



الدرس الثاني (الفلزات واللافلزات واشباه الفلزات)

أ - نضع من (أ) ما يناسبه في القائمة (ب)

(ب)		(أ)
الجانب الأيمن من الجدول الدوري٣	١- تقع الفلزات
أشباه الفلزات٤	٢- توجد جميعها في الحالة الصلبة مثل (الحديد ، النحاس)
الجانب الأيسر والأوسط من الجدول الدوري١	٣- تقع لافلزات في
الفلزات٢	٤- هي عناصر لها صفات بين الفلزات واللافلزات
الفلور والكلور واليود٥	٥- أشهر اللافلزات النشطة كيميائيا



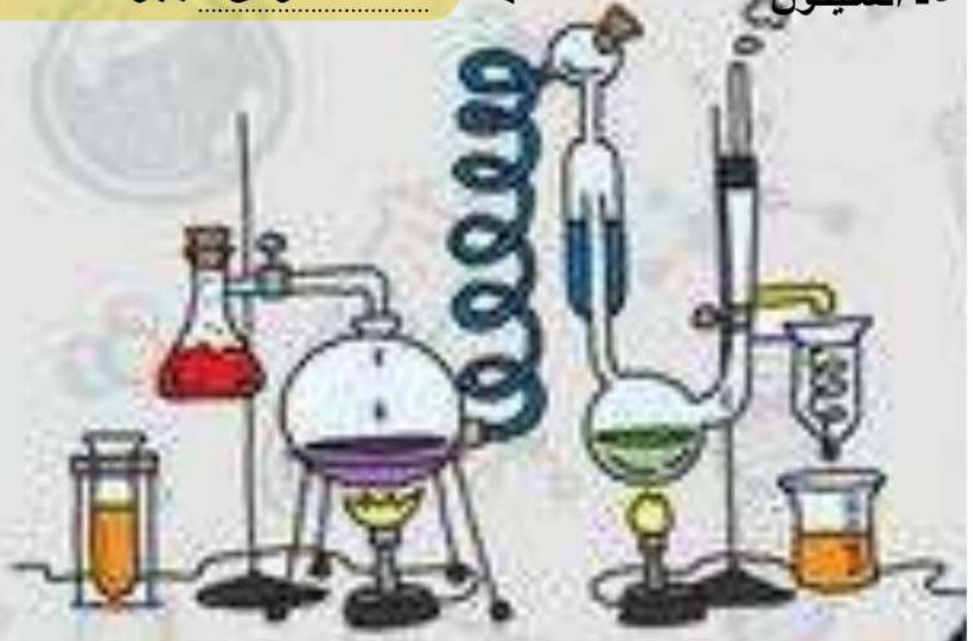
الدرس الثاني (الفلزات واللافلزات واشباه الفلزات)

أ - نكمل الفراغات التالية :-

- ١- الفلزات توجد في الحالة الصلبة مثل **الألمنيوم**
- ٢- الغازات النبيلة غير نشطة كيميائياً مثل **الهيليوم**
- ٣- يستخدم **الحديد** في صناعة هياكل السيارات
- ٤- يستعمل **النحاس** في صناعة أسلاك الكهرباء
- ٥- **الذهب** و **الفضة** يصنع منهما حلي النساء
- ٦- **اشباه الفلزات** أقل كفاءة في نقل التيار الكهربائي من الفلزات

ب - نحدد استعمالات العناصر فيما يلي :-

- ١- **الألمنيوم** ← **اواني الطبخ**
- ٢- **النحاس** ← **اسلاك الكهرباء**
- ٣- **الكلور** ← **تعقيم مياه الشرب**
- ٤- **الأرجون** ← **المصابيح الكهربائية**
- ٥- **السليكون** ← **صناعة شرائح اجهزه الحاسوب**



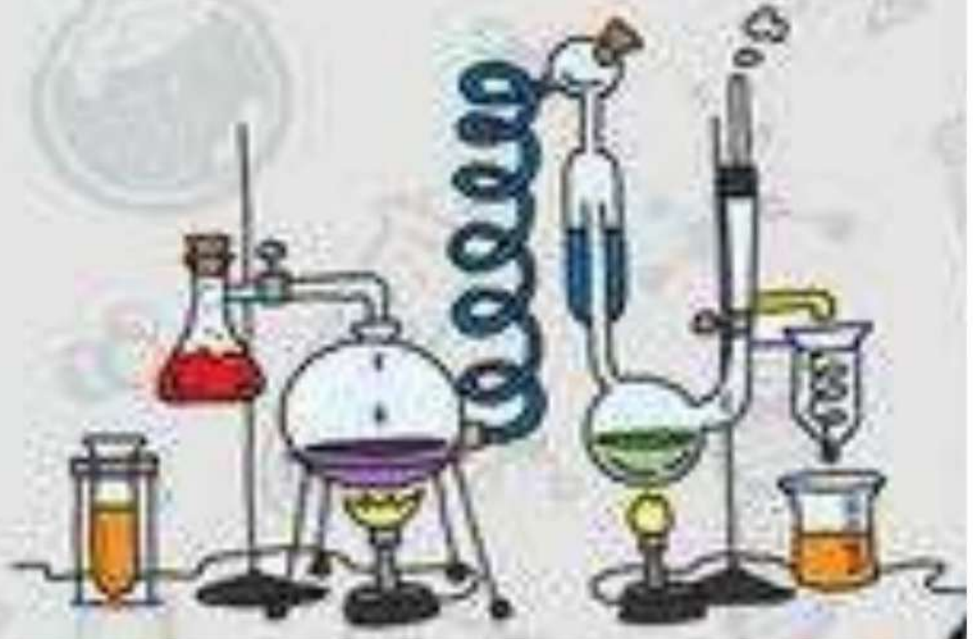
الدرس الثاني (الفلزات واللافلزات واشباه الفلزات)

أ - ما رأيك بصحة العبارات التالية :-

- ١- يتكون الهواء في معظمه من لافلزات مثل النيتروجين والأكسجين (..... ✓)
- ٢- الفلزات الأكثر نشاطاً هي أسرع تأكلاً (..... ✓)
- ٣- أشباه الفلزات موصلة جيدة للحرارة والكهرباء (..... ✗)
- ٤- الصوديوم يحفظ تحت الكيروسين لمنع من التفاعل مع الأكسجين (..... ✓)
- ٥- الكروم أكثر الفلزات قساوة (..... ✓)
- ٦- تشكل الفلزات نحو ١٠٠% من العناصر (..... ✗)

ب - أي العبارات التالية تصف الفلزات :-

- ١- لا توصل الحرارة والكهرباء
- ٢- قابلة للطرق والسحب وتوصل الحرارة
- ٣- رديئة في التوصيل للحرارة



الوحدة الخامسة (المادة)

الفصل العاشر (التغيرات الفيزيائية والكيميائية للمادة)

الدروس :-

- ١- كيف تتغير حالة المادة عند اكتسابها او فقدانها للطاقة ؟
- ٢- كيف ترتبط الذرات لتكون الجزيئات والمركبات ؟

* المهارات التي لا بد أن تتقن :-

- ١- تسمية التغير الذي يحدث (للماء – الجليد) عند تغير درجة الحرارة .
- ٢- التمييز بين التمدد الحراري والانكماش الحراري مع ذكر مثال .
- ٣- التمييز بين خصائص مركب ما وخصائص العناصر المكونة له .
- ٤- معرفة المؤشرات العامة على حدوث تغير كيميائي .
- ٥- كتابة معادلة كيميائية توضح تكون الماء

* الفكرة العامة

(ما الذي يسبب تغير المادة)

موقع
مادنتير



الدرس الاول (تغير حالة المادة)

ملخص الدرس

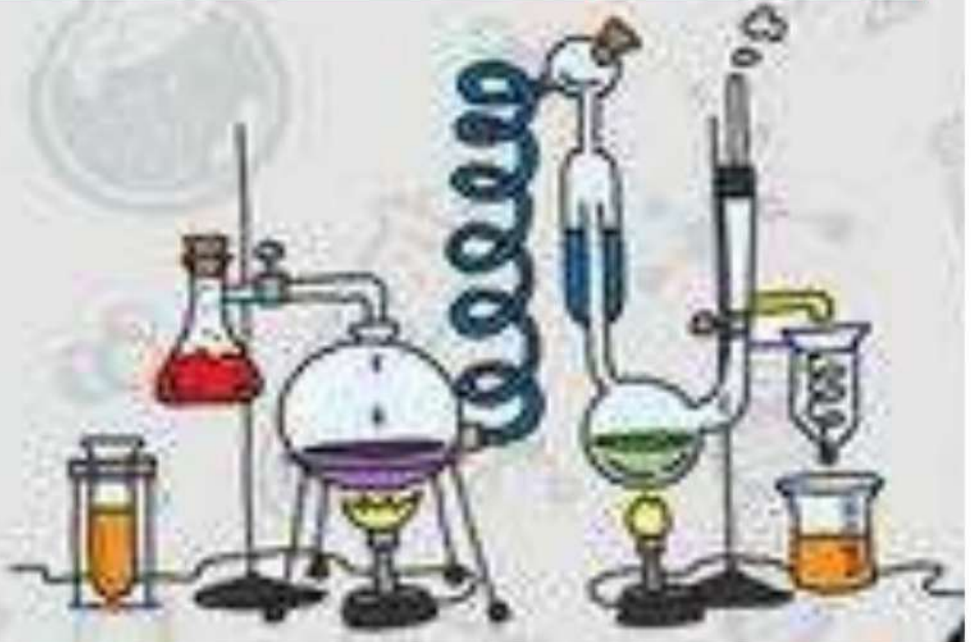
التغيرات في حالة المادة	
.....	زيادة الحرارة وخفضها
.....	درجة الانصهار او الغليان
.....	التمدد والانكماش

مطوية ص ٤٥

أ - هل تم إنجاز تلخيص الدرس في اليوم المحدد ؟

ب - وضع إشارة عند استحقاق الطالب للعبارة المناسبة في إنجاز مطوية تلخيص الدرس .

مقبول	جيد	جيد جداً	رائع جداً
.....



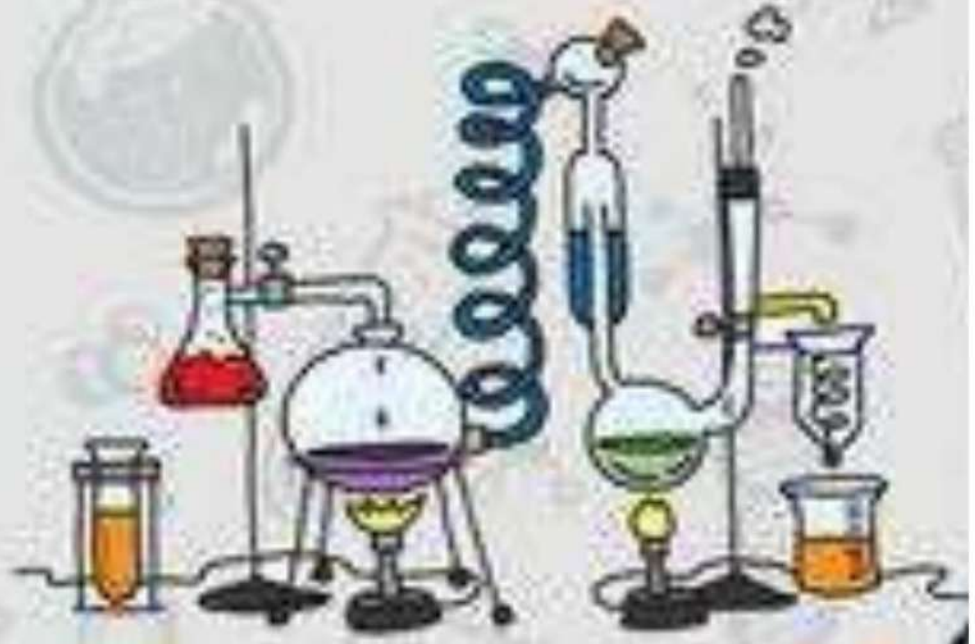
الدرس الأول (تغير حالة المادة)

أ - ما المصطلح العلمي المناسب لكل عبارة :-

- ١- (تغير فيزيائي) هو التغير الذي ينتج عنه تغير شكل الجسم دون تغير نوع المادة .
- ٢- (التسامي) تحول المادة الصلبة مباشرة إلى غازية دون المرور بحالة سائلة .
- ٣- (درجة الغليان) الدرجة التي تبدأ عندها المادة بالغليان .

ب - نكمل الناقص في الخريطة التالية :-

حالات المادة		
الغازية	السائلة	الصلبة
حركة الجزيئات أسرع من الحالة الصلبة والسائلة	تهتز دقائق المادة أسرع من الحالة الصلبة	تتحرك جزيئات المادة حركة اهتزازية في مكانها



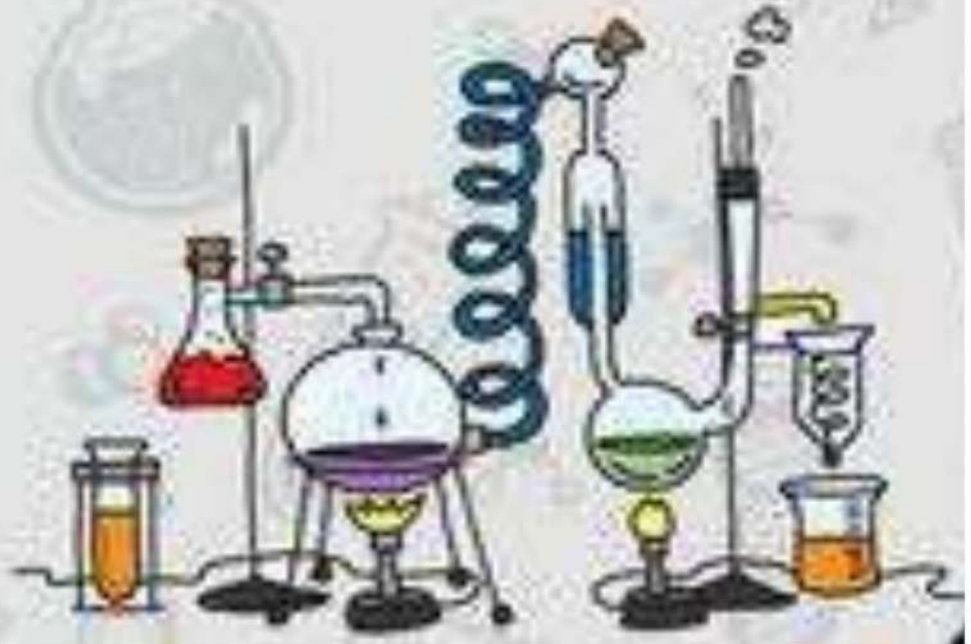
الدرس الاول (تغير حالة المادة)

أ - نصل (أ) ما يناسبه في القائمة (ب)

(أ)		(ب)
١- درجة الحرارة التي تبدأ عندها المادة بالغيان	٣.....	التجمد
٢- درجة الحرارة التي تبدأ عندها المادة بالانصهار	١.....	الغيان
٣- درجة الحرارة التي تبدأ عندها المادة بالتجمد	٤.....	التسامي
٤- ذوبان الثلج عند درجة حرارة الغرفة	٢.....	الانصهار

ب - نكمل الفراغات التالية :-

- ١- المادة في الحالة الغازية تبدأ في التكثف والتحول إلى الحالة **السائلة**.....
- ٢- المادة في الحالة السائلة تبدأ في التجمد والتحول إلى حالة **الصلبة**.....
- ٣- تزداد **كثافته**..... المواد عند تحولها من حالة سائلة إلى صلبة



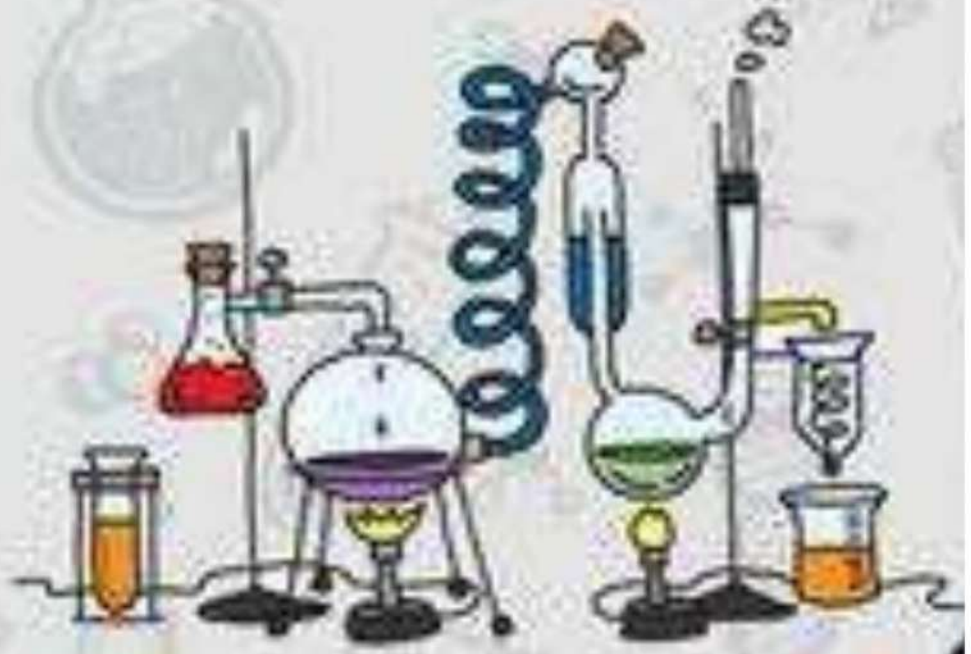
الدرس الاول (تغير حالة المادة)

أ- ما رأيك بصحة العبارات التالية

- ١- تتغير حالة المادة عندما تكتسب الحرارة أو تفقدها . (.....)
- ٢- تقاس درجة الحرارة بمقياس الحرارة . (.....)
- ٣- تتمدد الغازات وتنكمش أكثر من السوائل . (.....)
- ٤- كل مادة نقية لها درجة حرارة انصهار خاصة بها . (.....)
- ٥- الانكماش الحراري هو زيادة حجم المادة نتيجة التغير في درجة حرارتها . (..~~X~~..)
- ٦- الحرارة لا تعد شكل من أشكال الطاقة . (..~~X~~..)

ب - نقارن بين التمدد الحراري والانكماش الحراري مع ذكر مثال :-

الانكماش الحراري	التمدد الحراري
نقصان حجم المادة نتيجة تغير درجه حرارتها	زياده حجم المادة نتيجة تغير درجه حرارتها



الدرس الثاني (المركبات والتغيرات الكيميائية)

ملخص الدرس

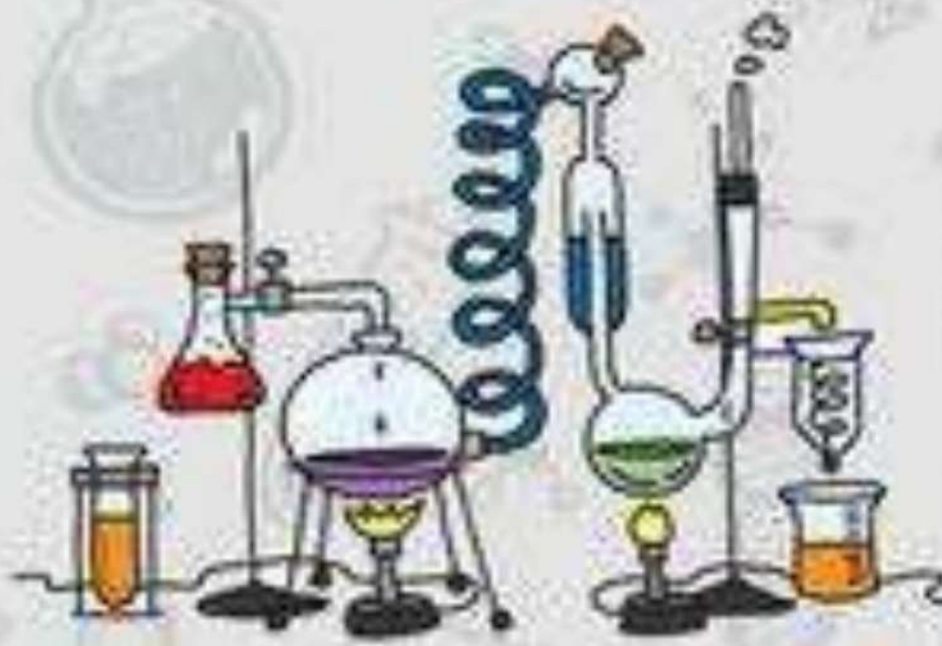
.....	المركبات
.....	التغيرات الكيميائية
.....	الأدلة على حدوث تغيرات كيميائية

مطوية ص ٥٧

أ - هل تم إنجاز تلخيص الدرس في اليوم المحدد ؟

ب - وضع إشارة عند استحقاق الطالب للعبارة المناسبة في إنجاز مطوية تلخيص الدرس .

مقبول	جيد	جيد جداً	رائع جداً
.....



الدرس الثاني (المركبات والتغيرات الكيميائية)

أ - المصطلح المناسب للعبارات التالية :-

- ١- (..... المركب) مادة نقية تتألف من اتحاد عنصرين أو أكثر .
- ٢- (..... الصدأ) مركب يتكون نتيجة اتحاد الحديد مع الأكسجين الموجود بالهواء .
- ٣- (..... تغير كيميائي) تغير يحدث في تركيب المادة عندما ترتبط الذرات بعضها مع بعض مكونة مادة جديدة .

ب - نكمل الناقص في الخريطة التالية :-



* نجب حسب ما هو مطلوب :-

- | | | | | |
|-----------------|---|-------------------|---|---------------------------|
| كلوريد الصوديوم | ← | الصوديوم + الكلور | — | معادلة ملح الطعام |
| ماء | ← | هيدروجين + اكسجين | — | معادلة الماء |
| | | صودا الخبز | — | مثال على التغير الكيميائي |
| | | اكسيد الحديد | — | الاسم الكيميائي للصدأ |

الدرس الثاني (المركبات والتغيرات الكيميائية)

أ - نكمل الفراغات التالية :-

- ١- تستعمل النباتات تفاعل كيميائي مهم لانتاج الطاقة هو عملية البناء الضوئي
- ٢- ملح الطعام وصدأ الحديد مثال على التغير كيميائي .
- ٣- مجموع كتل المواد المتفاعلة يساوي دائماً مجموع كتل المواد الناتجة . ويسمى هذا قانون حفظ الكتل

ب - نعدد المؤشرات العامة لحدوث التفاعل الكيميائي :-

١- تغير اللون

٢- التشويه

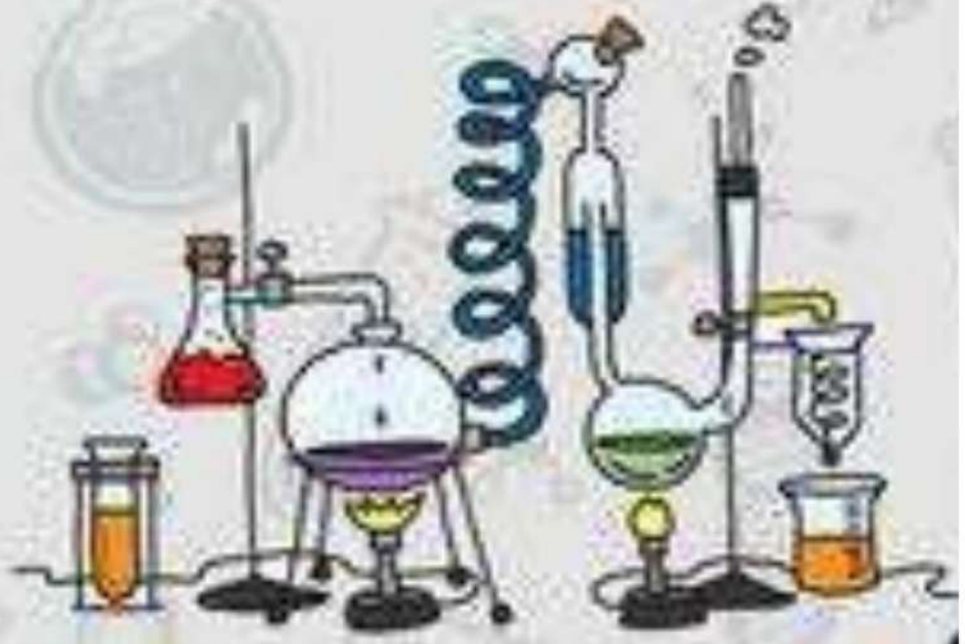
٣- تصاعد الغازات

٤- تكوين الرواسب

٥- تحرير الطاقة

* ما رأيك بصحة العبارات التالية :-

- ١- المركبات الفضائية تستعمل الطاقة الناتجة من تفاعل الأكسجين والهيدروجين ()
- ٢- تستعمل النباتات والحيوانات تفاعلين كيميائيين هما البناء الضوئي وعلمية التنفس ()
- ٣- بعض التغيرات الفيزيائية تنتج الضوء والحرارة مثل احتراق الشمعة ()
- ٤- صدأ الحديد محمر اللون بينما الحديد لامع ()



الوحدة السادسة (القوى والطاقة)

الفصل الحادي عشر (الطاقة والآلات البسيطة)

الدروس :-

١- ما العلاقة بين الشغل والطاقة ؟

٢- كيف تجعل الآت حياتنا أسهل ؟

* المهارات التي لا بد أن تتقن :-

١- معرفة مفهوم الشغل والطاقة مع توضيح العلاقة بينهم .

٢- الإشارة إلى بعض مكونات الآلة البسيطة من خلال الصور .

* الفكرة العامة

(كيف تستعمل الطاقة لإنجاز الشغل)



الدرس الاول (الشغل والطاقة)

ملخص الدرس

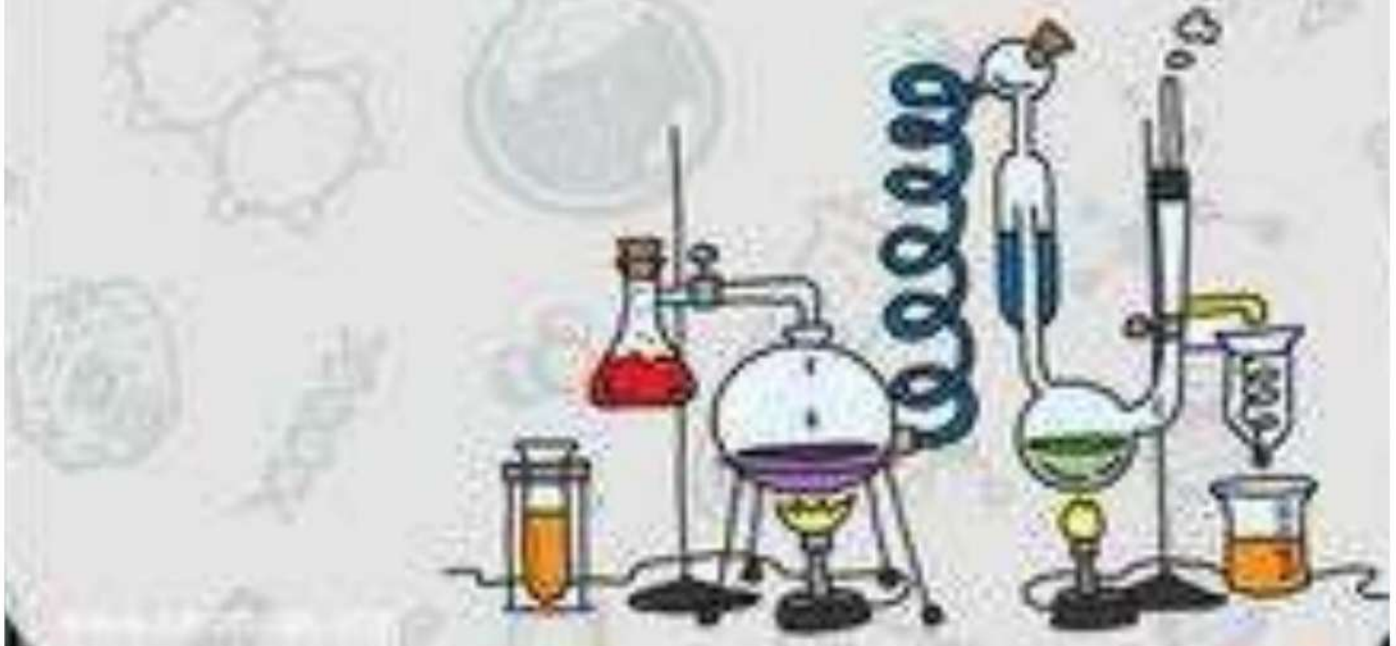
.....	ينتج شغل عندما
.....	الطاقة ضرورية
.....	من أشكال تحولات الطاقة

مطوية ص ٧٣

أ - هل تم إنجاز تلخيص الدرس في اليوم المحدد ؟

ب - وضع إشارة عند استحقاق الطالب للعبارة المناسبة في إنجاز مطوية تلخيص الدرس .

مقبول	جيد	جيد جداً	رائع جداً
.....



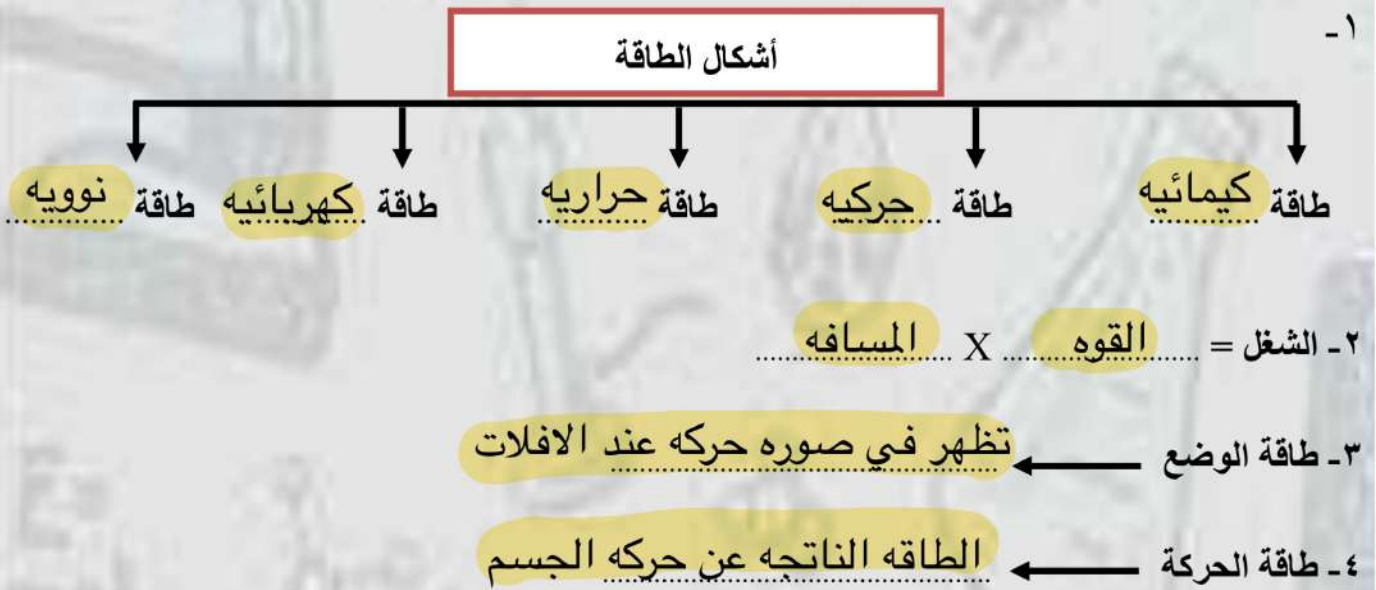
الدرس الأول (الشغل والطاقة)

أ - ما المصطلح العلمي المناسب للعبارات التالية :-

١- (..... الشغل) هو القوة المبذولة لتحريك لجسم ما مسافة معينة .

٢- (..... الطاقة) القدرة على إنجاز شغل ما .

ب - نكمل الناقص في الخريطة التالية :-



ج - ما الوحدة المستخدمة لقياس كلاً من :-

* الشغل (..... الجول)

* القوة (..... نيوتن)

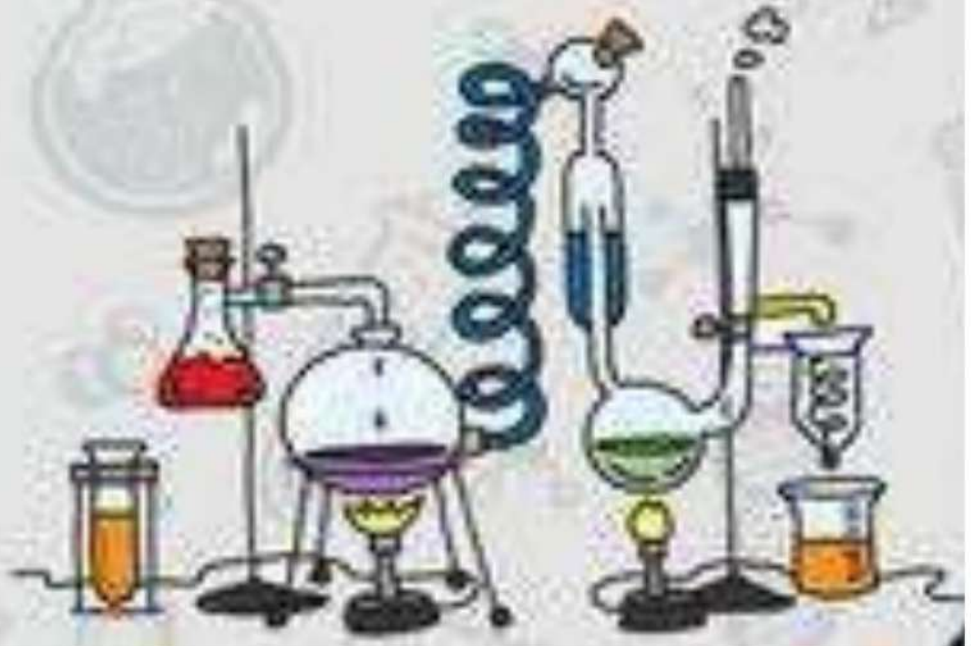
الدرس الأول (الشغل والطاقة

أ - ما رأيك بصحة العبارات التالية :-

- ١- تتحول الطاقة من شكل لأخر دون أن يفقد منها شيء أثناء التحول (.....) ✓
- ٢- كل عمل متعب أقوم به يعتبر شغلاً (.....) ✗
- ٣- قوة الاحتكاك مقاومة تؤثر في عكس اتجاه القوة المبذولة (.....) ✓
- ٤- الطاقة لا تفنى ولا تستحدث من العدم ولكن تتحول من شكل لأخر (.....) ✓
- ٥- الحركة على سطح خشن تحتاج إنجاز شغل أكبر من الشغل اللازم للحركة على سطح أملس (.....) ✓

ب - نكمل العبارات الآتية بما يناسب :-

- ١- الطاقة النووية طاقة وضع مخزنة في الروابط بين البروتونات والنيوترونات في الذرة .
- ٢- الجول هي وحدة قياس الشغل .
- ٣- الطاقة ضرورية لإنجاز وإنتاج الشغل .



الدرس الثاني (الآلات البسيطة)

ملخص الدرس

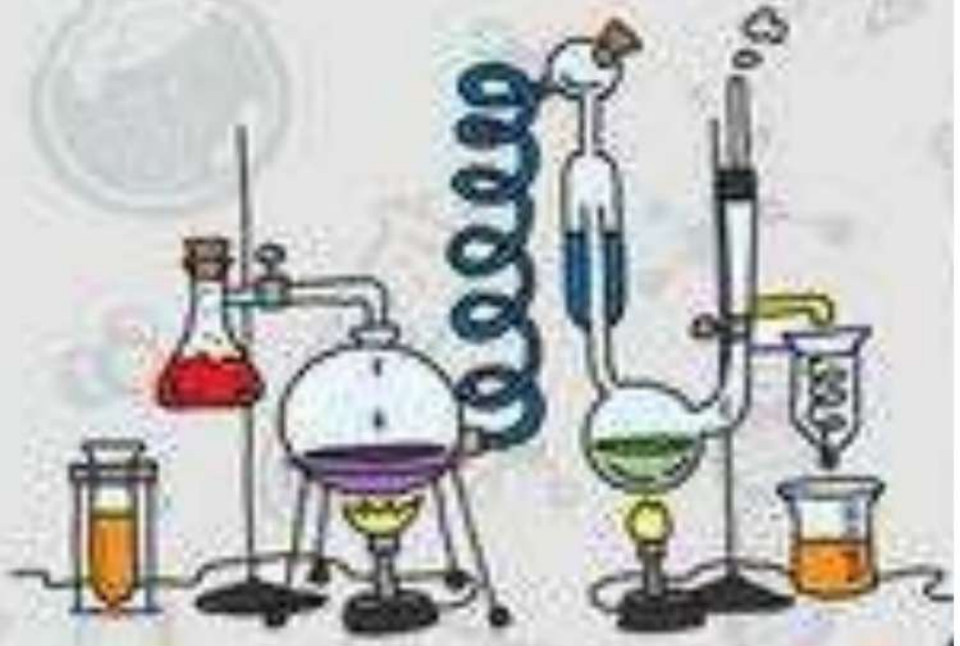
.....	تستطيع الآلة البسيطة أن
.....	من أنواع الآلات البسيطة
.....	الآلة المركبة

مطوية ص ٨٦

أ - هل تم إنجاز تلخيص الدرس في اليوم المحدد ؟

ب - وضع إشارة عند استحقاق الطالب للعبارة المناسبة في إنجاز مطوية تلخيص الدرس .

مقبول	جيد	جيد جداً	رائع جداً
.....



الدرس الثاني (الآلات البسيطة)

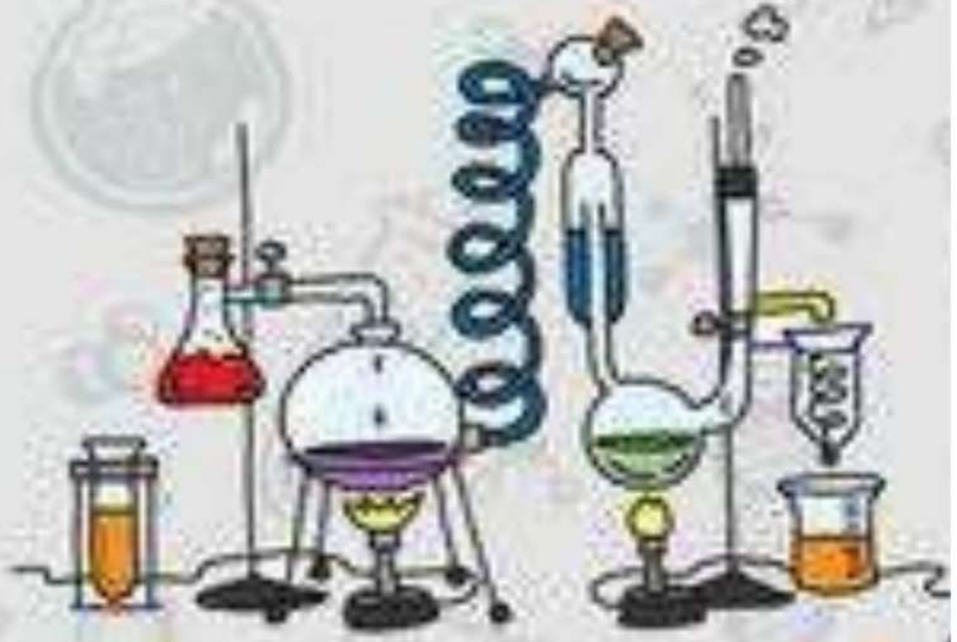
أ - من الكلمات التالية نملاً الجدول بالأسفل :-

(الآلة البسيطة ، ذراع القوة ، ذراع المقاومة ، الفائدة الآلية ، الآلة المركبة ، الرافعة)

المصطلح	العبارات
الاله البسيطة	أداة تستخدم لتغيير مقدار القوة اللازمة لإنجاز شغل
ذراع المقاومة	الجزء الذي يوصل هذا الجهد
ذراع القوه	جزء الآلة البسيطة الذي يقع عليه الجهد
الفائده الاليه	النسبة بين طول ذراع القوة وذراع المقاومة
الرافعه	قضيب يتحرك حول محور
الاله المركبه	عندما نجمع اثنين أو أكثر من الآلات البسيطة معاً

ب - مثال حسب المطلوب

- * آلة مركبة ← المصاعد الكهربائيّة
- * الآلات تشبه الروافع ← الملقط - لعبه ارجوحه الميزن
- * سطح مائل يلتف حول أسطوانة ← البرغي



الوحدة السادسة (القوى والطاقة)

الفصل الثاني عشر (الصوت والضوء)

الدروس :-

١- ما خصائص الصوت ؟

٢- كيف ينتقل الضوء . وكيف يتأثر بالمواد أثناء إنتقاله ؟

* المهارات التي لا بد أن تتقن :-

١- وصف كيف ينشأ الصوت وكيفية انتقاله .

٢- ذكر خصائص الصوت .

٣- ذكر خصائص الضوء .

٤- نوضح انكسار الضوء وانعكاسه .

* الفكرة العامة

(كيف ندرك الصوت والضوء بحواسنا)



الدرس الاول (الصوت)

ملخص الدرس

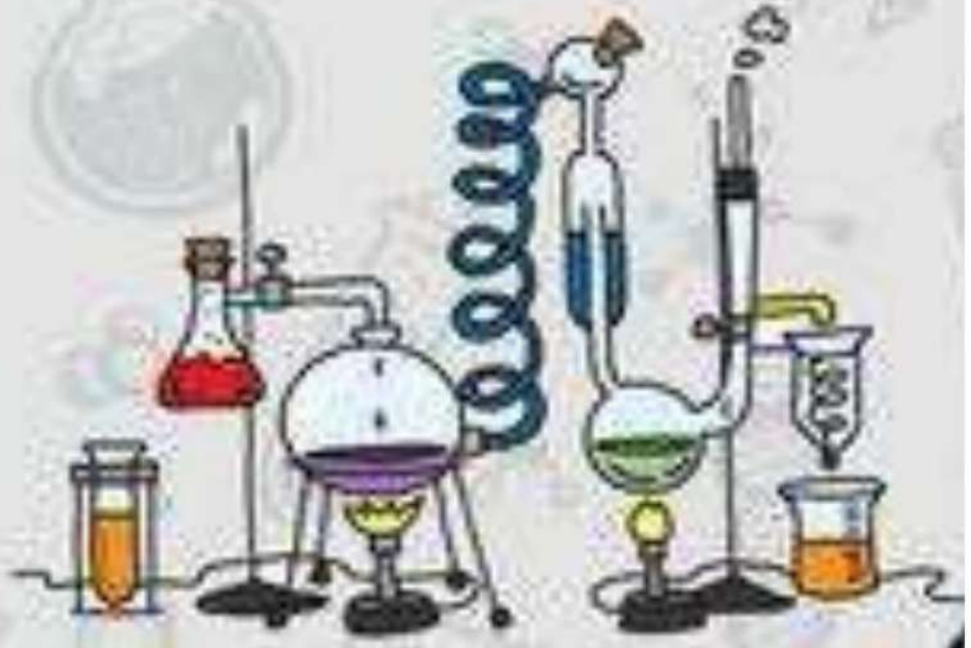
.....	الاجسام المهتزة تنتج
.....	تنتقل الموجات الصوتية خلال
.....	بازدياد تردد الموجات الصوتية

مطوية ص ١٠٣

أ - هل تم إنجاز تلخيص الدرس في اليوم المحدد ؟

ب - وضع إشارة عند استحقاق الطالب للعبارة المناسبة في إنجاز مطوية تلخيص الدرس .

مقبول	جيد	جيد جداً	رائع جداً
.....



الدرس الأول (الصوت)

أ - ما المصطلح العلمي المناسب للعبارات التالية :-

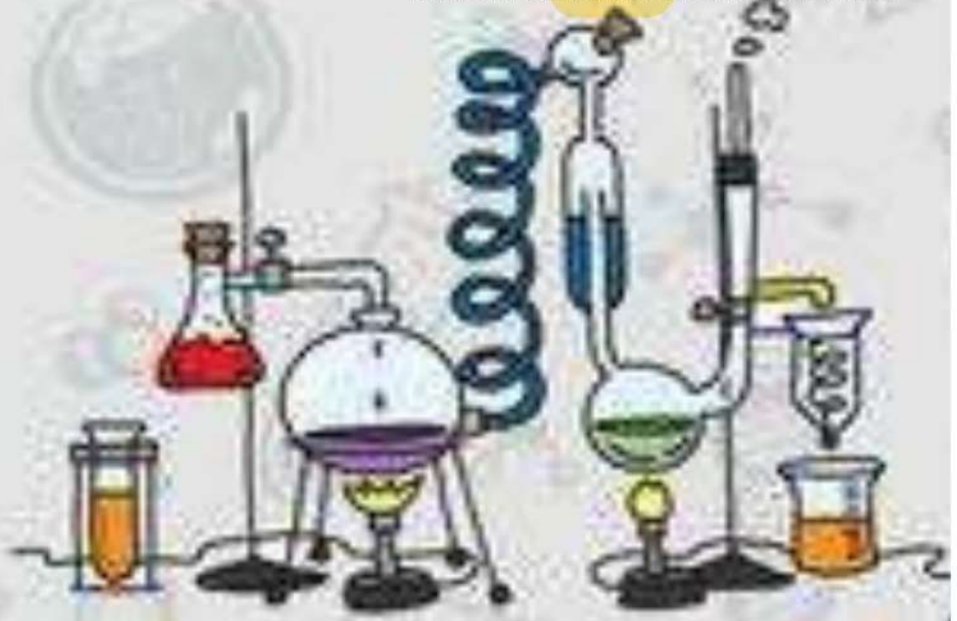
- ١- (**موجه صوتيه**) سلسلة التضامطات والتخلخلات المتنقلة خلال مادة ما .
- ٢- (**التردد**) عدد مرات اهتزاز جسم ما خلال ثانية واحدة.
- ٣- (**الفراغ**) منطقة لا يوجد فيها جزيئات مادة تقريبا .
- ٤- (**الصدأ**) تكرار سماع الصوت بسبب انعكاس الموجات الصوتية.

ب - ما رأيك بصحة العبارات التالية :-

- ١- ينتقل الصوت عبر لمواد الصلبة والسائلة والغازية ()
- ٢- تنتقل الطاقة الصوتية بسبب التصادمات بين جزيئات الوسط ()
- ٣- سرعة الصوت أكبر ما يمكن في المواد الصلبة ()
- ٤- يعد الصدى مثل على أن موجات الصوت تمتص ()
- ٥- تسمى المادة التي ينتقل خلالها الصوت وسطاً ()
- ٦- الصوت الرفيع تردده منخفض ()
- ٧- وحدة قياس التردد هي نيوتن ()

ج - ما التغيرات التي تحدث للصوت عند انتقاله ؟

- ١- **الامتصاص**
- ٢- **الانعكاس**
- ٣- **الصدأ**



الدرس الثاني (الضوء)

ملخص الدرس

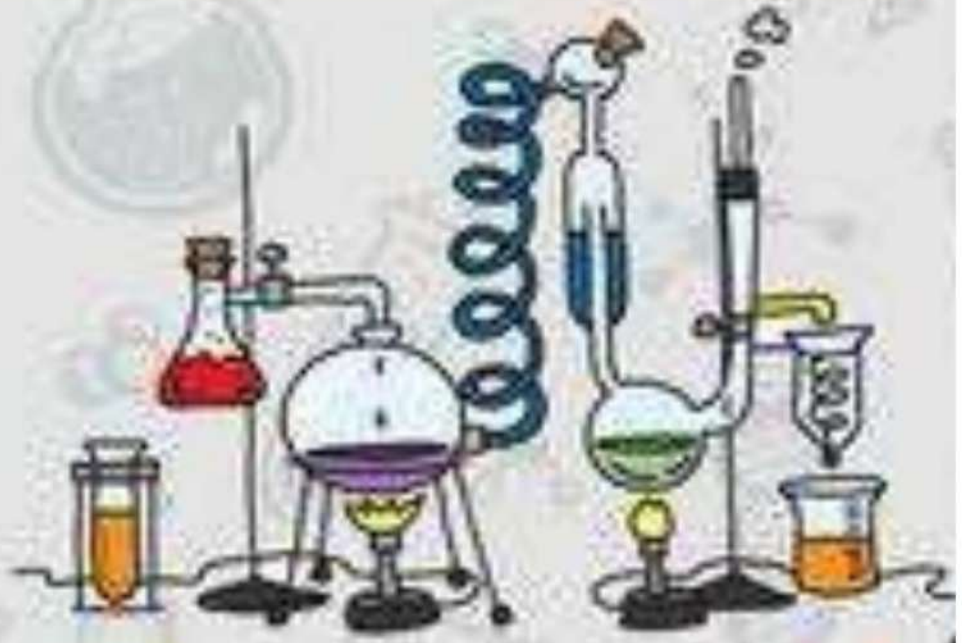
.....	يحدث الانعكاس عند
.....	الانكسار هو
.....	المنشور يحلل الضوء المرئي

مطوية ص ١١٦

أ - هل تم إنجاز تلخيص الدرس في اليوم المحدد ؟

ب - وضع إشارة عند استحقاق الطالب للعبارة المناسبة في إنجاز مطوية تلخيص الدرس .

مقبول	جيد	جيد جداً	رائع جداً
.....



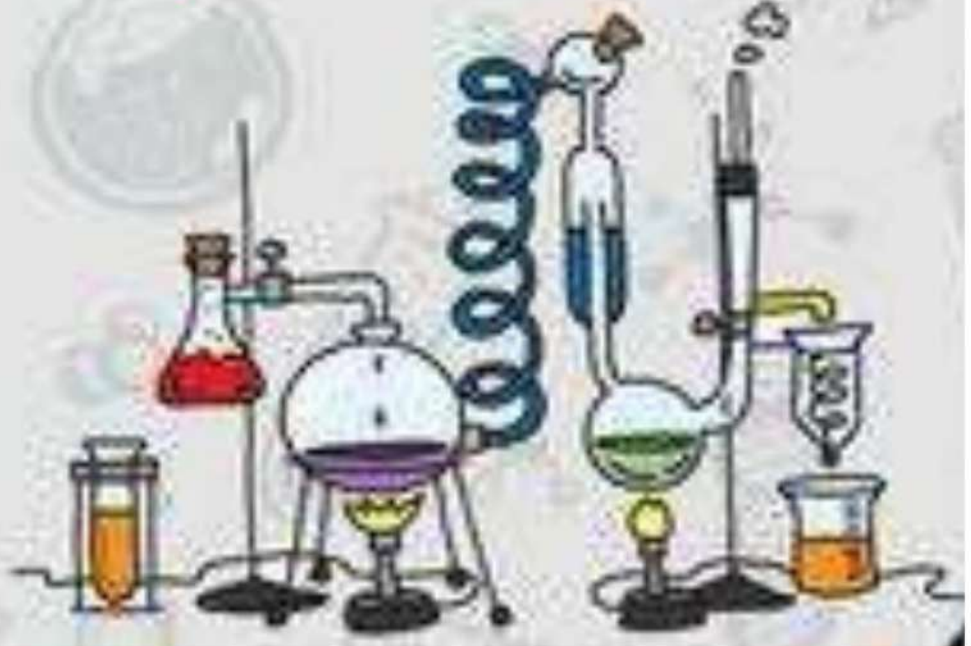
الدرس الثاني (الضوء)

أ - نكمل التالي :-

المسافة بين قمتين متتاليتين للموجة	طول الموجه
أجسام تسمح بنفاذ الضوء من خلالها	جسم شفاف
أصغر جزء من الطاقة الضوئية يوجد بشكل مستقل	الفوتونات

ب - ما رأيك بصحة العبارات التالية :-

- ١- جسيمات الضوء ليس لها كتلة وتسمى فوتونات ()
- ٢- تقل سرعة الضوء في الاوساط المادية مثل الهواء والماء ()
- ٣- موجات الضوء لا تحتاج وسط مادي لتنتشر من خلاله بل تنتشر في الفراغ ()
- ٤- الضوء يسير في خطوط متعرجة ()
- ٥- سطوح السوائل والغازات تعكس الضوء ()
- ٦- اذا مزجت الوان الطيف السبعة ينتج اللون الأبيض ()



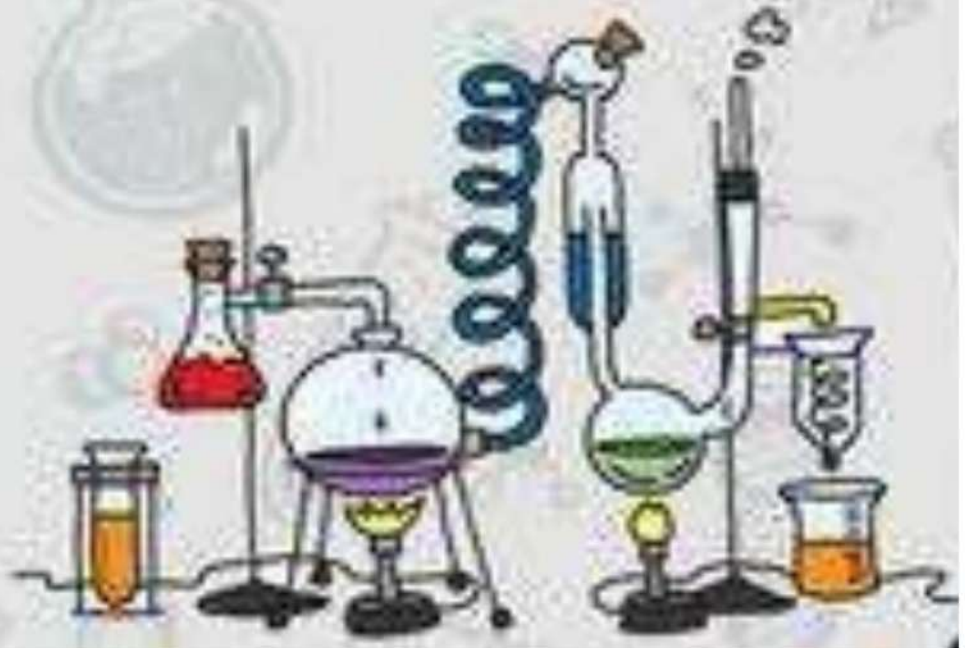
الدرس الثاني (الضوء)

أ - ماذا يحدث للضوء عندما يسقط على أجسام مختلفة ؟



ب - نقارن بين انعكاس الضوء وانكساره والعدسات :-

هو ارتداده عن السطوح	انعكاس الضوء
انحراف الضوء عن مساره	انكسار الضوء
تعمل على تجميع الأشعة الضوئية المنكسرة	عدسه محدبه
تعمل على تفرق الأشعة المنكسرة فتتباعدها بينها	عدسه مقعره





وزارة التعليم
Ministry of Education

أوراق عمل مادة العلوم

الفصل الدراسي الثاني

الصف

الخامس ابتدائي



المعلمة: أمل الزهراني

الاسم:



ارتب طبقات الغلاف الجوي:

- ١-
- ٢-
- ٣-
- ٤-
- ٥-

اضع الكلمات التالية في مكانها المناسب:

(الطقس-الضغط الجوي- الرياح العالمية - الرطوبة)

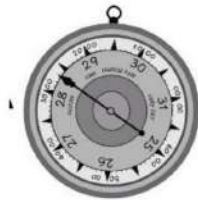
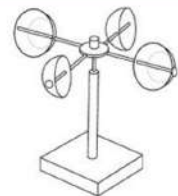
- ١- هي رياح تهب باستمرار لمسافات طويلة في اتجاهات معينة.
- ٢- وصف لحالة الجو في الطبقة السفلية في فترة زمنية قصيرة.
- ٣- القوة الواقعة على مساحة معينة بفعل وزن الهواء .
- ٤- هي كمية بخار الماء في الهواء .



اضع علامة (✓) أو (✗) أمام العبارات التالية:

- (١) تقاس سرعة الرياح بجهاز يسمى الأنيمومتر. ()
- (٢) كلما ارتفعنا عن سطح البحر يزداد الضغط الجوي. ()
- (٣) تسمى الطاقة الشمسية التي تصل إلى كوكب ما بالإشعاع الشمسي ()
- (٤) طبقة التروبوسفير يحدث فيها تغيرات الطقس وتسمى طبقة الطقس ()

اسمي كل جهاز و ابين فيما يستخدم:

.....
يستخدم لـ..........
يستخدم لـ..........
يستخدم لـ..........
يستخدم لـ.....

أعل مدينة الرياض أعلى حرارة من مدينة موسكو؟

الاسم:



اختار الإجابة الصحيحة:

أي المتغيرات التالية يقسها علماء الأرصاد لتوقع حالة الطقس؟

عدد السكان	البارومتر	ضغط الهواء
أي مما يلي ليس شكلاً من أشكال الهطول الصلب؟		
البرد	الثلج	المطر
غيوم سميكة تتشكل على ارتفاعات متوسطة:		
الركامية	الطبقيّة	الريشية
تتكون غالباً على أعلى ارتفاع وتتشكل من بلورات متجمدة:		
الغيوم الركامية	الغيوم الطبقيّة	الغيوم الريشية
منطقة التقاء الكتل الهوائية المختلفة تسمى:		
الجبهة الهوائية	خريطة الطقس	الغيوم الركامية

اسمي أنواع الغيوم التالية:



استنتج نوع الهطول في كل مما يلي :

(١) درجة حرارة الهواء أكبر من درجة تجمد الماء . [.....]

(٢) درجة حرارة الهواء أقل من درجة تجمد الماء . [.....]

ما أنواع الهطول:



تسمى الصورة بالأعلى بـ.....

الاسم:



اضع الكلمات التالية في مكانها المناسب:

(العاصفة الرعدية - الرعد - الإعصار الدوار - الإعصار القمعي - العاصفة الرملية)

١- صوت التمدد الفجائي العنيف الذي يحدث للهواء .

٢- عاصفة ممطرة فيها برق ورعد.

٣- هو دوران سحابة على شكل قمعي يصاحبه رياح شديدة .

٤- تسمى أي عاصفة ذات ضغط منخفض في مركزها وتسبب نمطاً دورانياً.

٥- تحدث في المناطق الجافة عندما تهب الرياح فوق المناطق التي لا يغطيها غطاء نباتي وتحمل معها الغبار والرمال.



ما نوع العاصفة التي تظهر في الشكل:



من الأدوات التي يستخدمها خبراء الأرصاد لتتبع العواصف

.....

.....

.....



ما هي الأمواج العاتية:

منطقة واسعة من الهواء البارد

ارتفاع الماء في المحيط



الاسم:



اضع الكلمات التالية في مكانها المناسب:

(المناخ . التيار المائي . ظل المطر . التغير المناخي)

- (١) تسمى المنطقة من الجبل التي تقع في الجانب غير المواجه للرياح
- (٢) هو متوسط الحالة الجوية في مكان ما خلال فترة زمنية محددة .
- (٣) يُعرف بأنه حركة مياه المحيط المستمرة .
- (٤) التغير المؤثر والطويل المدى في معدل حالة الطقس لمنطقة ما هو




ما الذي يؤثر في المناخ؟



- ١
- ٢
- ٣
- ٤
- ٥

الاسم:

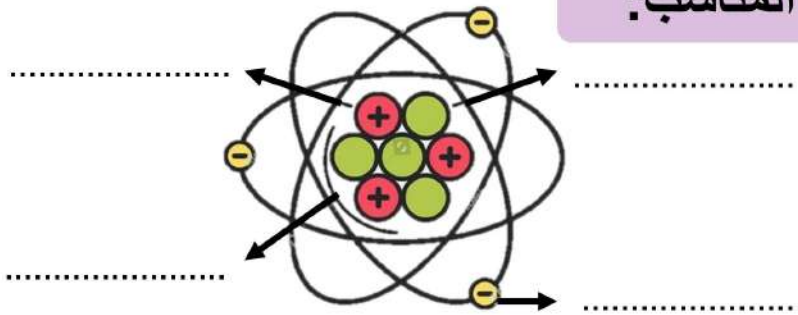


اكمل الفراغات التالية بما يناسبها:

(الذرة - العنصر - الفلزات - اللافلزات)

- ١- مادة نقية لا يمكن تجزئتها الى مواد اصغر.
- ٢- توصل الحرارة والكهرباء وقابلة للتشكل.
- ٣- رديئة التوصيل للحرارة والكهرباء وهشة.
- ٤- اصغر وحدة في العنصر تحمل صفاته.



اضع الكلمات التالية في مكانها المناسب:



النواة
الكترن
بروتون
نيوترون



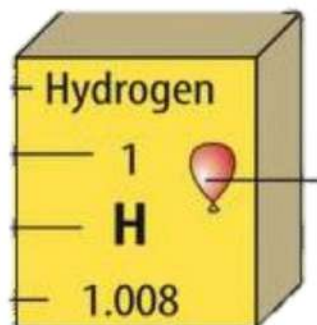
اختر الإجابة الصحيحة:



عندما ترتبط الذرات معاً تشكل ما يسمى ب.....

المركبات	الجزئيات	الذرات
العالم الذي رتب عناصر الجدول الدوري من الاخف الى الاثقل هو:		
مندليف	روبرت هوك	مندل
اكثر العناصر في الجدول الدوري هي:		
اشباه الفلزات	اللافلزات	الفلزات

اكمل بيانات عنصر الهيدروجين:



- حالة المادة للعنصر
- رمز العنصر
- العدد الذري للعنصر

الاسم:

صنف العلماء عناصر الجدول الدوري الى



اختر الإجابة الصحيحة:

تقع في الجانب الايسر والاوسط من الجدول الدوري:

الفلزات	الالفلزات	اشباه الفلزات
يستعمل الألومنيوم في صناعة أواني الطبخ لأنه.....		
عازل للجرارة	موصل للحرارة	هش
يستعمل النحاس في صناعة الاسلاك الكهربائية لأنه.....		
غير قابل للسحب والتشكيل	يسهل سحبه وتشكيله	غير موصل للحرارة والكهرباء
تصنع مقابض أدوات الطبخ من الخشب او البلاستيك لأنها.....		
لا فلزات غير موصلة للحرارة	فلزات موصلة للحرارة	اشباه فلزات
يستعمل الكلور لتعقيم مياه الشرب وبرك السباحة لأنه.....		
غاز خامل	غاز نشط كيميائياً	ليس له تأثير



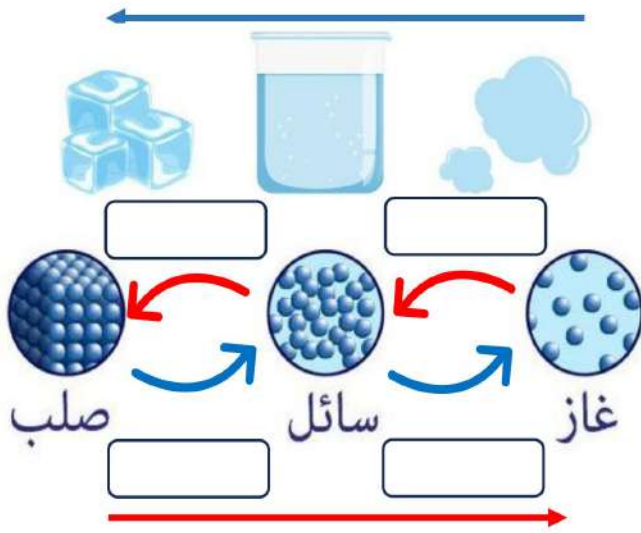
اكمل المنظم التخطيطي التالي :

الفلزات	الالفلزات	اشباه الفلزات	
			خصائصها
			موقعها في الجدول الدوري
			أمثلة عليها

الاسم:

اِضع الكلمات التالية في مكانها المناسب:

تبريد



تبخّر

تكثف

انصهار

تجمّد

تسخين



اختر الإجابة الصحيحة:

التغير الذي ينتج عن تغير شكل الجسم دون تغير نوع المادة المكونة له هو

التغير المناخي

التغير الفيزيائي

التغير الكيميائي

في الحالة تتحرك جزيئات المادة حركة اهتزازية في مكانها.

الصلبة

السائلة

الغازية

تحول المادة من الحالة الصلبة الى الحالة الغازية مباشرة دون ان تمر بالحالة السائلة يسمى

التجمّد

التسامي

التكثف

الدرجة التي تبدأ عندها المادة في الغليان:

درجة الغليان

درجة التجمّد

درجة الانصهار

يسمى زيادة حجم المادة نتيجة التغير في درجة حرارتها ب.....

التبخر

التمدد الحراري

الانكماش الحراري

درجة حرارة غليان الماء :

١٠٠ سن

١٠ سن

٠ سن

يسمى نقصان حجم المادة نتيجة التغير في درجة حرارتها ب.....

التجمّد

التمدد الحراري

الانكماش الحراري

الاسم:



اختار الإجابة الصحيحة:

مادة نقية تتألف من اتحاد عنصرين او اكثر.		
العنصر	المركب	الذرة
مركب يتكون نتيجة اتحاد الحديد مع الاكسجين.		
الماء	الاكسجين	صدأ الحديد
تغير ينتج عنه مواد جديدة تختلف صفاتها عن مكوناتها:		
التغير المناخي	التغير الفيزيائي	التغير الكيميائي
المواد الأصلية التي توجد قبل بدء التفاعل الكيميائي :		
المواد الناتجة	المواد المتفاعلة	المواد المترسبة
مواد صلبة تتكون نتيجة التفاعل الكيميائي بين مكونات محلولين مختلفين:		
غاز الكلور	الصدأ	الرواسب
المواد الناتجة في التفاعل المجاور:		
هيدروجين + اكسجين	الماء	الهيدروجين
$\text{Na} + \text{Cl} \longrightarrow \text{Na Cl}$		
المواد المتفاعلة في التفاعل المجاور: كلوريد الصوديوم		
كلوريد الصوديوم	كلور + صوديوم	الصوديوم

ارتب مؤشرات حدوث التفاعل الكيميائي في الجدول التالي:

(تغير اللون - تصاعد الغازات - تكوين الرواسب - تحرير الطاقة - إزالة البريق)

.....	صدأ الحديد

الاسم:



اضع الكلمات التالية في مكانها المناسب:





(الطاقة - الشغل - طاقة الحركة - الاحتكاك - قانون حفظ الطاقة)

- ١- هو القوة المبذولة لتحريك جسم ما مسافة معينة.
- ٢- مقاومة تؤثر في عكس اتجاه القوة المبذولة.
- ٣- هي المقدرة على انجاز شغل ما.
- ٤- يعرف بأن الطاقة لا تفنى ولا تستحدث من العدم ولكنها تتحول من شكل الى اخر.
- ٥- هي الطاقة الناتجة عن حركة الجسم.



اختر الإجابة الصحيحة:

وحدة قياس الشغل هي :

الجول	متر	نيوتن
		يلزم بذل للتغلب على قوة الاحتكاك.
شغل مساوي	شغل اكبر	شغل اقل
تتحول الطاقة من.....		
كهربائية الى حركية	حركية الى كهربائية	كهربائية الى ضوئية
	الى طاقة حركة.	عند تحرير النابض تتحول طاقة
الوضع	الحركة	الاحتكاك



اكمل الفراغات التالية بما يناسبها:

الشغل = ×

الاسم:



اختر الإجابة الصحيحة:



ما نوع الآله في الصورة المجاورة:

السطح المائل	العجلة والمحور	الوتر
أداة تستخدم لتغيير مقدار القوة واتجاهها او مسافتها:		
الآله البسيطة	الآله المركبة	المجهر
عندما نجمع آلتين او اكثر من الآلات البسيطة معاً نحصل على :		
الآله البسيطة	الآله المركبة	المجهر




يمثل الشكل المجاور:

النوع الأول من الروافع	النوع الثاني من الروافع	النوع الثالث من الروافع
ما نوع الآله في الصورة المجاورة:		
وترد	البرغي	البكرة



تمثل الأشكال المجاورة:

الآلات البسيطة	الآلات المركبة	مجاهر
----------------	----------------	-------



اكمل الفراغات التالية بما يناسبها:

طول ذراع المقاومة في الرافعة

وطول ذراع القوة في الرافعة



الاسم:



اَضَع الكَلِمَات التَّالِيَةَ فِي مَكَانِهَا الْمُنَاسِبِ:

(الصدى - شدة الصوت - التردد - موجة صوتية - علو الصوت)

- ١- تسمى سلسلة من التضغوطات والتخلخلات المتتالية خلال مادة ما ب
- ٢- هي كمية الطاقة التي تحملها الموجة التي تعبر مساحة محددة خلال ثانية واحدة.
- ٣- هو ما يدركه الانسان من خلال إحساسه بشدة الموجات الصوتية.
- ٤- هو تكرار سماع الصوت بسبب انعكاس الموجات الصوتية.
- ٥- هو عدد مرات اهتزاز جسم ما خلال ثانية واحدة.



اختر الإجابة الصحيحة:

لا نستطيع سماع الأصوات في		
الهواء	البحار	الفضاء
تكون سرعة الصوت اكبر ما يمكن في		
المواد الغازية	المواد السائلة	المواد الصلبة
وحدة قياس التردد:		
نيوتن	الهرتز	السنة الضوئية
من فوائد الصدى:		
تحديد الوقت	تحديد المواقع	تحديد المواد العازلة
في أي مما يلي تكون سرعة الصوت اقل :		
الحديد	الماء	الهواء



اَضَع علامة (✓) أو (✗) أمام العبارات التالية:

سرعة انتقال الصوت اكبر في المواد الصلبة بسبب التصادم بين جزيئاتها

دون الاهتزاز لا نسمع الاصوات

الاسم:

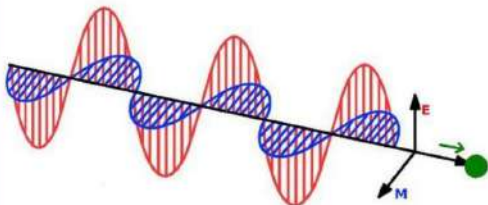


اختار الإجابة الصحيحة:

شكل من اشكال الطاقة نحس به بالعين:		
الصوت	الضوء	الحرارة
يسمى تداخل طاقة القوى الكهربائية وطاقة القوى المغناطيسية:		
الكهربائية	الكهرومائية	الكهرومغناطيسية
يستغرق ضوء الشمس للوصول الى الأرض:		
٨ دقائق	٨ ساعات	٨ سنوات
الاجسام التي لا ينفذ الضوء من خلالها:		
الاجسام الشفافة	الاجسام الشبه شفافة	الاجسام المعتمة
أي الاجسام التالية تسمح بنفوذ معظم الاشعة الضوئية عبرها:		
الكتاب	الزجاج	البلاستيك
عدسة تعمل على تفريق الاشعة المنكسرة فتباعد بينها:		
عدسة مستوية	عدسة مقعرة	عدسة محدبة
عدسة تعمل على تجميع الاشعة الضوئية المنكسرة في نقطة واحدة تسمى البؤرة:		
عدسة مستوية	عدسة مقعرة	عدسة محدبة



اضع الكلمات التالية في مكانها المناسب:



(انكسار الضوء - الفوتونات - انعكاس الضوء - طول الموجة)

- ١- المسافة بين قمتين متتاليتين او قاعين متتالين للموجة.
- ٢- اصغر جزء من الطاقة الضوئية يوجد بشكل مستقل.
- ٣- انحراف الضوء عن مساره.
- ٤- ارتداد الضوء عن الاسطح.

الاسم:

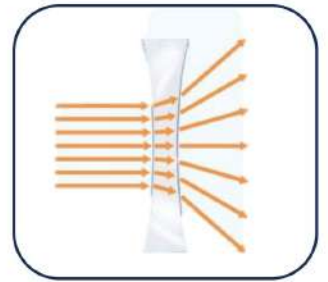



اختر الإجابة الصحيحة:

<p>يمثل الشكل التالي:</p> 	<p>انكسار الضوء هو الذي يجعل القلم يظهر مكسوراً بسبب:</p> 
<p><input type="checkbox"/> العدسة المحدبة <input type="checkbox"/> المنشور الزجاجي <input type="checkbox"/> العدسة المحدبة</p>	<p><input type="checkbox"/> انتقال الضوء بين وسطين شفافين مختلفين في الكثافة. <input type="checkbox"/> انتقال الضوء بين وسطين متشابهين. <input type="checkbox"/> انتقال الضوء بين وسطين معتمين.</p>

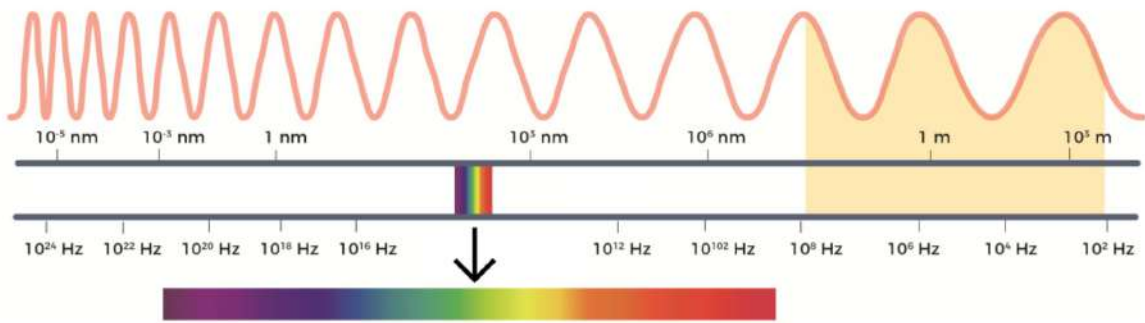


اسمي أنواع العدسات التالية:



أكمل الفراغات التالية بما يناسبها:

اللون له أكبر طول موجي اللون له اقصر طول موجي.



لَيْسَ هُنَاكَ فَشَلْ مَا م

نَتَوَقَّفُ عَنِ الْمَخَاوَلَةِ



الإجابات

وزارة التعليم
Ministry of Education

أوراق عمل مادة العلوم

الفصل الدراسي الثاني



الصف
الخامس ابتدائي

المعلمة: أمل الزهراني


اسم الطالبة:



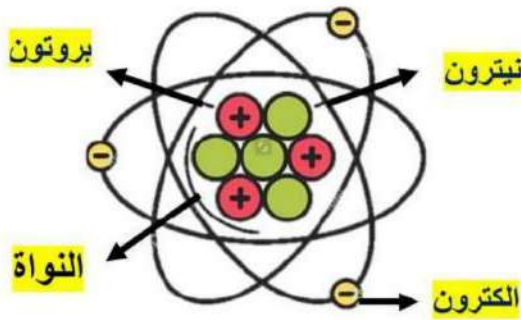
اكمل الفراغات التالية بما يناسبها:

(الذرة - العنصر - الفلزات - اللافلزات)

- ١-.....العنصر..... مادة نقية لا يمكن تجزئتها الى مواد اصغر.
- ٢-.....الفلزات..... توصل الحرارة والكهرباء وقابلة للتشكل.
- ٣-.....اللافلزات..... رديئة التوصيل للحرارة والكهرباء وهشة.
- ٤-.....الذرة..... اصغر وحدة في العنصر تحمل صفاته.



اضع الكلمات التالية في مكانها المناسب:



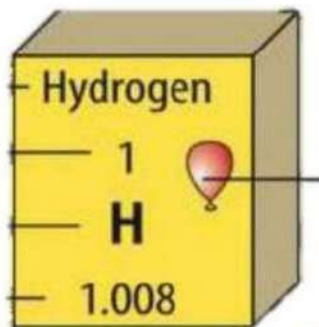
النواة
الالكترون
بروتون
نيوترون



اختر الإجابة الصحيحة:

		عندما ترتبط الذرات معاً تشكل ما يسمى ب.....
المركبات	الجزيئات	الذرات
العالم الذي رتب عناصر الجدول الدوري من الاخف الى الاثقل هو:		
مندليف	روبرت هوك	مندل
اكثر العناصر في الجدول الدوري هي:		
اشباه الفلزات	اللافلزات	الفلزات

اكمل بيانات عنصر الهيدروجين:

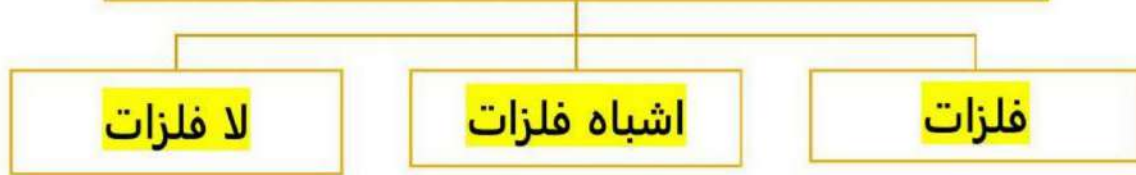


- حالة المادة للعنصر غازية
رمز العنصر H
العدد الذري للعنصر 1

موقع

اسم الطالبة:

صنف العلماء عناصر الجدول الدوري الى



اختار الإجابة الصحيحة:

تقع في الجانب الايسر والاوسط من الجدول الدوري:		
اشباه الفلزات	اللافلزات	الفلزات
يستعمل الألومنيوم في صناعة أواني الطبخ لأنه.....		
هش	موصل للحرارة	عازل للحرارة
يستعمل النحاس في صناعة الاسلاك الكهربائية لأنه.....		
غير موصل للحرارة والكهرباء	يسهل سحبه وتشكيله	غير قابل للسحب والتشكيل
تصنع مقابض أدوات الطبخ من الخشب او البلاستيك لأنها.....		
اشباه فلزات	فلزات موصلة للحرارة	لا فلزات غير موصلة للحرارة
يستعمل الكلور لتعقيم مياه الشرب وبرك السباحة لأنه.....		
ليس له تأثير	غاز نشط كيميائياً	غاز خامل

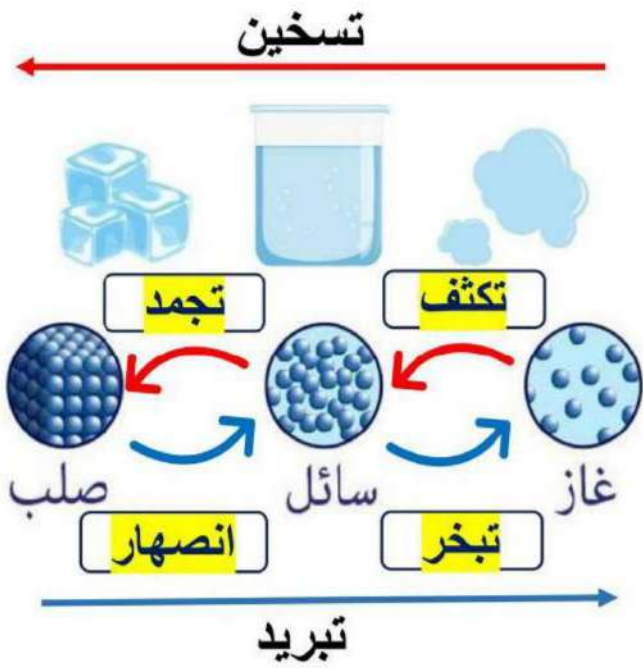


اكمل المنظم التخطيطي التالي:

اشباه الفلزات	اللافلزات	الفلزات	خصائصها
لها خصائص بين الفلزات واللافلزات غير لامعة وشبه موصلة للحرارة والكهرباء	غير لامعة - غير قابلة للتشكيل هشة رديئة التوصيل للحرارة والكهرباء	لامعة - قابلة للتشكيل والطرق والسحب - موصلة جيدة للحرارة والكهرباء	
بين الفلزات واللافلزات	يمين الجدول الدوري	يسار ومنتصف الجدول الدوري	موقعها في الجدول الدوري
سيلكون - بورون	اكسجين - كربون - فلور	نحاس - ذهب - فضة	أمثلة عليها

اسم الطالبة:

اضع الكلمات التالية في مكانها المناسب:



- تبخر
- تكثف
- انصهار
- تجمد



اختر الإجابة الصحيحة:

التغير الذي ينتج عن تغير شكل الجسم دون تغير نوع المادة المكونة له هو		
التغير المناخي	التغير الفيزيائي	التغير الكيميائي
في الحالة تتحرك جزيئات المادة حركة اهتزازية في مكانها.		
الصلبة	السائلة	الغازية
تحول المادة من الحالة الصلبة الى الحالة الغازية مباشرة دون ان تمر بالحالة السائلة يسمى		
التجمد	التسامي	التكثف
الدرجة التي تبدأ عندها المادة في الغليان:		
درجة الغليان	درجة التجمد	درجة الانصهار
يسمى زيادة حجم المادة نتيجة التغير في درجة حرارتها ب.....		
التبخر	التمدد الحراري	الانكماش الحراري
درجة حرارة غليان الماء :		
١٠٠ س	١٠ س	٠ س
يسمى نقصان حجم المادة نتيجة التغير في درجة حرارتها ب.....		
التجمد	التمدد الحراري	الانكماش الحراري

اسم الطالبة:



اختار الإجابة الصحيحة:

مادة نقية تتألف من اتحاد عنصرين أو أكثر.		
العنصر	المركب	الذرة
مركب يتكون نتيجة اتحاد الحديد مع الأكسجين.		
الماء	الأكسجين	صدأ الحديد
تغير ينتج عنه مواد جديدة تختلف صفاتها عن مكوناتها:		
التغير المناخي	التغير الفيزيائي	التغير الكيميائي
المواد الأصلية التي توجد قبل بدء التفاعل الكيميائي:		
المواد الناتجة	المواد المتفاعلة	المواد المترسبة
مواد صلبة تتكون نتيجة التفاعل الكيميائي بين مكونات محلولين مختلفين:		
غاز الكلور	الصدأ	الرواسب
المواد الناتجة في التفاعل المجاور:		
هيدروجين + أكسجين	الماء	الهيدروجين
المواد المتفاعلة في التفاعل المجاور:	كلوريد الصوديوم	كلور صوديوم
كلوريد الصوديوم	كلور + صوديوم	الصوديوم

ارتب مؤشرات حدوث التفاعل الكيميائي في الجدول التالي:

(تغير اللون - تصاعد الغازات - تكوين الرواسب - تحرير الطاقة - إزالة البريق)

تكوين الرواسب	إزالة البريق	تغير اللون	تصاعد الغازات	تحرير الطاقة

اسم الطالبة:



اضع الكلمات التالية في مكانها المناسب:

(الطاقة - الشغل - طاقة الحركة - الاحتكاك - قانون حفظ الطاقة)

- ١-.....الشغل..... هو القوة المبذولة لتحريك جسم ما مسافة معينة.
- ٢-.....الاحتكاك..... مقاومة تؤثر في عكس اتجاه القوة المبذولة.
- ٣-.....الطاقة..... هي المقدرة على انجاز شغل ما.
- ٤-.....حفظ الطاقة..... يعرف بأن الطاقة لا تبنى ولا تستحدث من العدم ولكنها تتحول من شكل الى اخر.
- ٥-.....طاقة الحركة..... هي الطاقة الناتجة عن حركة الجسم.



اختر الإجابة الصحيحة:

وحدة قياس الشغل هي :		
الجول	متر	نيوتن
		يلزم بذل للتغلب على قوة الاحتكاك.
شغل مساوي	شغل اكبر	شغل اقل
تتحول الطاقة من..... 		
كهربائية الى حركية	حركية الى كهربائية	كهربائية الى ضوئية
	عند تحرير النابض تتحول طاقة الى طاقة حركية.	
الوضع	الحركة	الاحتكاك



اكمل الفراغات التالية بما يناسبها:

الشغل = القوة × المسافة






موقع

مادنتيري

اسم الطالبة:




اختار الإجابة الصحيحة:

 <p>ما نوع الآله في الصورة المجاورة:</p>		
السطح المائل	العجلة والمحور	الوتد
<p>أداة تستخدم لتغيير مقدار القوة واتجاهها او مسافتها:</p>		
الالة البسيطة	الاله المركبة	المجهر
<p>عندما نجمع آلتين او اكثر من الآلات البسيطة معاً نحصل على :</p>		
الاله البسيطة	الاله المركبة	المجهر
<p>يمثل الشكل المجاور:</p>		
		النوع الأول من الروافع
النوع الثالث من الروافع	النوع الثاني من الروافع	
<p>ما نوع الاله في الصورة المجاورة:</p>		
		
وتد	البرغي	البكرة
<p>تمثل الاشكال المجاورة:</p>		
		
الآلات البسيطة	الآلات المركبة	مجاهر

اكمل الفراغات التالية بما يناسبها:

طول ذراع المقاومة في الرافعة ٥٠ سم
وطول ذراع القوة في الرافعة ١٢٠ سم





اسم الطالبة:



اِضع الكلمات التالية في مكانها المناسب:

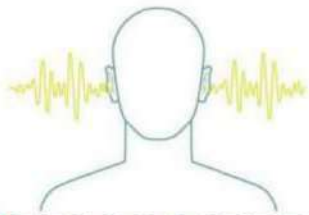
(الصدى - شدة الصوت - التردد - موجة صوتية - علو الصوت)

- ١- تسمى سلسلة من التضاعطات والتخلخلات المتنقلة خلال مادة ما ب موجة صوتية
- ٢- ... شدة الصوت... هي كمية الطاقة التي تحملها الموجة التي تعبر مساحة محددة خلال ثانية واحدة.
- ٣- ... علو الصوت... هو ما يدركه الانسان من خلال إحساسه بشدة الموجات الصوتية.
- ٤- ... الصدى... هو تكرار سماع الصوت بسبب انعكاس الموجات الصوتية.
- ٥- ... التردد... هو عدد مرات اهتزاز جسم ما خلال ثانية واحدة.



اختر الإجابة الصحيحة:

لا نستطيع سماع الأصوات في		
الفضاء	البحار	الهواء
تكون سرعة الصوت اكبر ما يمكن في		
المواد الصلبة	المواد السائلة	المواد الغازية
وحدة قياس التردد:		
السنة الضوئية	الهرتز	نيوتن
من فوائد الصدى:		
تحديد المواد العازلة	تحديد المواقع	تحديد الوقت
في أي مما يلي تكون سرعة الصوت اقل :		
الهواء	الماء	الحديد



اِضع علامة (✓) أو (✗) أمام العبارات التالية:



سرعة انتقال الصوت اكبر في المواد الصلبة بسبب التصادم بين جزيئاتها



دون الاهتزاز لا نسمع الاصوات

اسم الطالبة:



اختار الإجابة الصحيحة:

شكل من اشكال الطاقة نحس به بالعين:		
الصوت	الضوء	الحرارة
يسمى تداخل طاقة القوى الكهربائية وطاقة القوى المغناطيسية:		
الكهربائية	الكهرومائية	الكهرومغناطيسية
يستغرق ضوء الشمس للوصول الى الأرض:		
٨ دقائق	٨ ساعات	٨ سنوات
الاجسام التي لا ينفذ الضوء من خلالها:		
الاجسام الشفافة	الاجسام الشبه شفافة	الاجسام المعتمة
أي الاجسام التالية تسمح بنفوذ معظم الاشعة الضوئية عبرها:		
الكتاب	الزجاج	البلاستيك
عدسة تعمل على تفريق الاشعة المنكسرة فتباعد بينها:		
عدسة مستوية	عدسة مقعرة	عدسة محدبة
عدسة تعمل على تجميع الاشعة الضوئية المنكسرة في نقطة واحدة تسمى البؤرة:		
عدسة مستوية	عدسة مقعرة	عدسة محدبة



اضع الكلمات التالية في مكانها المناسب:

(انكسار الضوء - الفوتونات - انعكاس الضوء - طول الموجة)

- ١- طول الموجة..... المسافة بين قمتين متتاليتين او قاعين متتالين للموجة.
- ٢- فوتونات... اصغر جزء من الطاقة الضوئية يوجد بشكل مستقل.
- ٣- انكسار الضوء... انحراف الضوء عن مساره.
- ٤- انعكاس الضوء..... ارتداد الضوء عن الاسطح.

موقع

اسم الطالبة:




اختر الإجابة الصحيحة:

<p>يمثل الشكل التالي:</p> 	<p>انكسار الضوء هو الذي يجعل القلم يظهر مكسوراً بسبب:</p> 
<p><input type="checkbox"/> العدسة المحدبة <input type="checkbox"/> المنشور الزجاجي <input type="checkbox"/> العدسة المحدبة</p>	<p><input type="checkbox"/> انتقال الضوء بين وسطين شفافين مختلفين في الكثافة. <input type="checkbox"/> انتقال الضوء بين وسطين متشابهين. <input type="checkbox"/> انتقال الضوء بين وسطين معتمين.</p>



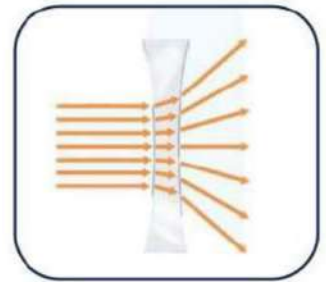
اسمي أنواع العدسات التالية:



عدسة محدبة



عدسة مستوية

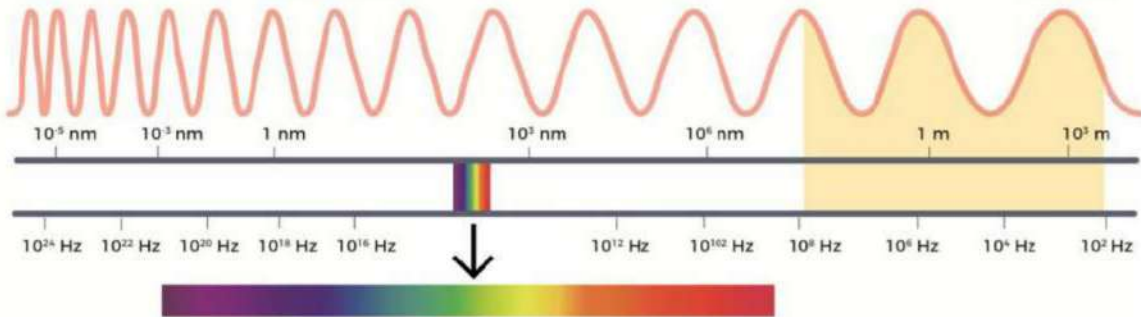


عدسة مقعرة

أكمل الفراغات التالية بما يناسبها:

اللون البنفسجي.... له اقصر طول موجي.

اللون ... الاحمر.. له أكبر طول موجي



موقع **مادنتري**

لَيْسَ هُنَاكَ فَشَلْ مَا لَمْ