

تم تحميل وعرض المادة من



موقع مادتي هو موقع تعليمي يعمل على مساعدة المعلمين والطلاب وأولياء الأمور في تقديم حلول الكتب المدرسية والاختبارات وشرح الدروس والملاحظات والتحاير وتوزيع المنهج لكل المراحل الدراسية بشكل واضح وسهل مجاناً

حمل تطبيق مادتي ليصلك كل جديد



اسم الطالبة/.....

الصف/الأول الابتدائي

المادة/ العلوم


اختبار تشخيصي لمادة العلوم الصف الأول لعام ١٤٤ هـ

(درجتان لكل فقرة)

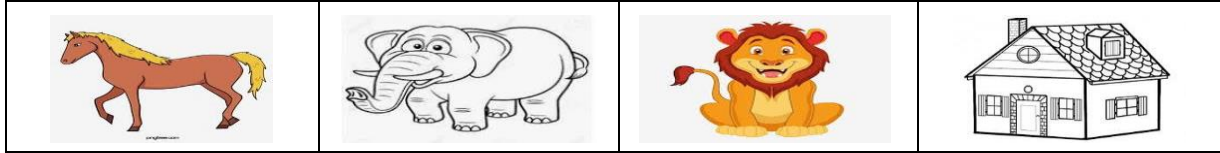
١٠ درجات

* / نحيط الأجابة الصحيحة :


١ / من المخلوقات الحية :




٢ / من الأشياء غير الحية :



٣ / جزء من النبات ينبت ثم ينمو ليصير نبات جديد هو :



٣ / موطن تنمو فيه أشجار كثيرة وطويلة هي :



٥ / موطن من مواطن المياه العذبة تحيط بها اليابسة :



اسم الطالبة/.....

الصف/الأول الابتدائي

المادة/ العلوم

نموذج الإجابة

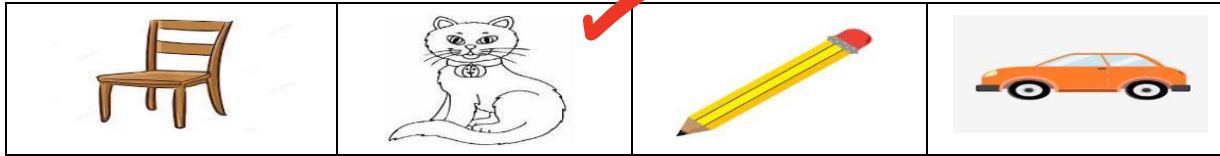
اختبار تشخيصي لمادة العلوم الصف الأول لعام ١٤٤ هـ

(درجتان لكل فقرة)

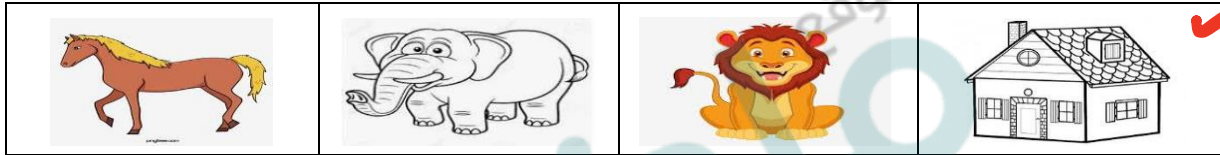
١٠ درجات

* / نحيط الأجابة الصحيحة :


١ / من المخلوقات الحية :




٢ / من الأشياء غير الحية :



٣ / جزء من النبات ينبت ثم ينمو ليصير نبات جديد هو :



٣ / موطن تنمو فيه أشجار كثيرة وطويلة هي :



٥ / موطن من مواطن المياه العذبة تحيط بها اليابسة :

